



Republika e Kosovës
Republika Kosova-Republic of Kosovo
Qeveria - Vlada - Government

Ministria e Infrastrukturës, Ministarstvo Infrastrukture, Ministry of Infrastructure

Nr. 132 /2017
Datë: 11.01

Sekretari i Përgjithshëm i Ministrisë së Infrastrukturës, në mbështetje të nenit 145 (paragrafi 2), të Kushtetutës së Republikës së Kosovës, në bazë të nenit 38 të Ligjit nr. 03/L-189 për Administratën Shtetërore të Republikës së Kosovës, (Gazeta Zyrtare nr.82, datë 21 tetor 2010), nenit 128 të Ligjit nr.05/L-064 për Patentë Shofer, nenit 17 (paragrafi 5 dhe paragrafi 6) të Rregullores nr. 02/2011 për fushat e përgjegjësisë administrative të Zyrës së Kryeministrit dhe Ministrive (22.03.2011), si dhe në bazë të nenit 5 (paragrafi 5.4.c) të Rregullores nr.2001/19 për Degën e Ekzekutivit, nxjerr këtë:

V E N D I M

- I. Obligohet Departamenti i Financave dhe Shërbimeve të Përgjithshme (Divizioni për Teknologji Informative dhe Shërbime Logjistike) të publikoj pyetjet për dhënien e provimit për patentë shofer për kategorinë “B” në web faqen e Ministrisë së Infrastrukturës.
- II. Pyetjet për dhënien e provimit për patentë shofer për kategorinë “B” janë pronë e Ministrisë së Infrastrukturës.
- III. Ndalohet çdo lloj publikimi, kopjimi, shpërndarje në mënyrë fizike apo elektronike të pyetjeve të cekura në pikën I të këtij vendimi apo çfarëdo forme tjetër e përfitimit material nga personat fizik apo juridik.
- IV. Vendimi hynë në fuqi në ditën e nënshkrimit.

Vendimi i dergohet:

- Kabinetit të Ministrit;
- Zyrës së Sekretarit të Përgjithshëm;
- Departamentit të FSHP;
- Divizionit për Zhvillim dhe Përgaditjen e Testeve për Patent Shofer;
- Divizioni për Teknologji Informative dhe Shërbime Logjistike dhe
- Arkivit të MI-së.



1001. Çka duhet të keni parasysh në këtë situatë?

- Anashkalimin e obliguar nga ana e majtë.
- Në përshtatje të shpejtësisë.
- Vendkalimin e shënuar për këmbësorë.



1002. Çfarë domethënie kanë dritat në semafor?

- Kalimi i lirë, por me kujdes të shtuar.
- Përgatitje për nisje.
- Së shpejti do të ndizet drita e gjelbër.



1003. Si duhet të veproni në këtë situatë?

- Duhet të ndalem për t'i dhënë përparësi kalimi këmbësorit.
- Do të vazhdoj lëvizjen djathtas pa u ndalur, por me kujdes të shtuar.
- Do të sinjalizoj me tregues të drejtimit kthimin djathtas.




1004. Çka duhet të keni parasysh në këtë situatë?

- Në vendkalim të këmbësorve.
- Këmbësorët mund të hyjnë në vendkalim që të kalojnë rrugën.
- Sipas nevojës, do ta zvogëloj shpejtësinë dhe do të jam i gatshëm për frenim.



1005. A ju lejohet ndërrimi i shiritit për kthim majtas, në këtë situatë?

- Po, nëse nuk pengohen mjetet që lëvizin prapa.
- Jo, në asnjë rast.
- Po, duhet të sinjalizoj veprimin me treguesit e drejtimit.



1006. Rruga ka dy shirita të trafikut në një kah të lëvizjes. A ju lejohet tejkalimi në kthesa të padukshme?

- Jo, në asnjë rast.
- Po, një veprim i tillë lejohet me rregullat e trafikut.
- Jo, vetëm gjatë kushteve të vështira atmosferike.



1007. Çfarë kujdesi do të keni në këtë situatë?

- Do të vazhdoj lëvizjen me shpejtësi të zvogëluar.
- Në këmbësorët që dalin prapa autobusit dhe mund ta kalojnë rrugën.
- Në këmbësorët që mund të dalin përpara autobusit për ta kaluar rrugën.



1008. Çka duhet të keni parasysh në këtë situatë?

- Në zvogëlim të shpejtësisë së lëvizjes dhe do të rris kujdesin.
- Do të jem i gatshëm të reagoj në rast nevoje.
- Do të përdori shenjën akustike (borinë) që këmbësorët të largohen nga rruga.



1009. Çka duhet të keni parasysh gjatë ngasjes në këtë situatë?

- Në punimet në rrugë.
- Në kufizim të shpejtësisë së lëvizjes.
- Në ngushtim rruge nga ana e majtë.



1010. A ju lejohet tejkalimi i kolonës së mjeteve?

- Po, nëse nuk pengohen mjetet nga prapa.
- Po, sepse nuk ka mjete nga kahu i kundërt dhe me shenja nuk është i ndaluar.
- Jo, në asnjë rast.



1011. A duhet vendosur trekëndëshin e sigurisë pas automjetit të ndaluar në defekt në autoudhë?

- Po, në largësi prej 30 - 50 metrash pas mjetit të ndalur.
- Jo, nëse rruga është me dukshmëri të mirë.
- Po, në largësi prej së paku 100 metrash.



1012. Cilat veprime ju ndalohen në autoudhë?

- Lëvizja me shpejtësi deri në 130 km/h.
- Lëvizja me shpejtësi mbi 130 km/h.
- Kthimi gjysmërrethor.



1013. Shoferi ka parkuar automjetin e udhëtarëve (veturën) në situatën si në foto. Si e vlerësoni këtë veprim ?

- Drejt.
- Jo drejt.
- Në kundërshtim me rregullat e trafikut.



1014. Si duhet të veproni në këtë situatë?

- Do të ndalem për t'i dhënë përparësi kalimi këmbësorit.
- Vazhdimin e lëvizjes pa u ndalur.
- Me shenjë akustike (bori) do të lajmëroj këmbësorin të largohet nga rruga.



1015. Çfarë kujdesi duhet të keni në rast të tejkalimit në situatën si në foto?

- Distanca anësore duhet të jetë së paku 1.5m.
- Distanca anësore duhet të jetë së paku 1m.
- Do të sinjalizoj veprimin me tregues të drejtimit.



1016. Si duhet të veproni në këtë situatë?

- Do të mbaj distancë të mjaftueshme të sigurisë.
- Do të përdor shenjën akustike (borinë) për t'u larguar kafshët nga rruga.
- Do të zvogëloj shpejtësinë e lëvizjes, sipas nevojës do të ndalem.



1017. Çfarë paralajmëron shenja e trafikut në këtë situatë?

- Vendin ku gjendet vendndalja e autobusit.
- Vendin për ndalje të detyrueshme të mjetit.
- Vendin ku gjendet vendndalja e tramvajit, autobusit dhe mjeteve tjera të transportit publik.



1018. Cilat veprime janë të lejuara në këtë pjesë të rrugës?

- Lëvizja me shpejtësi mbi 80 km/h.
- Lëvizja me shpejtësi deri në 80 km/h.
- Tejkalimi.



1019. A lejohet parkimi i mjetit në trotuar, në këtë situatë?

- Jo, pasi pengohet dhe rrezikohet trafiku.
- Po.
- Po, sepse nuk ka këmbësorë në rrugë.



1020. Cilat veprime ju ndalohen në këtë situatë?

- Ndalja dhe parkimi i mjetit.
- Tejkalimi.
- Lëvizja me shpejtësi deri në 40 km/h.



1021. Autobusi hyn në shiritin e trafikut nga vendndalja e autobusit jashtë zonës urbane. Çka duhet të keni parasysh në këtë situatë?

- Kam përparësi kalimi ndaj autobusit.
- Duhet t'ia mundësoj autobusit hyrjen në trafik.
- Do të vazhdoj lëvizjen me kujdes të shtuar, pasi që këmbësorët mund të dalin në rrugë.



1022. Çka duhet të kemi parasysh në këtë situatë?

- Në zvoglim të distancës së sigurisë ndaj mjetit që lëviz para meje.
- Në përdorimin e pajisjeve dimërore.
- Në distancë të sigurisë prej së paku 3 sekondash.



1023. Çka duhet të keni parasysh në këtë situatë ?

- Do t'i jap përparësi kalimi këmbësorit.
- Në shenjë të trafikut “Afërsi e kryqëzimit me rrethrotullim”.
- Në kryqëzim ku lejohet tejkalimi.



1024. A i lejohet automjetit të udhëtarëve (veturës) parkimi në këtë situatë?

- Po, pasi që rruga ka hapsirë të mjaftueshme.
- Jo, në asnjë rast.
- Po, nëse parkimi zgjat jo më shumë se 3 minuta.



1025. Cilat veprime ju lejohen në këtë situatë?

- Lëvizja drejt duke respektuar semaforin.
- Lëvizja djathtas duke mos respektuar semaforin por shenjën e trafikut.
- Lëvizja drejt dhe djathtas çdo herë duke respektuar vetëm semaforin.



1026. Çka duhet të keni parasysh në këtë situatë?

- Në respektim të shpejtësisë maksimale të lëvizjes.
- Në ndalim të tejkalimit.
- Fillon autoudha nga shenja e trafikut.



1027. Çka duhet të keni parasysh në këtë situatë?

- Do të respektoj shenjat e trafikut.
- Do t'i jap përparësi kalimi mjeteve të cilat lëvizin në kryqëzim.
- Kam përparësi kalimi në raport me mjetet që lëvizin në kryqëzim.



1028. Pse distanca e sigurisë duhet të jetë më e gjatë gjatë lëvizjes në rrugë me borë?

- Rruga e frenimit është më e gjatë.
- Rruga e ndaljes është më e gjatë.
- Rruga e reagimit është më e gjatë.



1029. A ju lejohej tejkalimi në këtë situatë?

- Jo, është e ndaluar me sinjalzim horizontal.
- Po, vetëm automjetin e parë.
- Po, rruga nga kahu i kundër është e lirë.



1030. Çka duhet të keni parasysh në këtë situatë?

- Do të vazhdoj lëvizjen me kujdes të shtuar, sipas nevojës do të ndalem.
- Do të përdor shenjën akustike dhe nuk do të ndalem.
- Do t'u jap përparësi kalimi këmbësorëve.



1031. Autobusi është ndalur në vendndalje, në rrugë jashtë zoneve urbane. Çka duhet të keni parasysh?

- Në udhëtarët të cilët mund të dalin pas autobusit.
- Në udhëtarët të cilët mund të dalin para autobusit.
- Me shpejtësi të zvogëluar dhe kujdes të shtuar do ta vazhdoj lëvizjen.



1032. Në cilat raste lejohej përdorimi i shiritit nr. 1 në autoudhë?

- Për lëvizjen e mjeteve të cilat nuk mund të lëvizin me shpejtësi mbi 60 km/h.
- Për tejkalim të automjetve të cilat lëvizin shumë ngadal.
- Për ndalje të detyrueshme në rast të defektit në automjet.



1033. Gjatë lëvizjes në autoudhë si në këtë situatë, nëpër cilin shirit të trafikut duhet të lëvizni?

- Në shiritin nr 1.
- Në shiritin nr 2.
- Në shiritin nr 3, nëse është i lirë.



1034. Çka duhet të keni parasysh në këtë situatë?

- Do të ndalem, derisa të kalojnë këmbësorët.
- Do të lëviz me kujdes të shtuar.
- Do të vëzhgoj (përcjell) këmbësorët në trotuar.



1035. Cilat veprime ju lejohen në këtë situatë?

- Ndërrimi i shiritit djathtas.
- Kthimi gjysmërrethor.
- Lëvizja drejt.



1036. Çka duhet të keni parasysh në rast të tejkalimit të biçiklistit?

- Distanca anësore nuk duhet të jetë më e vogël se 1 metër.
- Distanca anësore nuk duhet të jetë më e vogël se 1.5 metra.
- Do t'i ndez të gjithë treguesit e drejtimit.



1037. Shoferi i automjetit të udhëtarëve (veturës) tejkalon bashkësinë e mjeteve, në këtë situatë. Si e vlerësoni këtë veprim?

- Jo të drejt.
- Të drejtë, sipas rregullave të trafikut.
- Në kundërshtim me rregullat e trafikut.



1038. Si duhet të veproni në këtë situatë?

- Do të ndalem para vendkalimit të këmbësorëve, për t'i dhënë përparësi kalimi këmbësorit.
- Do të vazhdoj lëvizjen pa u ndalur, këmbësori është duke lëvizur shumë ngadal.
- Do të vazhdoj lëvizjen pasi këmbësori të kaloj rrugën.



1039. Çfarë kujdesi duhet të keni në këtë situatë?

- Në përshtatje të shpejtësisë për shkak të kthesës djathtas.
- Nuk do të lëviz me shpejtësi më të madhe se 40 km/h.
- Në përshtatje të shpejtësisë për shkak të kthesës majtas.



1040. Çfarë kujdesi duhet të keni në këtë situatë?

- Në kryqëzim me rrugën e dorës së dytë nën kënd të ngushtë.
- Mund të has në mjetet që vijnë nga rruga e dorës së dytë.
- Në kryqëzim me rrugën e dorës së dytë në kënd të drejtë.



1041. Në çka duhet të llogaritni në këtë situatë?

- Në afërsi të ngushtim rruge nga dy anët.
- Në pjesën e rrugës ku ndalohet tejkalimi i automjeteve.
- Në afërsi të rrugës ku kanoset rreziku nga shembja e gurëve.



1042. Çfarë kujdesi do të keni në këtë situatë?

- Do të ndalem për t'i dhënë përparësi kalimi mjetit i cili vjen nga kahu i kundërt i lëvizjes.
- Do të vazhdoj lëvizjen para mjetit i cili vjen nga kahu i kundërt i lëvizjes.
- Në respektim të shenjës së trafikut.



1043. Çka duhet të keni parasysh në këtë situatë?

- Do të vazhdoj lëvizjen para veturës së kuqe.
- Do t'i jap përparësi kalimi veturës së kuqe.
- Në respektim të rregullës së krahut të djathtë.



1044. Çka duhet të keni parasysh në këtë situatë?

- Në afërsi të kthesës së rrezikshme djathtas.
- Në afërsi të kthesës së rrezikshme majtas.
- Në ndalim të tejkalimit të automjeteve, përveç motoçikletave pa rimorkio anësore.



1045. Shoferi e ka parkuar automjetin e udhëtarëve (veturën) në situatën si në foto. Si e vlerësoni këtë veprim?

- Drejt, nëse i ka të ndezur të gjitha treguesit të drejtimit.
- Jo drejt.
- Në kundërshtim me rregullat e trafikut.



1046. A ju lejohet tejkalimi i dy mjeteve njëkohësisht?

- Jo, në asnjë rast.
- Po, nëse rruga nga kahu i kundërt është e lirë dhe me shenja të trafikut nuk është i ndaluar.
- Jo, vetëm jashtë zonave urbane.



1047. Fëmijët ndodhen pranë rrugës. Çfarë kujdesi do të keni në këtë situatë?

- Sipas nevojës do të zvogëloj shpejtësinë.
- Të mos i rrezikoj këmbësorët.
- Në vëzhgim të situatës, pasi që fëmijët mund të dalin në rrugë.



1048. Jashtë zonës urbane në rrugën nacionale e keni ndaluar mjetin për shkak defektit. Çfarë kujdesi duhet të keni?

- Në ndezjen e të gjithë treguesve të drejtimit.
- Në vendosjen e trekëndëshit të sigurisë prapa mjetit në distancë së paku 100 metra.
- Në vendosjen e trekëndshit të sigurisë prapa mjetit në distancë prej 30 - 50 metra.



1049. Si do të veproni në këtë situatë?

- Do të ndalem prapa autobusit dhe të pres derisa të niset nga vendndalja e tij.
- Duhet të vazhdoj lëvizjen me shpejtësi të rritur, pasi që autobusi është i ndalur në vendaljen për autobusë.
- Do të vazhdoj lëvizjen me kujdes të shtuar.



1050. Çka duhet të keni parasysh në këtë situatë?

- Në vendkalimin hekurudhor pa mbrojtës ose gjysmëmbrojtës.
- Në vendkalimin hekurudhor me mbrojtës ose gjysmëmbrojtës.
- Në vendkalimin hekurudhor të rregulluar me shenja ndriçuese.



1051. Çka duhet të keni parasysh në këtë situatë?

- Përparësia e kalimit gjatë përballëkalimit është rregulluar me shenja të trafikut.
- Jam i obliguar të ndalem për t'i dhënë përparësi kalimi mjetit i cili lëvizë nga kahu i kundërt.
- Kam përparësi kalimi në raport me mjetin i cili lëviz nga kahu i kundërt.



1052. Çfarë kujdesi do të keni në këtë situatë?

- Do të vazhdoj lëvizjen pa u ndalur, pasi që rruga është e lirë.
- Do të respektoj shenjën e trafikut.
- Do t'i jap përparësi kalimi rrugës tërthore.



1053. A ju lejohej tejkalimi i mjetit në këtë situatë?

- Po, nga të dy anët.
- Jo, në asnjë rast.
- Po, vetëm nga ana e djathtë.



1054. Çka duhet të keni parasysh në këtë situatë?

- Vetëm në ndalim të parkimit.
- Në ndalim të ndaljes dhe parkimit.
- Në distancë të sigurisë ndaj mjetit i cili lëviz përpara.



1055. Çfarë kujdesi duhet të keni në këtë situatë?

- Më lejohej lëvizja drejt dhe djathtas.
- Në vendkalim të këmbësorëve.
- Më lejohej ndërrimi i shiritit.



1056. Çfarë kujdesi duhet të keni në këtë situatë?

- Unë kam përparësi kalimi në raport me mjetet të cilat lëvizin në kryqëzim me rrethrotullim.
- Në kryqëzim ku lejohej tejkalimi.
- Mjetet të cilat lëvizin në kryqëzim me rrethrotullim kanë përparësi kalimi.



1057. A ju lejohet tejkalimi i mjetit në këtë situatë?

- Po, pasi që nuk ka trafik nga kahu i kundërt.
- Jo.
- Po, pasi që nuk e kam të ndaluar me shenja në rrugë.



1058. Si do të veproni në situatën si në foto?

- Do të lëviz me shpejtësi të rritur para se të hyjë autobusi në shiritin e trafikut.
- Do të mundësoj hyrjen e autobusit në shiritin e trafikut.
- Do të rris kujdesin pasi që këmbësorët mund të dalin në rrugë.




1059. Në semafor ndriçon drita e verdhë vezulluese. A ju lejohet kthimi djathtas?

- Jo, në asnjë rast.
- Po, unë kam përparësi kalimi në raport me këmbësorët të cilët janë duke kaluar rrugën.
- Po, por duhet dhënë përparësi kalimi këmbësorëve të cilët janë duke kaluar rrugën.



1060. Nga cila anë ju lejohet anashkalimi në këtë situatë?

- Nga ana e majtë.
- Nga ana e djathtë.
- Vetëm nga ana e majtë.



1061. A ju lejohet tejkalimi në këtë situatë?

- Jo, pasi që është në kundërshtim me shenjat në rrugë.
- Po, pasi që nuk e kam të ndaluar me shenjat në rrugë.
- Po, pasi që nga kahu i kundërt rruga është e lirë.



1062. Çka duhet të keni parasysh në këtë situatë?

- Në vendkalim të këmbësorëve.
- Më lejohet lëvizja drejt.
- Më lejohet lëvizja djathtas.



1063. Si duhet të veproni në këtë situatë?

- Do të përdor shenjën akustike (borinë) për ta paralajmëruar këmbësorin të largohet nga rruga.
- Do të vazhdoj lëvizjen pasi të kalojë këmbësori.
- Do të ndalem për t'i dhënë përparësi kalimi këmbësorit.




1064. Si duhet të veproni në këtë situatë?

- Do të lëviz me shpejtësi të zvogëluar.
- Do të rris kujdesin, në rast frenimi rruga e frenimit është më e gjatë.
- Do të vazhdoj lëvizjen duke e rritur shpejtësinë, pasi që rruga është e lirë.



1065. Cilat veprime ju lejohen në këtë situatë?

- Kthimi majtas.
- Kthimi djathtas.
- Kthimi gjysmërrethor.



1066. A ju lejohet tejkalimi në këtë situatë ?

- Jo.
- Po, sipas rregullave të parapara të trafikut.
- Jo, me shenja në rrugë është i ndaluar.



1067. Në çka do të llogaritni në këtë situatë?

- Në distancë 80m nga vendkalimi hekurudhor.
- Në afërsi të vendkalimit hekurudhor pa mbrojtëse ose gjysmëmbrojtëse.
- Në afërsi të vendkalimit hekurudhor me mbrojtëse ose gjysmëmbrojtëse.



1068. A ju lejohet tejkalimi i motokultivatorit në këtë situatë?

- Po, nëse nuk i rrezikoj dhe pengoj pjesëmarrësit tjerë në trafik.
- Jo, është në kundërshtim me rregullat e trafikut.
- Po, vetëm gjatë lëvizjes brenda zonës urbane.



1069. Si do të veproni në këtë situatë?

- Do të ndalem para vendkalimit të këmbësorëve.
- Do të vazhdoj lëvizjen pa u ndalur.
- Do të përdor shenjën akustike që t'i paralajmëroj këmbësorët për prezencën time.



1070. A lejohet ndalja ose parkimi i automjetit në fushën për orientimin e trafikut rrugor ?

- Jo.
- Po, deri në tre minuta.
- Po, nëse i ka ndezur të gjithë treguesit e drejtimit.




1071. Çka duhet të keni parasysh në situatën si në foto?

- Në kryqëzim me rrugën me përparsi kalimi.
- Në kryqëzim me rrethrotullim.
- Për shkakë kushteve atmosferike, rruga e frenimit do të rritet.



1072. Si duhet vepruar shoferi i automjetit të udhëtarëve (veturës), deri sa jeni duke e tejkaluar?

- Nuk i lejohet rritja e shpejtësisë së lëvizjes.
- Të lëvizë sa më afër mesit të rrugës.
- Të lëvizë sa më afër skajit të djathtë të rrugës.



1073. Në semafor është e ndezur shigjeta e gjelbër. A ju lejohe lëvizja në këtë situatë?

- Po, djathtas duke iu dhënë përparësi kalimi të gjithë pjesëmarrësve në trafik.
- Jo, në asnjë drejtim.
- Po, djathtas, drejtë ose majtas.



1074. Çka duhet llogaritur në këtë situatë?

- Në kujdes të shtuar dhe do të vazhdoj lëvizjen me shpejtësi të zvogëluar.
- Do të përdor shenjën akustike (borinë) dhe do ta vazhdoj lëvizjen me shpejtësi të njëjtë.
- Këmbësorët mund të dalin në rrugë në mënyrë spontane.



1075. Si do të veproni në këtë situatë?

- Do të rris shpejtësinë e lëvizjes, fillon trafiku në autoudhë.
- Do të zvogëloj shpejtësinë e lëvizjes, përfundon trafiku në autoudhë.
- Do të zvogëloj shpejtësinë e lëvizjes, përfundon trafiku në rrugë nacionale.



1076. Në çka duhet të llogaritni në këtë situatë?

- Në kryqëzim me rrethrotullim.
- Mjetet të cilat lëvizin në rrethrotullim kanë përparësi kalimi.
- Në kryqëzim, ku lejohe tejkalimi.



1077. Çka duhet të keni parasysh në këtë situatë?

- Në përshtatje të shpejtësisë për shkakë të kthesës.
- Afërsinë e kthesës në të djathtë.
- Në ndalim tejkalimi për të gjitha automjetet, përveç motoçikletave pa rimorkio anësore.



1078. Kur duhet vendosur dy trekëndësha të sigurisë, si në foto?

- Me rastin e ndaljes së automjetit të udhëtarëve (veturës) në rrugë për shkak të defektit.
- Me rastin e ndaljes së kolonës së mjeteve në rrugë për shkak të defektit.
- Me rastin e ndaljes së mjetit në rrugë, i cili bart materiale të rrezikshme, për shkak të defektit.



1079. Çka duhet të keni parasysh në këtë situatë?

- Do të zvogëloj shpejtësinë e lëvizjes.
- Do të përshtas shkallën e transmisioni (ndërruesi i shpejtësisë).
- Nuk do të frenoj vullshëm.



1080. A ju lejohe tejkalimi i tramvajit në këtë situatë?

- Jo, në asnjë rast.
- Po, vetëm nga ana e djathtë.
- Po, nga cilado anë djathtas apo majtas.



1081. Nga shiriti i majtë i skajshëm, në cilat drejtime ju lejohet lëvizja?

- Majtas.
- Kthimi gjysmërrethor.
- Drejt.



1082. Çka duhet të keni parasysh këtë situatë?

- Në respektim të semaforit.
- Duhet të ndalem para kryqëzimit.
- Nuk më lejohet ndërrimi i shiritave të trafikut.



1083. A ju lejohet tejkalimi në këtë situatë?

- Jo, pasi që e kam të ndaluar me shenja në rrugë.
- Jo, pasi që tejkalimi i kamionit është i ndaluar.
- Po.



1084. Çka duhet të keni parasysh në këtë situatë?

- Në rast frenimi, automjeti mund të bartet.
- Duhet të lëviz me shpejtësi të rritur, sepse automjeti im është i pajisur me pneumatikë M+S.
- Në rast frenimi, rruga e ndaljes do të zgjatet.



1085. Çka paraqesin shenjat e trafikut dhe shenjat në rrugë në këtë situatë?

- Kufizimin e shpejtësisë së lëvizjes.
- Rekomandim të shpejtësisë së lëvizjes.
- Kryqëzim me rrugën dytësore në kënd të drejtë, nga ana e majtë dhe nga ana e djathtë.



1086. Çfarë kujdesi duhet te keni në këtë situatë?

- Mund të has në kafshët shtëpiake në rrugë.
- Në zvogëlim të distancës së sigurisë ndaj mjetit që lëviz përpara.
- Për rrezikun në rrugë.




1087. A ju lejohej tejkalimi në këtë situatë?

- Jo.
- Po.
- Po, pasi që shenjat në rrugë e lejojnë tejkalimin.



1088. Si do të veproni nëse topi rrokulliset para jush?

- Do të zvogëloj shpejtësinë dhe do të jem i gatshëm për frenim, pasi që fëmijët mund të vrapojnë pas topit.
- Do ta përdor shenjën akustike (borinë) dhe do ta vazhdoj lëvizjen me shpejtësi të njëjtë.
- Pasi që fëmijët nuk gjenden në rrugë, do të vazhdoj me shpejtësi të rritur.



1089. Cilat veprime ju ndalohen në tunel?

- Kthimi gjysmërrethor.
- Lëvizja prapa.
- Ndalja dhe parkimi.



1090. Çfarë paraqesin shenjat e trafikut ?

- Ndalim ndalje.
- Pjesën e rrugës ku ndalohet qarkullimi i mjeteve në të dy kahet e lëvizjes.
- Pjesën e rrugës ku zhvillohet qarkullimi i mjeteve në të dy kahet e lëvizjes.



1091. Si duhet të veproni në këtë situatë?

- Do të përdor shenjën akustike dhe të vazhdoj lëvizjen.
- Do të zvogloj shpejtësinë e lëvizjes.
- Do të rris kujdesin dhe në rast nevojë do ta ndal mjetin.



1092. Si duhet shënuar automjeti i ndalur në autoudhë, për arsye defekti?

- Duhet vendosur trekëndëshin e sigurisë në largësi prej së paku 30-50 m, pas mjetit të ndalur.
- Duhet vendosur trekëndëshin e sigurisë në largësi prej së paku 100 m, pas mjetit të ndalur.
- Duhet ndezur të gjithë treguesit e drejtimit.



1093. Si duhet të veprohet në këtë situatë?

- Mjetet të cilat lëvizin pas autobusit duhet të ndalen derisa fëmijët të hipin ose zbresin nga autobusi.
- Mjetet të cilat lëvizin përballë autobusit duhet të vazhdojnë lëvizjen me shpejtësi të zvogëluar.
- Mjetet të cilat lëvizin përballë autobusit duhet të ndalen derisa fëmijët të hyjnë ose zbresin nga autobusi.



1094. Çfarë kujdesi duhet te keni në këtë situatë?

- Ndalim ndaljeje dhe parkimi për të gjitha automjetet.
- Kujdes të shtuar ndaj këmbësorëve.
- Ndalim ndaljeje dhe parkimi për kamionë dhe autobusë



1095. Çka duhet të keni parasysh në këtë situatë?

- Do të ndalem para vijës së ndaljes.
- Rruga është e lirë, do të vazhdoj lëvizjen pa u ndalur.
- Më lejohe lëvizja drejt dhe djathtas.



1096. Çka duhet të keni parasysh në këtë situatë?

- Më lejohe të vazhdoj lëvizjen vetëm drejt.
- Më lejohe ndërrimi i shiritit nëse nuk pengohen mjetet prapa.
- Nuk më lejohe ndërrimi i shiritit.



1097. Në çka do të llogaritni në këtë situatë?

- Në kthesë të rrezikshme majtas.
- Në ndalim tejkalimi.
- Në rritje të shpejtësisë në hyrje të kthesës.



1098. Si do të veproni në këtë situatë?

- Do të ndalem para vendkalimit të këmbësorëve.
- Do të vazhdoj lëvizjen pa u ndalur.
- Do të vazhdoj lëvizjen pasi të kalojnë këmbësorët.



1099. Çfarë kujdesi duhet të keni gjatë ngasjes në kushte të vështira atmosferike, nëpër mjegull?

- Do t'i përdor dritat e shkurtëra apo dritat e shkurtëra dhe dritat për mjegull.
- Do të lëviz me kujdes të shtuar, duke përshtatur shpejtësinë e lëvizjes.
- Do t'i përdor dritat e gjata për ndriçimin e rrugës, që rruga të shihet më mirë.



1100. A ju lejohet tejkalimi i qerres në këtë situatë ?

- Jo, në asnjë rast.
- Jo, tejkalimi i qerres është i ndaluar me shenja në rrugë.
- Po.



1101. Çka duhet të keni parasysh në këtë situatë ?

- Do të kaloj në shiritin e majtë.
- Do të përdor treguesin e drejtimit për ndërrim të shiritit.
- Nuk më lejohet ndërrimi i shiritit.



1102. Shoferi i automjeti të udhëtarëve (veturës) është duke kryer veprimin e tejkalimit si në foto. Si e vlerësoni këtë situatë ?

- Jo drejt.
- Drejt, pasi rruga është e lirë.
- Në kundërshtim me rregullat e trafikut.



1103. Çka duhet të keni parasysh në këtë situatë?

- Jam i obliguar të vazhdoj lëvizjen vetëm drejt.
- Duhet të bëj kthimin gjysmërrethor.
- Këmbësori papritmas mund të kalojë rrugën.



1104. Çka paraqesin shenjat e trafikut si në foto ?

- Udhëtregues mbi portal.
- Mbarimin e ndalimit të trafikut për mjetet e udhëtarëve (veturave).
- Mbarimin e motoudhës.



1105. Çka duhet të keni parasysh në këtë situatë?

- Në punimet në rrugë.
- Në kufizim të shpejtësisë së lëvizjes.
- Në ngushtim rruge nga ana e majtë.



1106. Si duhet të veproni në këtë situatë?

- Do të përdor shenjën akustike për t'ua tërhequr vërejtjen këmbësorëve.
- Do të ndalem, për t'i lëshuar këmbësorët.
- Do të vazhdoj lëvizjen pa u ndalur fare.



1107. Çka duhet të keni parasysh në këtë situatë?

- Në kthesë të dyfishtë apo kthesë të shumëfishtë, ku kthesa e parë është në të majtë.
- Në kufizim të shpejtësisë së lëvizjes.
- Në shpejtësi të rekomanduar të lëvizjes.



1108. Çka duhet të keni parasysh në këtë situatë?

- Në shenjë të lajmërimit.
- Më lejohe të lëviz me shpejtësinë e lëvizjes së këmbësorit.
- Në pjesën e rrugës ku fëmijët mund të luajnë.



1109. Cilat veprime ju lejohen në këtë situatë?

- Lëvizja drejt.
- Lëvizja majtas.
- Kthimi gjysmërrethor.



1110. Cilat janë rreziqet e mundshme gjatë ngasjes si në këtë situatë (me shi)?

- Zvogëlohet (dobësohet) dukshmëria.
- Kontakti i gomave me rrugën zvogëlohet dukshëm.
- Në rast të frenimit zgjatet koha e reagimit.



1111. Si duhet të veprojë shoferi i automjetit A, kur është duke u tejkalar nga automjeti tjetër?

- Mund ta rrisë shpejtësinë e lëvizjes, nëse nuk tejkalohe kufizimi maksimalë i shpejtësisë së lëvizjes.
- Nuk i lejohet ta rrisë shpejtësinë e lëvizjes.
- Duhet të largojë mjetin e tij ka skaji i djathtë i rrugës.



1112. Çka duhet të keni parasysh në këtë situatë?

- Në kufizim të shpejtësisë së lëvizjes.
- Në afërsi të kthesës së rrezikshme djathtas.
- Në respektim të shenjave të trafikut.



1113. Çka duhet keni parasysh në këtë situatë?

- Do t'i jap përparësi kalimi rrugës tërthore.
- Do të respektoj shenjën "Ndalje e obliguar".
- Detyrimisht do të kthehem majtas.



1114. Si duhet të veprojë shoferi i automjetit të bardhë, derisa tejkalohet nga mjete tjetër?

- Nuk i lejohet rritja e shpejtësisë.
- Duhet të skajohet sa më afër skajit të djathtë të rrugës.
- Duhet t'i ndezë të gjithë treguesit e drejtimit.



1115. Çka duhet keni parasysh në këtë situatë?

- Në kryqëzim me rrethrotullim.
- Këmbësori papritmas mund të kalojë rrugën.
- Mjetet që lëvizin në rrethrotullim kanë përparësi kalimi.



1116. Çka duhet pasur parasysh në situatën si në foto?

- Më ndalohet kthimi djathtas.
- Duhet të lëviz drejtë.
- Mund ta ndërroj shiritin e trafikut.



1117. A lejohet ndalja e mjetit në rrugë, në këtë situatë?

- Po, nëse nuk pengohet trafiku.
- Po, vetëm brenda zonës urbane.
- Jo, në asnjë rast.



1118. Çka duhet të keni parasysh në këtë situatë?

- Më lejohet lëvizja drejt ose djathtas.
- Në respektim të semaforit.
- Duhet të ndalem para kryqëzimit.



1119. Si do të veproni në këtë situatë?

- Do të ndalem.
- Do të vazhdoj lëvizjen drejt ose djathtas.
- Do të vazhdoj lëvizjen vetëm majtas.



1120. Automjeti para jush ka dhënë treguesin e drejtimi për t'u kthyer majtas. A ju lejohet tejkalimi në këtë situatë?

- Jo.
- Po, nëse automjeti lëviz ngadalë.
- Po, pasi nuk është i ndaluar me shenja në rrugë.



1121. **Shoferi i automjetit të udhëtarëve hyn në trafik duke lëvizur prapa. Si e vlerësoni këtë situatë?**

- Drejt, nëse nuk i pengon pjesëmarrësit tjerë në trafik.
- Drejt, nëse nuk i pengon pjesëmarrësit tjerë në trafik dhe i ndez të gjithë treguesit e drejtimit.
- Jo drejt.



1122. **Në semafor janë të ndezura dritat me ngjyrë të kuqe dhe të verdhë në të njëjtën kohë. Çka duhet të keni parasysh në këtë situatë?**

- Do të përgatitem për nisje.
- Duhet ta vazhdoj lëvizjen pa u ndalur me kujdes të shtuar.
- Do të pres deri sa të ndizet drita e gjelbër.



1123. **Çka duhet të keni parasysh në situatën si në foto ?**

- Rrugën me qarkullim në një kah të lëvizjes.
- Drejtim i obliguar drejt.
- Më ndalohet kthimi gjysmërrethorë.




1124. **Cili automjet është duke lëvizur drejt?**

- Automjeti nr. 1.
- Automjeti nr. 2.
- Automjeti nr. 3.



1125. Çka duhet të keni parasysh kur doni të hyni në trafik nga rruga e dheut, si në foto?

- Do t'i jap përparësi kalimi të gjitha mjeteve të cilat lëvizin në rrugë.
- Kam përparsi kalimi ndaj mjeteve të cilat lëvizin në rrugë.
- Do të sinjalizoj me tregues të drejtimit.



1126. A ju lejohet tejkalimi i motoçikletës në këtë situatë?

- Po, pasi që rruga është e drejtë.
- Jo.
- Po, nëse nuk i rrezikoj këmbësorët.




1127. Çka duhet të keni parasysh gjatë ngasjes në autoudhë?

- Më lejohet lëvizja deri në 130km/h
- Do të shfrytëzoj shiritin e djathtë të skajshëm nëse nuk është i zënë në kolonë.
- Do të shfrytëzoj shiritin për ndalje emergjente në rast defekti.



1128. Çka duhet të keni parasysh gjatë ngasjesi në këtë situatë?

- Në dukshmëri të dobësuar.
- Mund të mos vërehen me kohë këmbësorët dhe mjetet që nuk kanë ndriçim vetjak.
- Do të përshtas shpejtësinë dhe do të rris kujdesin.



1129. Çka lajmëron shenja e trafikut në këtë situatë?

- Nga largësia 150m nga shenja, qarkullimi i mjeteve fillon të zhvillohet në dy kahe të lëvizjes.
- Nga largësia 250m nga shenja, qarkullimi i mjeteve fillon të zhvillohet në dy kahe të lëvizjes.
- Duke filluar nga shenja, qarkullimi i mjeteve fillon të zhvillohet në dy kahe të lëvizjes.



1130. Çka duhet të keni parasysh në situatën si në foto?

- Do të rris distancën anësore të sigurisë.
- Do të zvogëloj shpejtësinë dhe do të jemi i gatshëm për frenim.
- Duhet të ndalem në vend deri sa të kalojnë fëmijët.



1131. Çka duhet të keni parasysh në këtë situatë?

- Do të përshtas shpejtësinë e lëvizjesë.
- Duhet ta vazhdoj lëvizjen pa u ndalur.
- Do të ndalem në rast nevojë për t'i dhënë përparsi kalimi automjetit të bardhë.



1132. Gjatë ngasjes keni hasur në situatën si në foto. Çka duhet të keni parasysh?

- Pas kthesës mund të gjendet ndonjë mjet i cili lëviz ngadal.
- Frenimin e vullshëm në mes të kthesës.
- Ndonjë mjet i cili lëviz në shiritin tim.



1133. Çka duhet të keni parasysh gjatë ngasjes si në foto?

- Në përdorim vetëm të dritave për shënimin e automjetit (pozicionit).
- Në përdorimin e dritave të shkurtëra.
- Në adaptimin e syve nga drita në errësi.



1134. Çfarë kujdesi duhet të keni në situatën si në foto?

- Në rritje të shpejtësisë në hyrje të kthesës.
- Pas kalimit të mesit të kthesës gradualisht e rris shpejtësinë.
- Në bartje te mjetit nëse shpejtësia është e papërshtatshme.



1135. Çka duhet të keni parasysh në situatën si në foto?

- Do të zvogëloj distancën anësore të sigurisë.
- Do të zvogëloj shpejtësin dhe do të jem i gatshëm për frenim.
- Nëse nuk ka mjete nga prapa, do të kaloj në shiritin e majtë.



1136. Çfarë kujdesi duhet të keni gjatë ngasjes së automjetit në këtë situatë?

- Në përshtatje të shpejtësisë së lëvizjes.
- Për rrezikun në rrugë.
- Në afërsinë e pjesës së rrugës të rrëshqitshme.



1137. Çka duhet të keni parasysh gjatë ngasjes jashtë zonës urbane (autobusi ka sinjalizuar për hyrje në shiritin e trafikut), në situatën si në foto?

- Jam i obliguar të ndalem për t'i dhënë përparësi kalimi autobusit.
- Do të vazhdoj lëvizjen me kujdes të shtuar.
- Kam përparësi kalimi në raport me autobusin.



1138. Çka duhet të keni parasysh në këtë situatë?

- Mund të dalë ndonjë këmbësor në mes mjeteve të parkuara.
- Nuk më lejohet lëvizja në shiritin rrugor për mjetet nga kahu i kundërt.
- Duhet të zvogëloj distancën e sigurisë ndaj mjetit që lëviz përpara.



1139. Çfarë kujdesi duhet të keni gjatë ngasjes jashtë zonës urbane në këtë situatë?

- Në distancë të sigurisë gjatësore.
- Në distancë të sigurisë së paku 30 deri 50 metra.
- Në fushëpamje të kufizuar.



1140. Çka duhet të keni parasysh në këtë situatë?

- Në kryqëzim me rrethrotullim.
- Mjetet që lëvizin në rrethrotullim kanë përparësi kalimi.
- Në kryqëzim ku ndalohet tejkalimii.



2001. Çka paralajmëron kjo shenjë e trafikut?

- Rrezikun e përgjithshëm në rrugë.
- Trafiku zhvillohet në një kah.
- Ndalon trafikun në një kah.



2002. Çka paralajmëron kjo shenjë e trafikut?

- Afërsinë e kthesës së rrezikshme majtas.
- Afërsinë e kthesës së rrezikshme djathtas.
- Qafë mali.



2003. Çka paralajmëron kjo shenjë e trafikut?

- Kthesë e rrezikshme djathtas.
- Afërsinë e kthesës së rrezikshme majtas.
- Kthesa të njëpasnjëshme.



2004. Çka paralajmëron kjo shenjë e trafikut?

- Rrezikun e përgjithshëm në rrugë.
- Kthesë të njëpasnjëshme e para në të djathtë.
- Kthesë të njëpasnjëshme e para në të majtë.



2005. Çka paralajmëron kjo shenjë e trafikut?

- Ngushtim rruge.
- Trafiku zhvillohet në dy kahe të lëvizjes.
- Punimet në rrugë.



2006. Çka paralajmëron kjo shenjë e trafikut?

- Ngushtim rruge nga krahu i djathtë.
- Ngushtim rruge nga krahu i majtë.
- Rrezikun në rrugë.



2007. Në cilin grupë të shenjave bën pjesë kjo shenjë e trafikut?

- Urëdhrove të prera.
- Të rrezikut.
- Të lajmërimit.



2008. Çka paralajmëron kjo shenjë e trafikut?

- Afërsinë e pjesës së rrugës ku përgjatë rrugës është e dëmtuar bankina.
- Afërsinë e rrugës së rrëshqitshme.
- Rrezikun në rrugë.



2009. Çka paralajmëron kjo shenjë e trafikut?

- Rrugën me gunga.
 Rrugën e rrëshqitshme.
 Afërsinë e bregut.



2010. Çka paralajmëron kjo shenjë e trafikut?

- Vendkalimin hekurudhor të pasiguruar.
 Stacionin e tramvajit.
 Rrugë tramvaji.



2011. Në cilin grup të shenjave bën pjesë kjo shenjë?

- Të urdhrave të prera.
 Të lajmërimit.
 Të rrezikut.



2012. Çka paralajmëron kjo shenjë e trafikut?

- Përplasje gurësh.
 Shembje gurësh.
 Rrugën me gunga.



2013. Çka paralajmëron kjo shenjë e trafikut?

- Afërsinë e vendkalimit të shënuar për këmbësorë.
 Shtegun për këmbësorë.
 Afërsinë e fëmijëve në rrugë.



2014. Çka paralajmëron kjo shenjë e trafikut?

- Afërsinë e fëmijëve në rrugë.
 Afërsinë e vendkalimit të shënuar për këmbësorë.
 Shtegun për fëmijë.



2015. Çka paralajmëron kjo shenjë e trafikut?

- Biçiklistët në rrugë.
 Ndalim trafiku për biçiklistë.
 Shtegun për biçiklistë.



2016. Çka paralajmëron kjo shenjë e trafikut?

- Egërsirat në rrugë.
 Kafshët në rrugë.
 Pjesën e rrugës ku ndalohet lëvizja e kafshëve pa mbikëqyrje.



2017. Çka paralajmëron kjo shenjë e trafikut?

- Egërsirat në rrugë.
 Kafshët në rrugë.
 Vendin ku ndalohet kalimi i egërsirave.



2018. Cilit grup të shenjave i takon kjo shenjë e trafikut?

- Të urdhrave të prera.
 Të lajmërimit.
 Të rrezikut.



2019. Çka paralajmëron kjo shenjë e trafikut?

- Kryqëzimin e rregulluar me semafor.
 Rrezikun në rrugë.
 Vendkalimin hekurudhor.



2020. Çka paralajmëron kjo shenjë e trafikut?

- Ngushtimin e rrugës nga ana e djathtë.
 Ngushtimin e rrugës nga ana e majtë.
 Rrugën me trafik në një kah.



2021. Çka paralajmëron kjo shenjë e trafikut?

- Afërsinë e bregdetit.
 Urën lëvizëse.
 Rrugën jo të rrafshhtë.



2022. Çka paralajmëron kjo shenjë e trafikut?

- Afërsinë e bregdetit.
 Urën lëvizëse.
 Rrugën jo të rrafshhtë.



2023. Çka paralajmëron kjo shenjë e trafikut?

- Përplasje gurësh.
 Rrugë e rrëshqitshme.
 Rrugë jo e rrafshhtë.



2024. Çka paralajmëron kjo shenjë e trafikut dhe në cilin grup të shenjave bënë pjesë?

- Afërsinë e pistës së aeroplanëve.
 Lajmërimit.
 Rrezikut.



2025. Çka paralajmëron kjo shenjë e trafikut dhe në cilin grup të shenjave bën pjesë?

- Afërsinë e vendkalimit hekurudhor.
 Të lajmërimit.
 Të rrezikut.



2026. Çka paralajmëron kjo shenjë e trafikut?

- Teposhtëze e rrezikshme.
 Përpjetëze e rrezikshme.
 Kthesa të rrezikshme.



2027. Çka paralajmëron kjo shenjë e trafikut?

- Afërsinë e kryqëzimit me rrethrotullim.
 Afërsinë e kryqëzimit me shenja ndriçuese.
 Afërsinë e kryqëzimit të rregulluar me person të autorizuar.



2028. Çka tregon kjo shenjë e trafikut

- Trafiku zhvillohet në një kah.
 Trafiku zhvillohet në dy kahe.
 Rrugë me përparësi kalimi.



2029. Çka paralajmëron kjo shenjë e trafikut?

- Pjesën e rrugës ku ekziston rreziku nga kolona e ndalur e mjeteve në rrugë.
 Distancën në mes mjeteve.
 Rrezikun në pjesën e rrugës ku mund të ketë ngrica në rrugë.



2030. Çka paralajmëron kjo shenjë e trafikut?

- Afërsinë e vendkalimit hekurudhor me mbrojtëse ose gjysmëmbrojtëse.
 Afërsinë e vendkalimit hekurudhor pa mbrojtëse ose gjysmëmbrojtëse.
 Afërsinë e vendkalimit për tramvaj.



2031. Çka paralajmëron kjo shenjë e trafikut?

- Lidhjen e rrugës dytësore me rrugën kryesore nën këndin e ngushtë nga krahu i majtë.
 Lidhjen e rrugës dytësore me rrugën kryesore nën këndin e ngushtë nga krahu i djathtë.
 Lidhjen e rrugës dytësore me rrugën kryesore nën këndin e drejtë nga krahu i majtë.



2032. Çka paralajmëron kjo shenjë e trafikut?

- Rrugën e tramvajit.
 Stacionin hekurudhor.
 Stacionin e tramvajit.



2033. Çka paralajmëron kjo shenjë e trafikut?

- Vendin ku ekziston rreziku i rrëshqitjes, përmytjes së mjeteve.
- Parkimin e mjetit në trotuar.
- Afërsinë e vendit ku ka rrezik nga rrëshqitja e gurëve në rrugë.



2034. Çka tregon kjo shenjë e trafikut?

- Kalimin e rrugës përtej hekurudhës me një palë binarë.
- Kalimin e rrugës përtej hekurudhës me dy palë binarë.
- Kryqëzimin e rrugës me rëndësi të njëjtë.



2035. Çka tregon kjo shenjë e trafikut?

- Ardhjen e trenit.
- Kalimin e hekurudhës të rregulluar me shenja ndriçuese.
- Kalimin e hekurudhës pa u ndalur.



2036. Çka paralajmëron kjo shenjë e trafikut dhe në cilin grup të shenjave bën pjesë?

- Të lajmërimit.
- Afërsinë e vendkalimit hekurudhor pa mbrojtëse ose gjysmëmbrojtëse.
- Afërsinë e vendkalimit hekurudhor me mbrojtëse.



2037. Çka paralajmëron kjo shenjë e trafikut?

- Rrezik nga zjarri.
- Kampin për pushim.
- Lulishte.



2038. Çka paralajmëron kjo shenjë e trafikut?

- Erërat anësore.
- Pistën e aeroplanëve.
- Rrezikun nga zjarri.



2039. Çka duhet të keni parasysh te kjo shenjë e trafikut?

- Kryqëzimin e rrugës kryesore nën këndin e drejt.
- Në respektim të rregullës së krahut të djathtë.
- Kryqëzim të rrugëve me rëndësi të njëjtë.



2040. Çka paralajmëron kjo shenjë e trafikut?

- Kryqëzimin e rrugës dytësore me rrugën kryesore nën këndin e drejt.
- Ngushtim rruge nga dy anët.
- Rrezikun në rrugë.



2041. Çka paralajmëron kjo shenjë e trafikut?

- Vendkalimin hekurudhor me një palë binarë.
- Vendkalimin hekurudhor me dy palë binarë.
- Vendkalimin hekurudhor me mbrojtëse ose gjysmëmbrojtëse.



2042. Çka paralajmëron kjo shenjë e trafikut?

- Shtegun për këmbësorë.
- Ndalim trafiku për këmbësorë.
- Afërsinë e pjesës së rrugës në të cilën lëvizin këmbësorët.



2043. Çka paralajmëron kjo shenjë e trafikut dhe në cilin grup të shenjave bën pjesë?

- Vendkalimin hekurudhor me mbrojtëse ose gjysmëmbrojtëse.
- Të urdhrave të prera.
- Të rrezikut.



2044. Çka paralajmëron kjo shenjë e trafikut?

- Vendkalimin hekurudhor.
- Rrezikun në rrugë.
- Tunelin apo galerinë në rrugë.



2045. Çka paralajmëron kjo shenjë e trafikut?

- Kryqëzimin e rrugëve me rëndësi të njëjtë.
- Afërsinë e kryqëzimit me rrethrotullim.
- Zhvillimin e trafikut në dy kahe.



2046. Çka paralajmëron kjo shenjë e trafikut?

- Pjesën e rrugës e cila është jo e rrafshët.
- Pjesën e rrugës ku gurët mund të bien (shemben) në rrugë.
- Pjesën e rrugës në të cilën ekziston rreziku i papritur nga ngrica.



2047. Çka tregon kjo shenjë e trafikut?

- Punimet në rrugë.
- Përjetëse e rrezikshme.
- Teposhtëze e rrezikshme.



2048. Çka paraqet kjo shenjë dhe në cilin grup bën pjesë?

- Të rrezikut.
- Përjetëse e rrezikshme.
- Teposhtëze e rrezikshme.



2101. Çka tregon kjo shenjë e trafikut?

- Ndalje e obligueshme.
 Ndalim trafiku në dy kahe.
 Dogana.



2102. Çka tregon kjo shenjë e trafikut?

- Ndalje e obligueshme.
 Kryqëzim me rrugën me përparësi kalimi.
 Rrugën me përparësi kalimi.



2103. Çka tregon kjo shenjë e trafikut?

- Ndalim trafiku në dy kahe.
 Ndalim trafiku në një kah.
 Rrugë me një kah.



2104. Çka tregon kjo shenjë e trafikut?

- Ndalim trafiku në dy kahe.
 Ndalim trafiku në një kah.
 Mbarim i të gjitha ndalesave.



2105. Çka tregon kjo shenjë e trafikut?

- Ndalon trafikun për të gjitha mjetet me veprim motorik, përveç motoçikletave pa rimorkio anësore.
 Ndalim trafiku vetëm për automjetet e udhëtarëve (vetura).
 Motoudhën.



2106. Çka tregon kjo shenjë e trafikut?

- Shiritin e trafikut për autobusë.
 Ndalon trafikun për autobusë.
 Vendndalje për autobusë.



2107. Çka tregon kjo shenjë e trafikut?

- Ndalon trafikun për të gjitha mjetet me veprim motorik.
 Shiritin e trafikut për kamionë.
 Ndalon trafikun për mjetet transportuese-kamionë.



2108. Çka tregon kjo shenjë e trafikut?

- Ndalim trafiku për të gjitha mjetet me veprim motorik.
 Ndalim trafiku për mjete që bartin materie të rrezikshme.
 Ndalim trafiku për cisterna.



2109. Çka tregon kjo shenjë e trafikut dhe në cilin grup të shenjave bën pjesë?

- Pjesën e rrugës ku lejohet lëvizja e këmbësorëve.
- Të urdhrave të prera.
- Ndalim trafiku për këmbësorë.

**2110. Çka tregon kjo shenjë e trafikut?**

- Ndalim trafiku për mjetet të cilat tejkalojnë gjerësinë e caktuar.
- Ndalim trafiku për mjetet të cilat tejkalojnë lartësinë e caktuar.
- Ndalim trafiku për mjetet të cilat tejkalojnë masën e caktuar.

**2111. Çka tregon kjo shenjë e trafikut?**

- Ndalim trafiku për mjetet të cilat tejkalojnë gjerësinë e caktuar.
- Ndalim trafiku për mjetet të cilat tejkalojnë lartësinë e caktuar.
- Ndalim trafiku për mjetet tek të cilat tejkalojnë masën e caktuar.

**2112. Çka tregon kjo shenjë e trafikut?**

- Ndalim trafiku për mjetet të cilat tejkalojnë gjerësinë e caktuar.
- Ndalim trafiku për mjetet të cilat tejkalojnë lartësinë e caktuar.
- Ndalim trafiku për mjetet të cilat tejkalojnë masën e caktuar.

**2113. Çka tregon kjo shenjë e trafikut?**

- Ndalim trafiku për mjetet të cilat tejkalojnë gjerësinë e caktuar.
- Ndalim trafiku për mjetet të cilat tejkalojnë lartësinë e caktuar.
- Ndalim trafiku për mjetet të cilat tejkalojnë ngarkesën boshtore të caktuar.

**2114. Çka tregon kjo shenjë e trafikut?**

- Ndalim trafiku për mjetet të cilat tejkalojnë gjerësinë e caktuar.
- Ndalim trafiku për mjetet të cilat tejkalojnë lartësinë e caktuar.
- Ndalim trafiku për mjetet të cilat tejkalojnë gjatësinë e caktuar.

**2115. Çka tregon kjo shenjë e trafikut?**

- Ndalim trafiku për mjetet të cilat tejkalojnë gjerësinë e caktuar.
- Distancën më të vogël në mes mjeteve në lëvizje.
- Ndalim trafiku për mjetet të cilat tejkalojnë gjatësinë e caktuar.

**2116. Çka tregon kjo shenjë e trafikut?**

- Ndalim kthimi djathtas.
- Ndalim kthimi majtas.
- Kthimi i obligueshëm majtas.



2117. Çka tregon kjo shenjë e trafikut?

- Ndalim trafiku për automjetet e udhëtarëve (veturat) të cilat bartin ngarkesën mbi mjet.
- Ndalim trafiku për mjete që bartin materie të rrezikshme.
- Pjesën e rrugës ku duhet të lëvizin mjetet e udhëtarëve.



2118. Çka tregon kjo shenjë e trafikut, në cilin grup të shenjave bën pjesë?

- Ndalim trafiku për të gjitha mjetet motorike të cilat tërheqin mjetet bashkangjitime.
- Të urdhrave të prera.
- Të lajmërimit.



2119. Çka tregon kjo shenjë e trafikut?

- Ndalim trafiku për traktorë.
- Pjesën e rrugës ku duhet të lëvizin traktorët.
- Ndalim trafiku për gjysmërimorkio.



2120. Çka tregon kjo shenjë e trafikut?

- Ndalim trafiku për mopedë.
- Vendkalimin për biçikleta.
- Ndalim trafiku për biçikleta.



2121. Çka tregon kjo shenjë e trafikut?

- Shtegun për biçikleta.
- Ndalim trafiku për motoçikleta.
- Ndalim trafiku për biçikleta.



2122. Çka tregon kjo shenjë e trafikut?

- Ndalim trafiku për biçikleta.
- Pjesën e rrugës ku biçiklistët lëvizin në grupe.
- Ndalim trafiku për mopedë.



2123. Çka tregon kjo shenjë e trafikut?

- Ndalim trafiku për qerre.
- Ndalim trafiku për kalorës.
- Pjesën e rrugës ku duhet të lëvizin qerret.



2124. Çka tregon kjo shenjë e trafikut?

- Ndalim trafiku për të gjitha mjetet me veprim motorik.
- Ndalim trafiku për biçikleta.
- Trafikun e mjeteve të përziera.



2125. Çka tregon kjo shenjë e trafikut?

- Ndalim kthimi djathtas.
- Kah i obliguar djathtas.
- Ndalim kthimi majtas.



2126. Çfarë na tregon kjo shenjë e trafikut?

- Ndalim kthimi djathtas.
- Ndalim kthimi majtas.
- Ndalim kthimi gjysmërrethor.



2127. Çka tregon kjo shenjë e trafikut?

- Kufizimin maksimal të shpejtësisë.
- Shpejtësinë më të vogël të lejuar.
- Shpejtësinë që rekomandohet për atë rrugë.



2128. Çka tregon kjo shenjë e trafikut?

- Ndalim tejkalimi për të gjitha automjetet, përveç motoçikletave pa rimorkio anësore.
- Lejon tejkalimin e automjeteve.
- Ndalim trafiku për automjete.



2129. Çka tregon kjo shenjë e trafikut?

- Ndalim tejkalimi për të gjitha automjetet, përveç motoçikletës pa rimorkio anësore.
- Përballëkalimin.
- Ndalini e tejkalimit për mjetet transportuese-kamionë.



2130. Çka tregon kjo shenjë e trafikut?

- Kalimi pa u ndalur-dogana.
- Kalimi pa u ndalur-pagesa rrugore.
- Kalimi pa u ndalur-policia.



2131. Çka tregon kjo shenjë e trafikut?

- Kalimi pa u ndalur-dogana.
- Kalimi pa u ndalur-pagesa rrugore.
- Kalimi pa u ndalur-policia.



2132. Çka tregon kjo shenjë e trafikut?

- Kahe të detyrueshme.
- Anashkalime te obliguara.
- Rrugën ku trafiku zhvillohet në një kah.



2133. Çka tregon kjo shenjë e trafikut?

- Pjesën e rrugës ku lejohet përdorimi i shenjave akustike.
- Pjesën e rrugës ku ndalohet parkimi i mjeteve.
- Ndalon dhënien e shenjave akustike-zërit.



2134. Çka tregon kjo shenjë e trafikut?

- Përparësi kalimi për mjetet nga kahu i kundërt.
- Përparësi kalimi në raport me mjetet nga kahu i kundërt.
- Ndalim trafiku në këtë rrugë.



2135. Çka tregon kjo shenjë e trafikut?

- Ndalim ndaljeje dhe parkimi.
- Zonën e parkimit.
- Ndalon vetëm parkimin.



2136. Çka tregon kjo shenjë e trafikut?

- Ndalon ndaljen dhe parkimin.
- Zonën e parkimit.
- Ndalon vetëm parkimin.



2137. Çka tregon kjo shenjë e trafikut?

- Ndalim ndaljen dhe parkimin në ditët çift.
- Ndalim ndaljen dhe parkimin në ditët tek.
- Ndalim parkimi në ditët tek.



2138. Çka tregon kjo shenjë e trafikut?

- Ndalon ndaljen dhe parkimin në ditët çift.
- Ndalon ndaljen dhe parkimin në ditët tek.
- Ndalim parkimi në ditët çift.



2139. Çka tregon kjo shenjë e trafikut?

- Përdorimin e radarit.
- Ndalimin e shenjave akustike.
- Ndalimin e fotografimit.



2140. Çka na tregon kjo shenjë e trafikut dhe në cilin grup të shenjave bën pjesë?

- Shpejtësinë më të vogël të lejuar.
- Të urdhrave të prera.
- Rekomandim të shpejtësisë.



2141. Çka tregon kjo shenjë e trafikut?

- Pajisjet dimërore obligative.
- Goma rezervë obligative.
- Pajisjet rezervë obligative.



2142. Çka tregon kjo shenjë e trafikut?

- Shtegun për biçiklistë.
- Vendkalimin për biçiklistë.
- Ndalim trafiku për biçiklistë.



2143. Çka tregon kjo shenjë e trafikut?

- Shtegun për këmbësorë.
- Vendkalimin e shënuar për këmbësorë.
- Ndalim trafiku për këmbësorë.



2144. Çka tregon kjo shenjë e trafikut?

- Shtegun për këmbësorë dhe biçikleta.
- Vendkalimin e shënuar për këmbësorë dhe biçikleta.
- Ndalim trafiku për këmbësorë.



2145. Çka tregon kjo shenjë e trafikut?

- Shtegun për kalorës.
- Vendkalimin për kalorës.
- Ndalimin e lëvizjes për kalorës.



2146. Çka tregon kjo shenjë e trafikut ?

- Rrugë me një kah.
- Drejtimin e obliguar.
- Anashkalimin e obliguar djathtas.



2147. Çka tregon kjo shenjë e trafikut?

- Rrugë me një kah.
- Drejtimin e obliguar djathtas.
- Ndalim trafiku në këtë rrugë.



2148. Çka tregon kjo shenjë e trafikut?

- Rrugën me një kah.
- Drejtimin e obliguar majtas.
- Ndalimin e trafikut në këtë rrugë.



2149. Çka tregon kjo shenjë e trafikut?

- Drejtim i obliguar.
 Anashkalimin në rrugë.
 Rrugë me një kah.



2150. Çka tregon kjo shenjë e trafikut?

- Drejtim i obliguar.
 Anashkalimin në rrugë.
 Rrugë me një kah.



2151. Në cilat drejtime ju lejohe të lëvizni sipas shenjës në foto?

- Drejt.
 Majtas.
 Djathtas.



2152. Si do të veproni nëse hasni në këtë shenjë të trafikut?

- Më lejohe të lëvizja vetëm djathtas.
 Më lejohe të lëvizja drejt ose djathtas.
 Më lejohe të lëvizja majtas.



2153. Si do të veproni nëse hasni në këtë shenjë të trafikut?

- Do të vazhdoj lëvizjen drejt.
 Duhet të vazhdoj lëvizjen majtas ose djathtas.
 Duhet të vazhdoj lëvizjen vetëm majtas.



2154. Çka tregon kjo shenjë e trafikut?

- Anashkalimin e obliguar djathtas.
 Anashkalimin e obliguar majtas.
 Drejtimin e obliguar djathtas.



2155. Çka tregon kjo shenjë e trafikut?

- Anashkalim i obliguar djathtas.
 Anashkalim i obliguar majtas.
 Drejtimin e obliguar djathtas.



2156. Çka tregon kjo shenjë e trafikut dhe në cilin grup të shenjave bën pjesë?

- Kryqëzimin me rrethrotullim.
 Të urdhreve të prera.
 Afërsinë e kryqëzimit me rrethrotullim.



2201. Çka tregon kjo shenjë e trafikut?

- Kufizimin e shpejtësisë maksimale në Republikën e Kosovës.
- Kufizimin e shpejtësisë sipas llojit të rrugëve.
- Obligimin e ndezjes së dritave të shkurtëra kur mjete merr pjesë në trafik.



2202. Çka tregon kjo shenjë e trafikut dhe në cilin grup të shenjave bën pjesë?

- Shtegun për këmbësorë.
- Vendkalimin e shënuar për këmbësorë.
- Të urdhrave të prera.



2203. Çka tregon kjo shenjë e trafikut?

- Shtegun për biçiklistë.
- Vendkalimin për biçiklistë.
- Ndalimin e lëvizjes për biçiklistë.



2204. Çka na tregon kjo shenjë e trafikut?

- Vandin e rrugës në të cilën fëmijët lëvizin shpesh ose në numër të madh.
- Shtegun për këmbësorë.
- Vendkalimin e shënuar për këmbësorë.



2205. Çka na tregon kjo shenjë e trafikut dhe në cilin grup të shenjave bën pjesë?

- Nënkalimin ose mbikalimin për këmbësorë.
- Të ndalimit.
- Të lajmërimit.



2206. Çka na tregon kjo shenjë e trafikut?

- Rrugën me trafik në një kah.
- Rrugën me trafik në dy kahe.
- Ndalim trafiku në këtë rrugë.




2207. Çka na tregon kjo shenjë e trafikut?

- Rrugën me trafik në një kah.
- Rrugën me trafik në dy kahe.
- Ndalim trafiku në këtë rrugë.



2208. Çka paraqet kjo shenjë e trafikut dhe në cilin grup të shenjave bën pjesë?

- Të obligimit.
- Rrugën me përparësi kalimi.
- Të lajmërimit.



2209. Çka tregon kjo shenjë e trafikutt?

- Rrugën me përparësi kalimi.
 Mbarimin e rrugës me përparësi kalimi.
 Ndalje të detyrueshme.



2210. Në cilin grup të shenjave bën pjesë kjo shenjë e trafikutt?

- Të urdhrave të prera.
 Lajmërimit.
 Rrezikut



2211. Në cilin grup të shenjave bën pjesë kjo shenjë e trafikutt?

- Të rrezikut.
 Të lajmërimit.
 Të urdhrave të prera..



2212. Në cilin grup të shenjave bën pjesë kjo shenjë e trafikutt?

- Të rrezikut.
 Të lajmërimit.
 Të urdhrave të prera.



2213. Në cilin grup të shenjave bën pjesë?

- Të rrezikut.
 Të lajmërimit.
 Të urdhrave të prera.



2214. Çka tregon kjo shenjë e trafikutt?

- Vendin ku mbaron kufizimi i shpejtësisë.
 Vendin ku fillon kufizimi i shpejtësisë.
 Vendin ku mbaron shpejtësia më e vogël e lejuar.



2215. Çka tregon kjo shenjë e trafikutt?

- Vendin ku mbaron kufizimi i shpejtësisë maksimale të lejuar për atë rrugë.
 Vendin ku mbaron shpejtësia më e vogël e lejuar për atë rrugë.
 Vendin ku mbaron shpejtësia e rekomanduar për atë rrugë.



2216. Çka tregon kjo shenjë e trafikutt?

- Vendin ku fillon përdorimi i shenjave akustike.
 Vendin ku mbaron ndalimi i dhënies së shenjave akustike.
 Vendin ku mbaron ndalimi i përdorimit të aparatit fotografik.



2217. Çka tregon kjo shenjë e trafikut?

- Vendin ku mbarojnë të gjitha ndalesat në atë rrugë.
 Ndalim trafiku në dy kahe.
 Ndalim parkimi.



2218. Çka tregon kjo shenjë e trafikut?

- Mbarimin e ndalimit të përdorimit të pajisjeve dimërore.
 Mbarimin e ndalimit të përdorimit të gomës rezervë.
 Punëtorinë për riparimin e gomave.



2219. Çka tregon kjo shenjë e trafikut?

- Mbarimin e shtegut për biçikleta.
 Vendkalimin për biçikleta.
 Ndalim trafiku për biçikleta.



2220. Çka tregon kjo shenjë e trafikut?

- Ndalim trafiku për këmbësorë.
 Mbarimin e shtegut për këmbësorë.
 Fëmijët në rrugë.



2221. Çka tregon kjo shenjë e trafikut?

- Pjesën e rrugës ku ndalohet kalërimi.
 Shtegun për kalorës.
 Mbarimin e shtegut për kalorës.



2222. Çka tregon kjo shenjë e trafikut?

- Fillimin e zonës ku është e kufizuar shpejtësia.
 Mbarimin e zonës ku është e kufizuar shpejtësia.
 Zonën ku ndalohet ndalja dhe parkimi i mjeteve.



2223. Çka tregon kjo shenjë e trafikut?

- Fillimin e zonës ku është e kufizuar shpejtësia.
 Mbarimin e zonës ku është e kufizuar shpejtësia.
 Zonën ku ndalohet ndalja dhe parkimi i mjeteve.



2224. Çka tregon kjo shenjë e trafikut?

- Mjetin për ndihmë në rrugë.
 Punëtori për riparimin e mjetit.
 Autolarjen.



2225. Çka tregon kjo shenjë e trafikut?

- Fillimin e zonës së trafikut të qetë.
 Mbarimin e zonës së trafikut të qetë.
 Zonën e vendparkimit të kufizuar.



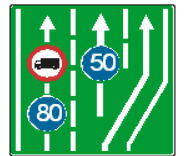
2226. Çka tregon kjo shenjë e trafikut?

- Fillimin e zonës së trafikut të qetë.
 Mbarimin e zonës së trafikut të qetë.
 Zonën e vendparkimit të kufizuar.



2227. Çka tregon kjo shenjë e trafikut?

- Fillim i shiritit të trafikut për mjete të ngadalshme.
 Mbarimin e shiritit për trafikun e mjeteve të ngadalshme.
 Mbarim i rrugës me një kah.



2228. Çka tregon kjo shenjë e trafikut?

- Mbylljen (reduktimin) e shiritit të trafikut.
 Fillimin e shiritit të trafikut.
 Hyrjen në autoudhë.



2229. Çka tregon kjo shenjë e trafikut?

- Kufizimin maksimal të shpejtësisë.
 Shpejtësinë më të vogël të lejuar.
 Rekomandimin e shpejtësisë.



2230. Çka tregon kjo shenjë e trafikut?

- Mbarimin e kufizimit maksimal të shpejtësisë.
 Mbarimin e shpejtësisë më të vogël të lejuar.
 Mbarimin e shpejtësisë së rekomanduar.



2231. Çka tregon kjo shenjë e trafikut?

- Spitalin.
 Ndhmën e shpejtë.
 Kryqin e Kuq Ndërkombëtar.



2232. Çka tregon kjo shenjë e trafikut?

- Spitalin.
 Institucionin e ndihmës së shpejtë mjekësore.
 Kryqin e Kuq Ndërkombëtar.



2233. Çka tregon kjo shenjë e trafikut dhe në cilin grup të shenjave bën pjesë?

- Aeroportin.
 Të urdhërave të prera.
 Të lajmërimit.



2234. Çka tregon kjo shenjë e trafikut?

- Portin, limanin përkatësisht trajektin.
 Lumin mbi të cilën kalon rruga.
 Urën lëvizëse.



2235. Çka tregon kjo shenjë e trafikut?

- Objektet rrugore (tunel, etj).
 Lumin mbi të cilin kalon rruga.
 Qafë malin.



2236. Çka tregon kjo shenjë e trafikut dhe në cilin grup të shenjave bën pjesë?

- Shtëpitë malore.
 Të urdhërave të prera.
 Të lajmërimit.



2237. Çka tregon kjo shenjë e trafikut dhe në cilin grup të shenjave bën pjesë?

- Aparat për shuarjen e zjarrit.
 Të lajmërimit.
 Të urdhërave të prera.



2238. Çka tregon kjo shenjë e trafikut dhe në cilin grup të shenjave bën pjesë?

- Punëtori për riparimin e mjeteve.
 Të lajmërimit.
 Të urdhërave të prera.



2239. Çka paraqet kjo shenjë e trafikut dhe në cilin grup të shenjave bën pjesë?

- Fillimin e autoudhës.
 Të lajmërimit.
 Urë mbi lumë.



2240. Çka tregon kjo shenjë e trafikut?

- Fillimin e autoudhës.
 Mbarimin e autoudhës.
 Mbarimin e rrugës nacionale.



2241. Çka tregon kjo shenjë e trafikut dhe në cilin grup të shenjave bën pjesë?

- Stacionin policor.
 Të rrezikut.
 Të lajmërimit.



2242. Cilit grup të shenjave i takon kjo shenjë e trafikut?

- Të rrezikut.
 Të urdhrave të prera.
 Të lajmërimit.



2243. Çka tregon kjo shenjë e trafikut dhe në cilin grup të shenjave bën pjesë?

- Kohëzgjatjen e parkimit.
 Të urdhrave të prera.
 Të lajmërimit.



2244. Çka tregon kjo shenjë e trafikut dhe në cilin grup të shenjave bën pjesë?

- Vending ku gjenden kabinat e telefonit.
 Të rrezikut.
 Të lajmërimit.



2245. Çka tregon kjo shenjë e trafikut dhe në cilin grup të shenjave bënë pjesë?

- Vending ku gjenden pika të karburanteve në rrugë.
 Të urdhrave të prera.
 Të lajmërimit.



2246. Çka tregon kjo shenjë e trafikut dhe në cilin grup të shenjave bënë pjesë?

- Shiritin për ndalje emergjente
 Vending ku mund të merren informatat e nevojshme në rrugë.
 Vendparkimin e ardhshëm



2247. Çka tregon kjo shenjë e trafikut?

- Vendndaljen për autobus.
 Vendndaljen për tramvaj.
 Vendndaljen për trena.



2248. Çka tregon kjo shenjë e trafikut?

- Vendndaljen për autobus
 Vendndaljen për tramvaj
 Vendndaljen për trena



2249. Çka tregon kjo shenjë e trafikut?

- Shiritin e trafikut për mjetet e transportit publik të udhëtarëve.
- Mbarimin e shiritit të trafikut për mjetet e transportit publik të udhëtarëve.
- Shiritin për ndalje emergjente.



2250. Çka tregon kjo shenjë ?

- Përparësi kalimi në raport me mjetet e kahut të kundërt.
- Kahun e obliguar.
- Ndalim trafiku.



2251. Çka tregon kjo shenjë e trafikut?

- Numrin e rrugës ndërkombëtare.
- Rrugën nacionale.
- Rrugën rajonale.



2252. Çka tregon kjo shenjë e trafikut?

- Numrin e rrugës ndërkombëtare.
- Rrugën nacionale.
- Rrugën rajonale.



2253. Çka tregon kjo shenjë e trafikut?

- Numrin e rrugës ndërkombëtare.
- Rrugën nacionale.
- Rrugën rajonale.



2254. Çka tregon kjo shenjë e trafikut?

- Drejtim të obliguar.
- Udhëtregues.
- Autoudhën.



2255. Çka tregon kjo shenjë e trafikut dhe në cilin grup të shenjave bën pjesë?

- Fillimin e tunelit.
- Të rrezikut.
- Të lajmërimit.



2256. Çka tregon kjo shenjë e trafikut?

- Qafëmalin.
- Monumentin historik.
- Punimet në rrugë.



2257. Çka tregon kjo shenjë e trafikut?

- Fillimin e autoudhës.
 Ndalim trafiku për mjete të udhëtarëve (vetura).
 Motoudhën.



2258. Çka tregon kjo shenjë e trafikut?

- Mbarimin e autoudhës.
 Ndalim trafiku për mjete të udhëtarëve (vetura).
 Mbarimin e motoudhës.



2259. Çka tregon kjo shenjë e trafikut?

- Rrugën pa dalje.
 Vendparkim për automjete.
 Stacionin për ndihmë të parë.



2260. Çka tregon kjo shenjë e trafikut?

- Rrugën në të cilën duhet të lëvizë mjeti deri te kryqëzimi për kthim majtas.
 Rrugën pa dalje.
 Ndalim qarkullimin në këtë rrugë.



2261. Në cilin grup të shenjave bën pjesë kjo shenjë e trafikut?

- Të urdhrave të prera.
 Të rrezikut.
 Të lajmërimit.



2262. Çka tregon kjo shenjë e trafikut?

- Rreshtimin e mjeteve.
 Rreshtimin e mjeteve sipas emrave të zonave të banuara.
 Ndalim kthimin majtas dhe djathtas.



2263. Çka tregon kjo shenjë e trafikut?

- Fillimin e shiritit të trafikut për mjetet e transportit publik të udhëtarëve.
 Mbarimin e shiritit të trafikut për mjetet e transportit publik të udhëtarëve.
 Rreshtimin e mjeteve në kryqëzim.



2264. Çka tregon kjo shenjë e trafikut?

- Fillimin e shiritit të trafikut për mjetet e transportit publik të udhëtarëve.
 Mbarimin e shiritit të trafikut për mjetet e transportit publik të udhëtarëve.
 Rreshtimin e mjeteve në kryqëzim.



2265. Çka duhet të keni parasysh te kjo shenjë e trafikut?

- Vendin e punimeve në rrugë.
 Anashkalim i obliguar nga ana e majtë.
 Drejtim i obliguar djathtas.



2266. Çka tregon kjo shenjë e trafikut?

- Emrin e lumit përtej të cilit kalon rruga.
 Emrin e zonës urbane përtej së cilës kalon rruga.
 Emrin e portit apo limanit nëpër të cilin kalon rruga.



2267. Çka tregon kjo shenjë e trafikut?

- Rreshtimin e mjeteve sipas emërimit të zonave urbane.
 Fillimin e shiritit për mjetet e transportit publik të udhëtarëve.
 Ndalim kthimin majtas.



2268. Çka tregon kjo shenjë e trafikut?

- Daljen nga autoudha.
 Daljen nga rruga nacionale.
 Daljen nga zona urbane.



2269. Çka tregon kjo shenjë dhe në cilin grup të shenjave bën pjesë?

- Rrugë me trafik në një kahe.
 Përparësi kalimi në raport me mjetet nga kahu i kundërt.
 Të lajmërimit.



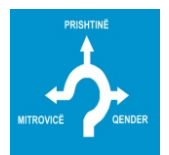
2270. Çka tregon kjo shenjë e trafikut?

- Emërtimet e rrugëve.
 Hyrjen në Republikën e Kosovës.
 Zonë urbane.

SHESHI I DESHMOREVE

2271. Çka tregon kjo shenjë e trafikut?

- Kryqëzimin e rrugës me shenja ndriçuese të trafikut.
 Kryqëzimin e rrugës me rëndësi të njëjtë.
 Kryqëzim me rrethrotullim.



2272. Çka tregon kjo shenjë e trafikut?

- Ndalimin e hyrjes të llojit të caktuar të mjeteve në autoudhë.
 Lejimin e hyrjeve të llojit të caktuar të mjeteve në autoudhë.
 Ndalimin e hyrjes së të gjitha mjeteve motorike në autoudhë.



2301. Si do të veproni kur i afroheni kryqëzimit dhe në semafor ndriçon drita e kuqe?

- Do ti respektoj dritat e semaforit.
 Do të ndalem.
 Do të vazhdoj lëvizjen pa u ndalur fare.



2302. Cila dritë ndizet në semafor pas dritës së verdhë të pandërprerë?

- Drita e gjelbër.
 Drita e kuqe.
 Drita e verdhë vezulluese.



2303. Çfarë domethënie kanë dritat e ndezura si në foto?

- Përgatitje për nisje.
 Së shpejti do të ndizet drita e kuqe.
 Së shpejti do të ndizet drita e gjelbër.



2304. Çfarë do të thotë drita e verdhë vezulluese në semafor?

- Kalim i lirë.
 Kalim i lirë, por me kujdes të shtuar.
 Ndalim kalimi.




2305. Çfarë domethënie ka ndezja e dritës së gjelbër në semafor?

- Ndalim kalimi.
 Kalim i lirë.
 Semafori nuk funksionon.



2306. Çka do të thotë ndezja e dritës së kuqe së bashku me shigjetën plotësuese në semafor?

- Kalimin e lirë për mjetet që lëvizin drejt.
 Kalim i lirë, por me kujdes të shtuar, në drejtim të shigjetës.
 Ndalim kalimi në të gjitha drejtimet.



2307. Sipas kësaj situatë, a iu lejohet këmbësorëve kalimi i rrugës?

- Jo.
 Po.
 Po, vetëm personave të moshuar.



2308. Çfarë lajmëron drita e semaforit si në foto?

- Ndalim kalimi për këmbësorë.
 Kalim i lirë për këmbësorë.
 Semafori nuk funksionon.



2401. Çfarë do të thotë dora e ngritur lart e policit si në foto?

- Ndalim kalimi për të gjithë pjesëmarrësit në trafik.
- Ndalim kalimi vetëm për këmbësorë.
- Kalim i lirë për të gjithë pjesëmarrësit në trafik.



2402. Cilët pjesëmarrës e kanë kalimin e lirë sipas pozitës së policit?

- Pjesëmarrësit që lëvizin në drejtim të krahëve.
- Pjesëmarrësit që lëvizin në drejtim të shpinës.
- Pjesëmarrësit që lëvizin në drejtim të gjoksit.



2403. A iu lejohet lëvizja këmbësorëve në këtë situatë?

- Jo.
- Po.
- Kjo situatë parashihet me rregullat e trafikut



2404. Çfarë domethënie ka pozita e policit?

- Pjesëmarrësit të cilat vijnë nga ana e krahëve të policit e kanë kalimin e lirë.
- Kalim i lirë për të gjithë pjesëmarrësit në trafik.
- Këmbësorëve iu ndalohet kalimi.



2405. Çfarë domethënie ka shenja e policit si në foto?

- Pjesëmarrësit e trafikut duhet ta shpejtojnë lëvizjen e mjetit të tyre.
- Pjesëmarrësit e trafikut duhet ta ngadalësojnë lëvizjen e mjetit të tyre.
- Pjesëmarrësit e trafikut duhet ta ndalin mjetin e tyre.



2406. Si do të veproni kur ju tejkalon, përballëkalon mjeti si në foto?

- Do të vazhdoj lëvizjen me kujdes të shtuar që mos ta pengoj automjetin.
- Duhet të ngadalësoj shpejtësinë.
- Duhet të skajohem në anën e djathtë të rrugës dhe të ndalem.



2407. Çfarë domethënie ka pozita e policit?

- Pjesëmarrësit që vijnë në drejtim të krahëve e kanë kalimin e lirë.
- Pjesëmarrësit që vijnë prapa shpinës së policit duhet të ndalen.
- Pjesëmarrësit që vijnë përballë policit duhet të ndalen.




2408. Çfarë domethënie ka pozita e policit si në foto?

- Mjetet që vijnë në drejtim të krahëve e kanë kalimin e lirë.
- Këmbësorëve iu lejohet lëvizja.
- Mjetet që vijnë përballë apo prapa shpinës së policit duhet të ndalen.



2409. Cilët pjesëmarrës në trafik e kanë kalimin e lirë sipas pozitës së policit?

- Mjetet që vijnë nga krahu i djathtë i policit.
- Mjetet që vijnë nga krahu i majtë i policit.
- Mjetet të cilat vijnë përballë dhe prapa shpinës së policit.



2410. Çfarë domethënie ka shenja e dhënë nga polici si në foto?

- Rritje e shpejtësisë së lëvizjes.
- Ngadalësim i shpejtësisë së lëvizjes.
- Ndalje e obligueshme.



2411. Çfarë domethënie ka shenja e dhënë nga polici si në foto?

- Pjesëmarrësit duhet ta shpejtojnë lëvizjen e tyre.
- Pjesëmarrësit duhet ta ngadalësojnë lëvizjen e tyre.
- Pjesëmarrësit e trafikut duhet ta ndalin mjetin të tyre.



2412. Çfarë do të thotë dora e ngritur lartë e policit?

- Pjesëmarrësit e trafikut duhet të lëvizin me kujdes të shtuar.
- Urdhëresa e policit vlen vetëm për motoçikleta.
- Ndalim për të gjithë pjesëmarrësit në trafik.



2413. Çfarë tregon pozita e policit?

- Kalimin e lirë e kanë pjesëmarrësit e trafikut të cilët vijnë në drejtim të krahëve.
- Kamioni e ka kalimin e lirë.
- Kamioni e ka kalimin të ndaluar.



2414. Në cilat drejtime ju ndalohet të lëvizni sipas pozitës së policit?

- Djathtas.
- Drejt.
- Majtas.



2415. A duhet të respektojnë shenjën e dhënë nga polici të gjithë pjesëmarrësit në trafik?

- Po, vetëm mjetet me dy rrota.
- Jo, pasi që polici nuk mund të japë shenja nga mjete.
- Po.



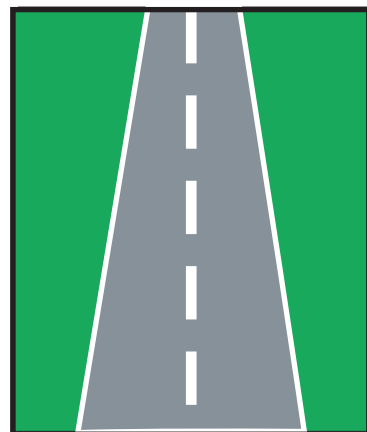
2416. Çfarë domethënie ka pozita e policit si në foto?

- Ndalim trafiku për të gjithë pjesëmarrësit.
- Kalim të lirë për të gjithë pjesëmarrësit që lëvizin në drejtim të krahëve të policit.
- Të gjithë pjesëmarrësit në trafik duhet ta rrisin shpejtësinë e lëvizjes.




2501. Çfarë paraqet vija e ndërprerë në rrugë?

- Lejon tejkalimin.
- Ndarjen e shiritave të trafikut.
- Ndalon tejkalimin.




2502. Çfarë paraqet vija e plotë në rrugë?

- Lejon tejkalimin e automjeteve.
- Ndarjen e shiritave të trafikut.
- Ndalon tejkalimin e automjeteve.



2503. Çfarë paraqet vija e dyfishtë e kombinuar?

- Ndarjen e shiritave të trafikut.
- Lejon tejkalimin nga ana ku shtrihet vija e ndërprerë gjatësore.
- Ndalon tejkalimin nga ana ku shtrihet vija e plotë gjatësore.



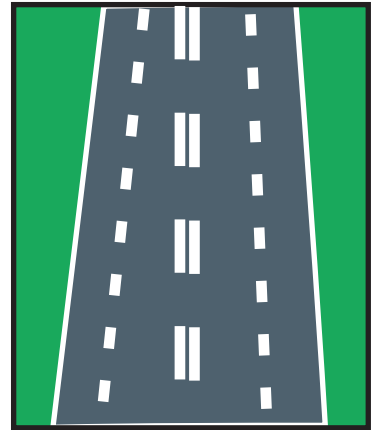
2504. Çfarë paraqet vija e dyfishtë e plotë?

- Ndarjen e shiritave të trafikut.
- Ndalon kalimin e mjeteve mbi vija.
- Lejohet tejkalimi i mjeteve mbi vija.



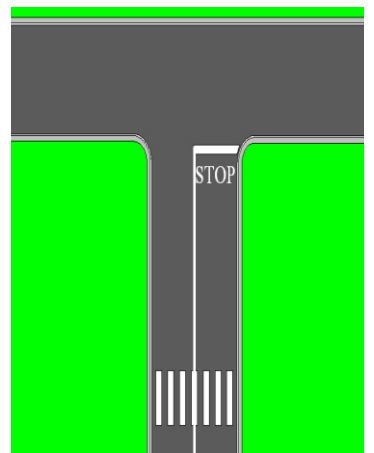
2505. Per çka sherbejn vijat e dyfishta të nderprera?

- Ndarjen e shiritave të trafikut.
- Për trafik në kahe të ndryshueshme të lëvizjes, ku trafiku rregullohet me semafor.
- Tregojnë rrugën me një kah.



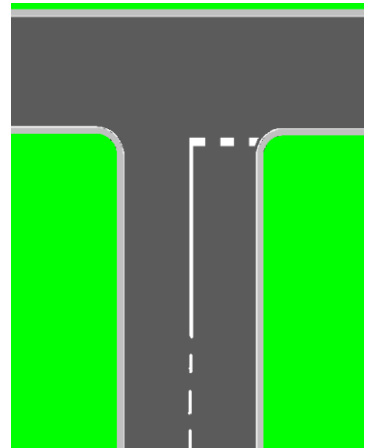
2506. Si do të veproni në situatën si në foto?

- Do të ndalem.
- Do të vazhdoj lëvizjen me kujdes pa u ndalur.
- Do ti respektoj shenjat në rrugë.



2507. Si do të veproni në situatën si në foto?

- Duhet të ndalem para vijës tërthore.
- Do të vazhdoj lëvizjen me kujdes të shtuar dhe sipas nevojës do të ndalem.
- Do t'i respektoj shenjat në rrugë.



2508. Çka paraqet shenja në foto?

- Në kryqëzimin e ardhshëm mund të vazhdojmë lëvizjen drejt.
- Në kryqëzimin e ardhshëm mund të vazhdojmë lëvizjen djathtas.
- Ndalim kthimin djathtas.



2601. Cila shenjë tregon afërsinë e vendkalimit për këmbësorë?







2602. Cila shenjë ndriçuese tregon shiritin e lirë për lëvizje?







2603. Cila shenjë ndriçuese tregon se duhet ta ndërroni shiritin e trafikut?







2604. Cila shenjë ndriçuese ndalon lëvizjen përgjatë shiritit mbi të cilin është vendosur shenja?







2605. Cila shenjë ndalon trafikun në një kah të lëvizjes?







2606. Cila shenjë tregon kufizimin maksimal të shpejtësisë?







2607. Cilat nga shenjat bëjnë pjesë në grupin e shenjave të lajmërimit?







2608. Cila shenjë tregon rrugën me një kah ?








2609. Cila shenjë lejon përparësinë e kalimit për mjetet nga ana e kundërt?



2610. Cila shenjë paralajmron afërsinë e kryqëzimit me rrethrotullim?



2611. Cila shenjë paralajmron afërsinë e vendit ku shpesh herë fryejn erërat anësore?




2612. Cila shenjë paralajmron afërsinë e vendit ku mund të ketë ngrica në rrugë?



2613. Cila shenjë paralajmron përpjetëzën e rrezikshme?



2614. Cila shenjë tregon kryqëzimin me rrugën sekondare në kënd të drejtë nga të dy anët?




2615. Cila shenjë paralajmron në afërsinë e kthesës në të djathtë?



2616. Cila shenjë ndalon kthimin majtas?



2617. Cila shenjë na tregon fillimin e motoudhës?







2618. Cila shenjë ndalon trafikun për të gjitha automjetet, përveç motoçikletave pa rimorkio anësore?







2619. Cila shenjë na tregon se nuk lejohet ngasja me shpejtësi më të vogël se sa është e paraparë me shenjë?







2620. Cili udhëtrregues tregon rrugën nacionale?







2621. Cila shenjë ndalon trafikun për të gjitha mjetet me veprim motorik?







2622. Cila shenjë i takon grupit të shenjave të rrezikut?







2623. Cila shenjë tregon ndalim kthimin djathtas?







2624. Cila shenjë tregon ndalim trafiku për mjetet transportuese?







2625. Cila shenjë nuk ju lejon lëvizjen drejt?







2626. Cila shenjë nuk ju lejon lëvizjen majtas?







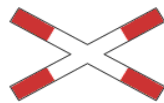
2627. Cila shenjë tregon mbarimin e shpejtësisë më të vogël të lejuar?







2628. Cila shenjë i takon grupit të shenjave të urdhrave të prera?







2629. Cila shenjë tregon rrugën nacionale?







2630. Cila shenjë tregon rekomandimin e shpejtësisë?







2631. Cila shenjë ndalon trafikun në dy kahe?







2632. Cila shenjë ju detyron të bëni kthimin gjysmërrethor?








2633. Cila shenjë e trafikut na obligon të vazhdojmë lëvizjen vetëm drejt?







2634. Pas cilës shenjë na lejohet lëvizja djathtas?







2635. Cila shenjë e trafikut tregon kufizimin maksimal të shpejtësisë?







2636. Cila shenjë e trafikut tregon se jeni duke lëvizur në rrugën ku trafiku zhvillohet në një kah?







2637. Cila shenjë i takon shenjave të grupit të urdhrave të prera?







2638. Cila shenjë tregon se trafiku zhvillohet në të dy kah?







2639. Cila shenjë i takon grupit të shenjave të lajmërimit?








2640. Cila shenjë e trafikut ndalon kthimin gjysmërrethor?







2641. Cila shenjë tregon fillimin e autoudhës?







2642. Cila shenjë ndalon trafikun për mjetet transportuese-kamionë?







2643. Cila shenjë i takon grupit të shenjave të urdhrave të prera?







2644. Cili udhëtrregues ju tregon rrugën për në autoudhë?







2645. Cila shenjë ndalon trafikun për transportin publikë të udhëtarëve?







2646. Cila shenjë i takon grupit të shenjave të urdhrave të prera?







2647. Cila shenjë \ tabelë tregon shtrirjen e rrugës me përparësi kalimi djathtas?







2648. Cila shenjë tregon ndalim trafikun për automjetet të cilat tërheqin mjetet bashkangjitore?







3001. Si quhet, kalimi me mjet pranë një mjete tjetër të ndalur a të parkuar, ose pranë një objekti që gjendet në shiritin e trafikut nëpër të cilin lëviz mjeti rrugor?

Anashkalim

(Shkruaj me fjalë)

3002. Si quhet çdo mjet që lëviz në rrugë me fuqi të motorit të vet, i cili sipas konstruksionit, pajisjeve, veglave e pajimeve është paraparë për transport të personave, përkatësisht të ngarkesave / mallit, për kryerje të punëve a për tërheqje të mjeteve të bashkëngjitura, përveç mjeteve që lëvizin nëpër binarë?

Automjet

(Shkruaj me fjalë)

3003. Si quhet mjet me veprim motorik dhe mjetet e bashkëngjitura, të cilat në trafikun rrugor marrin pjesë si tërësi?

Bashkësi mjetesh

(Shkruaj me fjalë)

3004. Si quhet rrethana kur nuk mund të vihet re a të dallohet qartë ambienti në të cilin ndodhet pjesëmarrësi në trafik, në përgjithësi prej muzgut deri në agim, si dhe gjatë kushteve të vështira atmosferike nga agimit deri në muzg?

Dukshmëri e dobësuar

(Shkruaj me fjalë)

3005. Si quhet kthimi i mjetit për njëqind e tetëdhjetë (180) shkallë nga kahu i deritashëm i lëvizjes me qëllim të ndërrimit të kahut të lëvizjes?

Kthim gjysmërrethor

(Shkruaj me fjalë)

3006. Si quhet bashkësia e mjetit e cila përbëhet nga mjeti tërheqës dhe nga mjeti i bashkëngjitur, të lidhura ndërmjet vete me një mekanizëm nyjor ?

Mjet nyjor

(Shkruaj me fjalë)

3007. Si quhet mjeti me dy ose me tri rrota, tek i cili pa marrë parasysh mënyrën se si vihet në lëvizje, shpejtësia e konstruksionit nuk i kalon dyzet e pesë (45) km/h, kapaciteti i punës së motorit me djegie të brendshme është deri në pesëdhjetë (50) cm³ ose me fuqi të vazhdueshme që vihet në lëvizje me elektromotor i cili nuk e kalon fuqinë katër (4) kW?

Moped

(Shkruaj me fjalë)

3008. Si quhet rruga publike e paraparë vetëm për lëvizje të automjeteve, e cila është e shënuar si e tillë me shenjë përkatëse të trafikut?

Motoudhë

(Shkruaj me fjalë)

3009. Si quhet mjete bashkangjites masa me e madhe e lejuar e te cilit nuk eshte me e madhe se 750 kg?

Rimorkio e lehte

(Shkruaj me fjalë)

3010. Si quhet kalimi me mjet prej një shiriti në shiritin tjetër të trafikut për lëvizje në të njëjtin kah, për shkak të rreshtimit ose lëvizjes më të shpejtë?

Ndërrim i shiritit të trafikut

(Shkruaj me fjalë)

3011. Si quhet dokumenti publik i cili përdoret gjatë shkaktimit të aksidenteve në trafikun rrugor me dëme të vogla materiale, i cili lëshohet nga organi kompetent?

Raporti evropian i aksidentit

(Shkruaj me fjalë)

3012. Si quhet kalimi me mjetin rrugor pranë mjetit tjetër i cili nëpër të njëjtën rrugë lëvizë nga kahu i kundërt?

Përballëkalim

(Shkruaj me fjalë)

3013. Si quhet kalimi me mjet pranë mjetit tjetër rrugor, që lëviz në të njëjtin kah?

Tejkalim

(Shkruaj me fjalë)

3014. Si quhen automjetet të cilat përdorin pajisje sinjalizuese me drita të kuqe të kaltër dhe pajisje akustike me intensitet të ndryshueshëm, si dhe me automjete të zakonshme të policisë gjatë sinjalizimit kur bëjnë përcjelljen e personalitete shtetërore ose mjete tjera të autorizuar të cilët bëjnë përcjelljen e personaliteteve?

Automjetet nën përcjellje

(Shkruaj me fjalë)

3015. Si quhet sipërfaqja e ngritur ose e shënuar në një mënyrë tjetër, e cila gjendet në rrugën qarkulluese dhe e cila është caktuar për qëndrim të përkohshëm të këmbësorëve të cilët kalojnë nëpër rrugën për hyrje ose dalje nga mjeti që kryen transport publik?

Ishull i këmbësorëve

(Shkruaj me fjalë)

3016. Si quhet çdo mjet transporti që lëviz nëpër rrugë, përveç karrocave lëvizëse pa motor për persona me aftësi të kufizuara dhe mjeteve transportuese të fëmijëve?

Mjet rrugor

(Shkruaj me fjalë)

3017. Si quhet pjesa e rrugës që shërben për lëvizje të biçikletave dhe të mopedëve, e cila shtrihet përgjatë rrugës qarkulluese që është e shënuar me vijë gjatësore në rrugën qarkulluese?

Shiriti i biçikletave

(Shkruaj me fjalë)

3018. Si quhet pjesa e rrugës qarkulluese në rrugët nacionale ku shiritat rrugorë janë të ndarë fizikisht, që shërben për lëvizje të mjeteve pa motor dhe të mjeteve të ngadalshme me veprim motorik, si: traktori, makinat e punës, motokultivatori apo të ngjashme?

Shirit i trafikut anësor

(Shkruaj me fjalë)

3019 Si quhet pjesa e rrugës e cila kalon përtej binarëve hekurudhorë ose të tramvajit në të njëjtin nivel, e cila mund të jetë e siguruar fizikisht me mbrojtëse dhe gjysmëmbrojtëse, me shenja të trafikut apo e pasiguruar?

Vendkalim hekurudhor -

(Shkruaj me fjalë)

3020. Si quhet pjesa e sipërfaqes së rrugës qarkulluese që shërben për kalim të këmbësorëve nëpër këtë shtresë, e cila është shënjuar me shenja përkatëse?

Vendkalim për këmbësorë

(Shkruaj me fjalë)

3021. Si quhet pjesa e sipërfaqes së rrugës qarkulluese që shërben për kalim të biçikletave dhe të mjeteve të tjera që lëvizin nëpër shiritin apo shtegun e biçikletave, e cila është e shënjuar me shenja përkatëse?

Vendkalim për biçikleta

(Shkruaj me fjalë)

2022. Si quhet pjesa e rrugës apo rrugë lagjeje, e cila gjendet në afërsi të shkollës dhe e cila duhet të jetë e shënuar me shenjë të posaçme të trafikut?

Zonë e shkollës

(Shkruaj me fjalë)

2023. Si quhet zona në një qendër të banuar, e shënuar me shenjë përkatëse të trafikut, në të cilën mjetet nuk duhet të lëvizin me shpejtësi më të madhe se lëvizja e këmbësorit dhe në të cilën lojërat për fëmijë janë të lejuara në tërë zonën?

Zonë e trafikut të qetë

(Shkruaj me fjalë)

2024. Si quhet pjesa gjatësore e rrugës qarkulluese që shërben për lëvizje të mjeteve rrugore në një kah me një apo me më shumë shirita të trafikut?

Shirit rrugor

(Shkruaj me fjalë)

3025. **Cilat mjete përfshihen në kategorinë B?**

- Mjetet e udhëtarëve të cilat kanë më së shumti 8 ulëse pa përfshirë ulësen e shoferit.
- Motokulvitorët.
- Vetëm mjetet e udhëtarëve (veturat) që kanë më së shumti 5 ulëse, duke përfshirë edhe ulësen e shoferit.

3026. **Cilat mjete mund t'i drejtojë shoferi i cili posedon patentë shoferin e kategorisë "B"?**

- Mjetin e udhëtarëve (veturën) deri 8 ulëse pa përfshirë ulësen e shoferit.
- Mjetin e transportit deri 7.5 tonë.
- Traktorin.

3027. **Cilat kushte duhet plotësuar shoferi i cili drejton mjetin në rrugë?**

- T'i bartë pajisjet ndihmëse të cilat janë të shënuar në patentë shofer (syza, protezë, etj).
- Të mos jetë nën ndikim të narkotikëve.
- Automjeti duhet të jetë me ndërrues automatik.

3028. **Cilat kushte duhet plotësuar shoferi i cili drejton mjetin në rrugë?**

- Të mos jetë i lodhur dhe i sëmurë.
- Të ketë patentë shoferin për të gjitha kategoritë.
- Të mos jetë nën ndikimin e alkoolit.

3029. **Çka duhet të keni parasysh që të zhvillohet rrjedha normale e trafikut?**

- Të kuptoj qëllimet e pjesëmarrësve tjerë në trafik.
- Të veproj sipas rregullave dhe shenjave të trafikut.
- Të paralajmroj me kohë veprimet në trafik.

3030. **Çka mundësojnë njohuritë dhe përvoja në trafik?**

- Zbatimin e normave pozitive të mirësjelljes.
- Respektimin e pjesëmarrësve tjerë në trafik.
- Tolerancën ndaj pjesëmarrësve tjerë në trafik.

3031. **Ndaj cilëve pjesëmarrës në trafik nuk vlenë parimi i besueshmërisë?**

- Fëmijëve.
- Personave të moshuar.
- Personave me aftësi të kufizuara.

3032. **Çka konsiderohet sjellje e gabuar në trafikun rrugor?**

- Çdo sjellje e gabuar e cila është në kundërshtim me rregullat e trafikut dhe sigurisë.
- Vetëm sjelljet të cilat shkaktojnë aksident trafiku.
- Nëse shoferi aplikon ngasjen defanzive.

3033. **Cilat janë obligimet dhe përgjegjësitë e pjesëmarrësve në trafik?**

- Të veprojnë sipas rregullave të trafikut dhe sigurisë.
- Ta mbrojnë ambientin.
- Të mundësojnë rrjedhën normale të trafikut.

3034. **Cilat janë obligimet dhe përgjegjësitë e pjesëmarrësve në trafik?**

- Të mos i dëmtojnë pajisjet e rrugës.
- Të njohin prodhuesin e shenjave të trafikut.
- Të mos i hudhin sendet apo mbeturinat në rrugë.

3035. **Çka ndikon në kulturën e trafikut?**

- Personaliteti.
- Edukata familjare.
- Sjellja humane ndaj pjesëmarrësve tjerë në trafik.

3036. **Me çka vlerësohen marrdhëniet e ndërsjella të pjesëmarrësve në trafik?**

- Me shkallën e kulturës në trafik.
- Me agresivitetin e pjesëmarrësve në trafik
- Me mirëkuptim të ndërsjellë.

3037. **Cilat pajisje nuk lejohen të përdoren gjatë ngasjes?**

- Telefoni mobil nëse duhet të përdoret me dorë.
- Pajisjet ndihmëse të shënuara në patentë shofer (syza, proteza, etj)
- Çdo pajisje që zvogëlon mundësinë e reagimit.

3038. **Si e kuptoni se mjeti transporton fëmijë /nxënës në mënyrë të organizuar?**

- Në bazë të shenjës përkatëse e cila është e vendosur në mjetin transportues.
- Në bazë të numrit të nxënësve që shihen në mjetin e transportit.
- Në bazë të pëlhures së kuqe e cila është e vendosur në mjetin transportues.

3039. **Pse nuk vlen parimi i besimit ndaj fëmijëve?**

- Veprimet e tyre janë të paparashikueshme.
- Mund të mos vërehen nga shoferët e automjeteve.
- Nuk janë të vetëdijshëm për rrezikun që u kanoset në rrugë.

3040. **Çka është më rëndësi te perciptimi i situatës së rrezikshme në trafik?**

- Marrja e vendimit të drejtë.
- Marrja e vendimit me kohë.
- Marrja e vendimit me vonesë.

3041. **Cilat janë parimet e ngasjes defanzive?**

- Të jeni tolerant ndaj gabimeve të tjerëve.
- Të jeni të qetë.
- Përdorni dritat në mënyrë adekuate.

3042. **A ju lejohet ndërrimi i shiritit të trafikut, nëse është i kufizuar me vijë të ndërprerë?**

- Po, nëse nuk pengoj mjetet që lëvizin nga prapa.
- Jo, në asnjë rast.
- Po, duhet të sinjalizoj me treguesin e drejtimit.

3043. **Cilat janë obligimet e pjesëmarrësit në trafik?**

- Të veprojë sipas shenjave të trafikut edhe nëse domethënia e tyre ndryshon nga rregullat e trafikut.
- Të veprojë sipas semaforëve edhe nëse domethënia e tyre ndryshon nga shenjat e trafikut.
- Të veprojë sipas nevojës së tij personale.

3044. **Si duhet të bartet fëmija deri 3 vjeç në mjetin e udhëtarëve (veturë)?**

- Duhet ta ketë ulësen e sigurisë për fëmijë.
- Duhet të jetë nën përkujdesin e një personi të moshës madhore në ulësen e pasme.
- Të bartet vetëm në ulësen e përparme të automjetit.

3045. **Cilët shoferë janë më të rrezikuarit në trafik?**

- Shoferët që ngasin biçikletën.
- Shoferët që ngasin mopedin.
- Shoferët e autobusëve.

3046. **Çka kuptohet me kulturë në trafik?**

- Respektimi i ndërsjellë në trafik.
- Toleranca ndaj pjesëmarrësve në trafik.
- Agresiviteti i pjesëmarrësve në trafik.

3047. **Shoferi gjendet jashtë mjetit të vet në rrugën qarkulluese. A është i detyruar ta mbajë jelekun reflektues?**

- Po.
- Po, vetëm jashtë zonës urbane.
- Po, parashihet vetëm për mjetet e transportit publik.

3048. **Si do ngasni mjetin në rrugë me tre shirita, ku trafiku zhvillohet në dy kahe?**

- Mund të shfrytëzoj cilindo shirit të trafikut.
- Do të shfrytëzoj shiritin e mesëm, varësisht nga shenjat në rrugë.
- Nuk më lejohet ta shfrytëzoj shiritin e skajshëm të majtë në kahun e lëvizjes.

3049. Çka ndikon në perceptimin e situatës së drejtë në trafikun rrugor?

- Përvoja e ngasjes të mjetit rrugor.
- Njohuritë për automjetet.
- Njohja e rreziqeve në rrugë.

3050. Në çka duhet të përqëndrojnë vëmendjen shoferi gjatë ngasjes?

- Në këmbësorë.
- Në reklama të cilat gjenden përgjatë rrugës.
- Në shenjat e trafikut.

3051. Cilët shoferë e rrezikojnë sigurinë në trafik?

- Shoferët që mbivlerësojnë aftësitë e tyre.
- Shoferët që janë tolerantë ndaj gabimeve të tjerëve.
- Shoferët nën ndikimin e medikamenteve të cilat ndikojnë negativisht në aftësi të ngasjes.

3052. Në cilat raste shoferi dërgohet në kontroll të jashtëzakonshëm shëndetësor?

- Nëse përmbajtja e alkoolit në organizëm është mbi 1,50 g/kg.
- Nëse refuzon t'i nënshtrohet ekzaminimit se a ka në organizëm alkool.
- Nëse nuk posedon patentë shofer.

3053. Cilat janë parimet e ngasjes defanzive (mbrojtëse)?

- Parashikimi i zhvillimit të situatave në trafik.
- Shmangija (evitimin) e aksidentit për shkak të shkeljeve të rregullave të trafikut nga pjesëmarrësit e tjerë.
- Mbjajtja e distancës së sigurisë.

3054. Cilat janë rreziqet e mundshme kur autobusi është i ndalur në vendndalje e ju jeni duke lëvizur përballë?

- Ndonjë udhëtar që del nga autobusi mund ta kalojë rrugën pa u kujdesur për mjetet që lëvizin në rrugë.
- Ndonjë udhëtar mund të vrapojë për të hyrë në autobus.
- Nëse shoferi i autobusit nuk posedon të gjitha kategoritë e patentë shoferit.

3055. Cilat janë parimet e ngasjes defanzive (mbrojtëse)?

- Parashikimi i zhvillimit të situatave në trafik.
- Shmangija (evitimin) e aksidentit për shkak të shkeljeve të rregullave të trafikut nga pjesëmarrësit e tjerë.
- Ngasja vetëm me mjet me ndërrues automatik.

3056. Çka e karakterizon sigurinë e shoferit në trafikun rrugor?

- Kultura në trafikun rrugor.
- Zotësia e parashikimit të situatës.
- Ngasja me shpejtësi maksimale që zhvillon automjeti.

3057. **Cilat janë gabimet për të cilat merret përkohësisht patentë shoferi?**

- Ngasja nën ndikim të alkoolit mbi 1.50 gr/kg.
- Hyrja në kryqëzim derisa është e ndezur drita e kuqe në semafor.
- Nëse bartet fëmija pa ulëse të veçantë të sigurisë apo nuk është nën përkujdesin e personit të moshës madhore.

3058. **A mund të anulohet patentë shoferi?**

- Jo, në asnjë rast.
- Po, nëse arrin numrin e pikëve negative të parapara.
- Po, nëse shoferi i grumbullon 7 pikë negative.

3059. **Si duhet të paralajmërohen pjesëmarrësit e tjerë në trafik?**

- Me kohë.
- Në mënyrë të qartë.
- Me tregues të drejtimit.

3060. **Në cilat raste ndikon alkooli më shpejt?**

- Nëse shoferi është i uritur.
- Nëse shoferi është në stres.
- Nëse shoferi nuk posedon patentë shoferi.

3061. **Çka e karakterizon sjelljen e rrezikshme në trafikun rrugor?**

- Kujdesi i pamjaftueshëm.
- Hyrja në situata të rrezikshme.
- Sjellja konform rregullave në trafik.

3062. **Cilët janë shoferët e rrezikshëm?**

- Shoferët agresivë.
- Shoferët të cilët i mbivlerësojnë aftësitë e tyre.
- Shoferët jo tolerantë ndaj gabimeve të pjesëmarrësve tjerë në trafik.

3063. **Cilat janë obligimet e shoferit të mjetit?**

- Timonin ta mbajë me dy duar, përveç ku ndërrohet shpejtësia.
- Timonin ta mbajë me dy duar, përveç kur jep shenja me dorë për ndonjë veprim me mjet.
- Duhet t'i largojë nga rruga të gjitha sendet të cilat i has gjatë ngasjes.

3064. **Cilat veprime ndikojnë negativisht në sigurinë e trafikut rrugor?**

- Insistimi me çdo kusht në të drejtën e përparësisë së kalimit.
- Reagimi i pamenduar.
- Aplikimi i Eko-ngasjes.

3065. **Si do të veproni para se të ndërroni shiritin e trafikut?**

- Duhet vështruar trafikun nga prapa.
- Me kohë e paralajmroj veprimin me tregues të drejtimit.
- Duhet shikuar në këndin e vdekur.

3066. **Çka duhet të kenë parasysh shoferët e rinj dhe pa përvojë?**

- Si të sillen në trafik.
- Të mos i mbivlersojnë aftësitë personale të tyre.
- Të mos nënçmojnë rrezikun në rrugë.

3067. **Çka është me rëndësi për shoferin gjatë ngasjes?**

- Të dallojë çdo sjellje të gabuar të tij dhe pjesëmarrësve tjerë në trafik.
- T'i përmisojë gabimet e pjesëmarrësve tjerë në trafik.
- Të aplikojë ngasjen defanzive (mbrojtse).

3068. **Në cilat raste nuk lejohet ndërrimi i shiritave para kryqëzimit?**

- Nëse shiriti nëpër të cilin lëvizni është i kufizuar me vijë të plotë gjatësore.
- Nëse pengohen mjetet që lëvizin prapa.
- Nëse mjete nuk mund të zhvillojë shpejtësinë maksimale për atë pjesë të rrugës.

3069. **Cilat janë parimet e ngasjes defanzive (mbrojtëse)?**

- Me kohë dhe në mënyrë të qartë i paralajmroni pjesëmarrësit tjerë.
- Nxitimi i vrullshëm.
- Respektimi i rregullave të trafikut.

3070. **Si komunikojnë pjesëmarrësit në trafik?**

- Me treguesit e drejtimit.
- Me shenja paralajmëruese të zërit dhe dritës.
- Me stop dritat.

3071. **Në cilat raste ngasja bëhet e rrezikshme?**

- Nëse shoferi është nën ndikim të alkoolit.
- Nëse shoferi gjatë ngasjes në kthesa nuk i ndezë të gjithë treguesit e drejtimit.
- Mjeti mund të bartet sidomos nëse rruga është e rrëshqitshme.

3072. **Cilat janë shkaqet që shoferët e rinj dhe pa përvojë shkaktojnë aksidente rrugore?**

- Mosaftësimi i nevojshëm.
- Papërvoja në ngasje.
- Ngasja nën ndikimin e alkoolit posaçërisht gjatë vikendit.

3073. Cilat veprime të shoferit rrezikojnë sigurinë në trafikun rrugor?

- Ngasja nën ndikimin e alkoolit.
- Tejkalimi i automjeteve në pjesën e rrugës me vijë të ndërprerë gjatësore të kufizuar.
- Ngasja e ngadalshme e paarsyeshme.

3074. Në cilat raste duhet pasur kujdes të shtuar gjatë ngasjes?

- Nëse rruga është e rrëshqitshme.
- Në pjesën e rrugës ku lëvizin këmbësorët.
- Vetëm gjatë ngasjes në autoudhë dhe në motoudhë.

3075. Cilat janë parakushtet që shoferi të marrë vendim të drejtë dhe të reagojë me kohë?

- T'i njohë rregullat e trafikut.
- T'i parashihë veprimet e tij dhe pjesëmarrësve tjerë në trafik.
- Të ketë njohuri për identifikimin e rrezikut në rrugë.

3076. Çka është më rëndësi të dinë shoferët e rinj dhe ata pa përvojë?

- Si të reagohet në situatat e rrezikshme.
- Si të reagohet shpejt e saktë.
- Ti njohin moshat e shoferëve të automjeteve që vijnë përballë.

3077. Cilat janë parimet e shoferit të mirë dhe të sigurt?

- Ka konsideratë ndaj pjesëmarrësve tjerë në trafik që veprojnë në kundërshtim me rregullat e trafikut.
- Gjatë ngasjes prapa e ndez treguesin e djathtë të drejtimit.
- I parashih veprimet e tij dhe të pjesëmarrësve tjerë në trafik.

3078. Pse shoferët e rinj dhe ata pa përvojë e rrezikojnë sigurinë në trafikun rrugor?

- Mungesa e përvojës në ngasje.
- Mosnjohja e shkaqeve të cilat shkaktojnë aksidente rrugore.
- Mbivlerësimi i aftësive personale.

3079. Çka ndikon në parashikimin e situatave në trafik?

- Njohuritë për rregullat e trafikut rrugor.
- Përvoja në ngasje.
- Tipi i automjetit.

3080. Pse shoferët e rinj edhe ata pa përvojë e rrezikojnë sigurinë në trafikun rrugor?

- Mungesa e përvojës.
- Dëshirojnë që të tregohen mbizotërues ndaj moshatarve të tyre.
- Mbivlerësimi i aftësive personale.

3081. Çka paralajmrojnë shenjat e rrezikut?

- Ndalimet dhe kufizimet në një pjesë të rrugës.
- Rrezikun në pjesën e rrugës.
- Njoftimet e nevojshme nëpër zonën urbane.

3082. Në çfarë distance vendosen shenjat e rrezikut nga vendi i rrezikut në rrugë jashtë zonës urbane?

- Prej 150 deri 250 metra.
- Prej 50 deri 150 metra.
- Prej 50 deri 100 metra.

3083. Cila është ngjyra bazë e simboleve të shenjat e rrezikut?

- E zezë.
- E verdhë.
- E kuqe.

3084. Çfarë forme kanë shenjat e rrezikut?

- Rrethit.
- Trekëndëshit.
- Katrorit.

3085. Cilat nga shenjat e rrezikut vendosen drejtpërdrejt para vendit të rrezikut?

- Shenja "Punimet në rrugë".
- Shenja "Trafiku zhvillohet në dy kahe".
- Shenja "Kryqi i Andeut".

3086. Në sa nëngrupe ndahen shenjat e urdhrave të prera?

- Kufizimit.
- Ndalimit.
- Obligimit.

3087. Ku fillon vlefshmëria e shenjave të urdhrave të prera?

- Nga vendi i vendosjes së shenjës.
- Në distancë prej 150 deri 250 metra.
- Në distancë prej së paku 100 metra brenda zonës urbane.

3088. Çfarë forme kanë shenjat e urdhrave të prera?

- Rrethit
- Katërkëndëshit.
- Katrorit.

3089. **Çka është më rëndësi për pjesmarrësin në trafik sa i përket shenjës së trafikut?**

- Ta vërejë me kohë.
 Ta kuptojë domethënien e saj.
 Ta dijë prodhuesin e shenjës së trafikut.

3090. **Cilat shenja të urdhrave të prera nuk e kanë formën e rrethit?**

- Shenja “Rruga me përparësi kalimi”.
 Shenja “Ndalje e obligueshme”.
 Shenja “Kryqëzim me rrugën me përparësi kalimi”.

3091. **Cila është ngjyra bazë e shenjave të obligimit?**

- E bardhë.
 E zezë.
 E kaltër

3092. **Deri ku vlejshen shenjat e urdhrave të prera?**

- Deri te kryqëzimi i parë.
 Derisa nuk shfuqizohet me tabelë plotësuese.
 Deri në hyrje të zonës urbane.

3093. **Çfarë ju njoftojnë shenjat e lajmërimit?**

- Rrugën nëpër të cilën lëvizni.
 Objektet e rëndësishme.
 Shërbimet e ndryshme.

3094. **Cilën formë kanë shenjat e lajmërimit?**

- Katrorit.
 Rrethit.
 Trekëndëshit.

3095. **Si dallohen shenjat e trafikut?**

- Sipas ngjyrës.
 Sipas simboleve.
 Sipas formës.

3096. **Çka është më rëndësi për shoferin sa i përket shenjave të trafikut?**

- T'i vërejë me kohë.
 T'i dallojë.
 Të veprojë sipas domethënies së tyre.

3097. **Si duhet të veprojnë pjesmarrësit në trafik kur domethënia e shenjës dallon nga rregulla e krahut të djathtë?**

- Sipas domethënies së shenjës së trafikut.
- Sipas domethënies së rregullës së krahut të djathtë.
- Varësisht nga dendësia e trafikut.

3098. **Ç'farë domethenie ka ngjyra e verdhë e panderprerë në semafor?**

- Ndalim kalimi përveç mjeteve të cilat nuk mund të ndalen në mënyrë të sigurt.
- Çdo herë kalimi i lirë.
- Paralajmëron ndezjen e dritës së gjelbër në semafor.

3099. **Çfarë janë shenjat që i jep personi i autorizuar?**

- Me duar.
- Me pozitë të trupit.
- Vetëm me duar.

3100. **Cilat janë shenjat gjatësore ne rrugë?**

- Vija e plotë gjatësore ndarëse.
- Vija e dyfishtë e ndërprerë.
- Vendkalimi i shënuar për këmbësorë.

3101. **Cilat janë shenjat gjatësore në rrugë?**

- Vija e ndaljes.
- Vija e dyfishtë e ndërprerë.
- Vija e dyfishtë e kombinuar.

3102. **Cilat janë shenjat tërthore në rrugë?**

- Vija e ndaljes.e pandërprerë
- Vendkalimi i këmbësorëve.
- Vija e ndaljes e ndërprerë.

3103. **Cila janë shenjat tërthore në rrugë?**

- Vendkalimi i biçiklistëve.
- Vija ndalëse e ndërprerë.
- Vija e dyfishtë e kombinuar.

3104. **Çka ndikon në parashikimin e situatave në trafik?**

- Përqendrimi në ngasje.
- Përvoja në ngasje.
- Të vërejturit me kohë e shenjave të trafikut.

2105. Çka ndikon në perceptimin e drejtë të situatës në trafikun rrugor?

- Dallimi i ngjyrave.
- Adaptimi i syve nga drita në errësi.
- Vetëm tipi i automjetit që jeni duke e drejtuar.

3106. Çka ndikon në zvogëlimin e fushës së dukshmërisë?

- Shpejtësia e madhe e lëvizjes.
- Shpejtësia e vogël e lëvizjes.
- Alkooli.

3107. Çka ndikon në zvogëlimin e fushës së dukshmërisë?

- Ngasja natën.
- Shpejtësia e vogël e lëvizjes.
- Alkooli.

3108. Si duhet të jetë radhitja e veprimeve për të vështruar trafikun nga prapa nëse doni ta bëni tejkalimin?

- Shikimi në pasqyrë të brendshme, të jashtme, këndi i vdekur dhe ndezja e treguesve të drejtimit.
- Treguesi i drejtimit, këndi i vdekur, shikimi në pasqyrë.
- Vetëm shikimi në pasqyre dhe dhënia e treguesit të drejtimit.

3109. Çka ndikon në zvogëlimin e fushës së dukshmërisë?

- Ngasja nëpër mjegull.
- Shpejtësia e madhe e lëvizjes.
- Ngasja nëndikimin e alkoolit.

3110. Çka ndikon në perceptimin e drejtë të situatës në trafikun rrugor?

- Gjerësia e fushës së dukshmërisë.
- Dallimi i ngjyrave.
- Adaptimi i syve nga drita në errësi.

3111. Në çka duhet përqendruar vëmendjen shoferi gjatë ngasjes?

- Në këmbësorë.
- Në shenjat e trafikut.
- Në distancën e sigurisë gjatësore dhe anësore.

3112. Çka ndikon në zvogëlimin e fushës së dukshmërisë?

- Shpejtësia e madhe e lëvizjes.
- Alkooli.
- Droga.

3113. **Kur duhet rritur distanca e sigurisë ndërmjet mjeteve?**

- Nëse shpejtësia është e madhe.
- Nëse rruga është e rrëshqitëshme.
- Vetëm gjatë lëvizjes brenda zonës urbane.

3114. **Nga çka varet distanca e sigurisë në mes mjeteve gjatë ngasjes?**

- Nga kushtet atmosferike.
- Nga gjendja e rrugës.
- Nga ngarkesa në mjet.

3115. **Nga çka varet distanca e sigurisë në mes mjeteve gjatë ngasjes?**

- Nga kushtet atmosferike.
- Vetëm nga tipi dhe lloji i mjetit.
- Nga gjendja e rrugës.

3116. **Çka duhet të keni parasysh sa i përket distancës së sigurisë nëse rruga është e rrëshqitëshme për shkak të borës?**

- Distanca e sigurisë duhet rritur.
- Distanca e sigurisë duhet zvogëluar dukshëm.
- Distanca e sigurisë duhet të jetë së paku 3 sec.

3117. **Kur duhet të rritet distanca e sigurisë ndërmjet mjeteve gjatë ngasjes?**

- Në rrugë me borë.
- Në pjesën e rrugës të ndotur me baltë.
- Nëse shpejtësia është e vogël.

3118. **Në cilat raste duhet rritur distanca e sigurisë?**

- Nëse rruga është e rrëshqitëshme.
- Nëse rruga është e terur.
- Nëse zhvillohet shpejtësia e madhe.

3119. **Kur duheni ta rritni distancën e sigurisë kur lëvizni njëri pas tjetrit?**

- Në rrugë me borë.
- Në pjesën e rrugës të ndotur me baltë.
- Nëse shpejtësia e lëvizjes është e madhe.

3120. **Në rrugë jashtë zonave urbane me një shirit për një kah, sa duhet të jetë distanca ndërmjet mjetit që tërheq kampshtëpizen dhe mjetit të transportit me mas mbi 3.500 kg, të cilat lëvizin njera pas tjetrës?**

- Së paku 60 m.
- Së paku 80 m.
- Së paku 100 m.

3121. **Nga çka varet distanca e sigurisë ndërmjet mjeteve?**

- Nga gjendja e ngarkesës.
- Nga gjendja psikofizike e shoferit.
- Nga gjendja e sistemit frenues të mjetit.

3122. **Në cilat raste ekziston rreziku nga aksidenti për shkak të mosmbajtjes së distancës?**

- Nëse rruga është me shi.
- Nga mosnjohja e rregullave të trafikut dhe sigurisë.
- Nëse aplikohet ngasja defanzive.

3123. **Nga çka varet distanca e sigurisë në mes të mjeteve gjatë ngasjes?**

- Vetëm nga shpejtësia e lëvizjes.
- Nga lloji dhe gjendja e rrugës.
- Nga lloji dhe gjendja e pneumatikëve.

3124. **Në cilat raste ekziston rreziku nga aksidenti për shkak të mos mbajtjes së distancës së sigurisë?**

- Nëse rruga është me shi.
- Moskujdesi gjatë ngasjes.
- Shkrimi i sms-ve në telefon mobil.

3125. **Nga çka varet distanca e sigurisë ndërmjet mjeteve?**

- Nga ngarkesa e mjetit
- Nga gjendja e rrugës.
- Nga kushtet atmosferike.

3126. **Në cilat raste ekziston rreziku nga aksidenti për shkak të mosmbajtjes së distancës së sigurisë?**

- Nëse rruga është e terur.
- Nëse shpejtësia e lëvizjes është e vogël.
- Nëse shpejtësia e lëvizjes është e madhe.

3127. **Me çka përcaktohet distanca ndërmjet mjeteve gjatë ngasjes?**

- Me rregullat e trafikut.
- Me shenjat e trafikut.
- Me personin e autorizuar.

3128. **Në rrugë jashtë zonave urbane me një shirit për një kah. Sa duhet të jetë distanca ndërmjet dy mjeteve të cilat tërheqin kamp-shtëpiza të cilat lëvizin njera pas tjetrës?**

- Së paku 60 metra.
- Së paku 80 metra.
- Së paku 100 metra.

3129. Në cilat raste zgjatet rruga e reagimit?

- Nëse shoferi është i lodhur.
- Nga moskujdesi.
- Nëse pritet rreziku.

3130. Nga çka varet rruga e frenimit?

- Nga shpejtësia e lëvizjes
- Nga koha e reagimit.
- Nga lloji dhe gjendja e pneumatikëve.

3131. Në cilat raste zgjatet rruga e reagimit?

- Mospërqëndrimi i shoferit në ngasje.
- Nga pakujdesia e shoferit.
- Nga lodhja e shoferit.

3322. Si mund të evitohet aksidenti pas vërejtjes së rrezikut?

- Me frenim.
- Me kthim të mjetit djathtas ose majtas.
- Duke shkruar msg në telefonin mobil.

3133. Në cilat raste zgjatet rruga e frenimit?

- Nëse shpejtësia e lëvizjes është e madhe.
- Nëse pajisjet sinjalizuese nuk janë në rregull.
- Nëse rruga është e rrëshqitshme.

3154. Si mund të evitohet aksidenti pas vërejtjes së rrezikut?

- Me nxitim.
- Me frenim.
- Me aktivizimin e jastëkve të ajrit (air beg).

3135. Nga çka varet rruga e frenimit?

- Nga kushtet atmosferike.
- Nga gjendja e rrugës.
- Vetëm nga lodhja e shoferit.

3136. Nga cili moment fillon rruga e frenimit?

- Nga momenti i shtypjes së pedales së frenimit.
- Nga momenti i vërejtjes së pengesës
- Nga momenti i ndërrimit të shpejtësisë.

3137. **Për sa herë do të rritet rruga e frenimit nëse shpejtësia rritet dyfish?**

- 4 herë.
 2 herë.
 3 herë.

3138. **Si quhet rruga prej momentit të vërejtjes së rrezikut e deri te ndalja e plotë e mjetit?**

- Rruga e frenimit.
 Rruga e reagimit.
 Rruga e ndaljes.

3139. **Në cilat raste zgjatet rruga e ndaljes?**

- Nëse pneumatikët janë me presion adekuat.
 Nëse rruga është e mbuluar me borë.
 Nëse shoferi është i lodhur.

3140. **Nga çka varet koha e reagimit?**

- Nga lodhja e shoferit.
 Nga koncentrimi i shoferit.
 Nga gjendja e rrugës.

3141. **Çka ndikon në rritjen e rrugës së frenimit?**

- Lodhja e shoferit.
 Pneumatikët me presion joadekuat.
 Rruga e mbuluar me borë.

3142. **Çka ndikon në rritjen e rrugës së frenimit?**

- Lodhja e shoferit.
 Ngarkesa në mjet.
 Rruga e mbuluar me akull.

3143. **Si quhet rruga prej momentit të shtypjes së frenit punues e deri te ndalja e plotë e mjetit?**

- Rruga e reagimit.
 Rruga e frenimit.
 Rruga e ndaljes.

3144. **Sa është koha mesatare e reagimit të shoferit?**

- 1 sekondë.
 3 sekonda.
 5 sekonda.

3145. **Çka duhet të keni parasysh kur i afroheni një kryqëzimi me rrugë me rëndësi të njëjtë?**

- Respektimin e rregullës së krahut të djathtë.
- Tramvaji ka përparësi kalimi pa marrë parasysh nga cila anë vjen.
- Mjeti nën përcjellje ka përparësi kalimi kur është në intervenim.

3146 **Pse është me rëndësi që shoferi paraprkishtë të njoftohet për kryqëzimin me shumë shirita për një kah?**

- Që me kohë të rreshtohet në atë shirit që dëshironë të kalojë kryqëzmin.
- Më lehtë të tejkalohet mjeti.
- Që mos të pengohet pa nevojë rrjedha normale e trafikut.

3147. **A ju lejohet hyrja në kryqëzim derisa në semafor është e ndezur drita e kuqe?**

- Po, vetëm nëse me shenjën e dhënë nga personi i autorizuar e kam kalimin e lirë.
- Po, nëse nuk ka pjesëmarrës tjerë në rrugë.
- Po, nëse nuk rrezikohen pjesëmarrësit tjerë në rrugë.

3148. **Në cilat kryqëzime mjetet nën përcjellje, kur janë në intervenim kanë përparësi kalimi?**

- Në kryqëzim të rregulluar me shenja të trafikut.
- Në kryqëzim të rrugëve me rëndësi të njëjtë.
- Në kryqëzim me rrethrotullim.

3149. **Si duhet vepruar kur ju i afroheni kryqëzimit i cili është rregulluar me semaforë?**

- Do të përshtas shpejtësinë.
- Do të vërtetoj se cila dritë është e ndezur në semafor.
- Do të respektoj rregullën e krahut të djathtë.

3150. **Në cilat raste në kryqëzim duhet të jepni përparësi kalimi mjetit që vjen nga krahu i majtë i juaj?**

- Nëse kryqëzimi është i rrugëve me rëndësi të njëjtë.
- Nëse ekziston shenja “ndalje e obligueshme”.
- Nëse në semafor është e ndezur drita e kuqe.

3151. **Çka duhet të keni parasysh kur hyni nga rruga e dheut me rrugën me asfaltë?**

- Në respektimin e rregullës së krahut të djathtë.
- Do ta largoj baltën nga rrotat, nëse kanë.
- Do t'i jap përparësi kalimi të gjitha mjeteve që lëvizin në rrugën në të cilën hyj.

3152. **Në cilat raste në kryqëzim nuk respektohet semafori?**

- Nëse kryqëzimi është i rregulluar me shenja të trafikut.
- Nëse kryqëzimin e rregullon personi i autorizuar.
- Në rastet urgjente.

3153. **Ndaj cilave mjete nuk aplikohet rregulla e krahut të djathtë në kryqëzim të rrugëve me rëndësi të njëjtë?**

- Tramvajit.
- Ndhmës së shpejtë kur është në intervenim.
- Autobusit.

3154. **Si do të veproni kur me mjet i afroheni kryqëzimit?**

- Do ta rris kujdesin.
- Të vërtetoj mënyrën e rregullimit të përparësisë së kalimit.
- Shpejtësinë do t'ia përshtati kushteve dhe rrethanave të kryqëzimit.

3155. **Çka duhet të keni parasysh kur i afroheni kryqëzimit?**

- Të vërtetoj mënyrën e rregullimit të përparësisë së kalimit në kryqëzim.
- Përshtatja e shpejtësisë kushteve dhe rrethanave në kryqëzim.
- Të ndalem çdo herë para kryqëzimit.

3156. **Në kryqëzim jeni duke lëvizur në rrugën me përparësi kalimi. Në cilat raste nuk ju lejohe të hyni në kryqëzim?**

- Nëse në semafor është e ndezur drita e gjelbër.
- Nëse polici më ka dhënë shenjën për ndalje.
- Nëse ka ngecur (bllokuar) trafiku në kryqëzim.

3157. **Para kryqëzimit është vendosur shenja “STOP”. Çka duhet të keni parasysh?**

- Ndalje e obligueshme para se të kaloj kryqëzimin.
- Duhet të ndalem sipas nevojës para shenjës.
- Duhet t'i jap përparësi kalimi rrugës tërthore.

3158. **Si duhet vepruar shoferi i mjetit i cili në kryqëzim kthehet majtas?**

- Duhet t'i lëshojë mjetet që vijnë nga kahu i kundërt dhe kthehen djathtas.
- Duhet t'i lëshojë mjetet që vijnë nga kahu i kundërt dhe lëvizin drejt.
- Ta japë treguesin e majtë të drejtimit.

3159. **Para kryqëzimit është vendosur shenja “Kryqëzim me rrugën me përparësi kalimi”. Çka duhet të keni parasysh?**

- Duhet të ndalem çdo herë para shenjës.
- Duhet t'i jap përparësi kalimi mjeteve që lëvizin në rrugën tërthore.
- Duhet të ndalem sipas nevojës.

3160. **Çka duhet të keni parasysh nëse kryqëzimi është i rregulluar me shenja trafikut?**

- Çdo herë duhet të ndalem para kryqëzimit.
- Do ta respektoj domethënien e shenjës së trafikut.
- Respektimin e rregullës së krahut të djathtë.

3161. Çka ia mundëson shoferit përcjelljen e kushteve të trafikut në kryqëzim?

- Qartësia e të pamurit.
- Dallimi i ngjyrave.
- Fusha e gjerë e dukshmërisë.

3162. Si duhet vepruar shoferi i mjetit i cili i afrohet kryqëzimit?

- Të lëvizë me kujdes të shtuar.
- Të vërtetojë mënyrën e rregullimit të përparësisë së kalimit.
- Duhet të lëvizë me shpejtësi maksimale që zhvillon automjeti.

3163. Në cilat kryqëzime vlejné rregullat e krahut të djathtë ?

- Në kryqëzime të rregulluara me shenja të trafikut.
- Në kryqëzim të rrugëve me rendësi të njëjtë.
- Vetëm në kryqëzime të rregulluar me semafor.

3164. Cilat shenja të trafikut e rregullojnë përparësnë e kalimit në kryqëzim?

- Shenja "Ndalje e obligueshme"
- Shenja "Rruga me një kah".
- Shenja "Trafiku zhvillohet në dy kahe".

3165. Çka duhet pasur parasysh kur i afroheni një kryqëzimi me rrethrotullim me shumë shirita të trafikut?

- Do të rreshtohem sipas shenjave në rrugë.
- Për daljen e parë do të rreshtohem në shiritin e djathtë të skajshëm.
- Do të vërtetoj si është rregulluar përparësia e kalimit në kryqëzim.

3166. Si duhet vepruar shoferi i mjetit i cili në kryqëzim kthehet majtas?

- Duhet t'i lëshojë mjetet që vijnë nga kahu i kundërt dhe kthehen djathtas.
- Duhet t'i lëshojë mjetet që vijnë nga kahu i kundërt dhe lëvizin drejt.
- Duhet t'i lëshojë vetëm mjetet që lëvizin drejt.

3167. Çka duhet të ketë parasysh shoferi i automjetit i cili hyn nga rruga dytësore në rrugën kryesore?

- Duhet tu japë përparësi mjeteve të cilat lëvizin në rrugën kryesore.
- Duhet respektuar shenjën e trafikut.
- Të respektojë rregullën e krahut të djathtë.

3168. Në cilat raste nuk duhet të ndaleni para shenjës STOP?

- Nëse në semafor është e ndezur drita e gjelbër.
- Nëse polici ka dhënë shenjën për kalim të lirë.
- Nëse nuk ka pjesëmarrës tjerë në rrugë.

3169. **Si njoftoheni që jeni duke lëvizur në rrugën kryesore?**

- Në bazë të shenjës së trafikut.
- Në bazë të shiritave të trafikut.
- Në bazë të numrit të mjeteve që lëvizin.

3170. **Si njoftoheni që jeni duke lëvizur në rrugën dytësore?**

- Në bazë të shenjës “Ndalje e obligueshme” .
- Në bazë të shenjës “ Kryqëzim me rrugën me përparësi kalimi”.
- Në bazë të gjerësisë së rrugës.

3171. **Si mund të jetë e rregulluar përparësia e kalimi në kryqëzim?**

- Me person të autorizuar.
- Me semafor.
- Me rregullën e krahut të djathtë.

3172. **Si duhet vepruar shoferi i cili i afrohet kryqëzimit?**

- Të lëvizë me atë shpejtësi që mund të ndalet e t'i lëshojë mjetet që kanë përparësi kalimi.
- Të vërtetojë mënyrën e rregullimit të përparësisë së kalimit.
- Të rreshtohet me kohë në shiritin nëpër të cilin do të lëshojë kryqëzimin.

3173. **Si bëhet kthimi djathtas në kryqëzim, nëse me shenjë të trafikut nuk është përcaktuar ndryshe?**

- Në shiritin e djathtë të skajshëm të trafikut.
- Nga shiriti i mesëm i rrugës.
- Nga cilido shirit në kahun e lëvizjes.

3174. **A i lejohet shoferit të hyjë në kryqëzim në rast se dendësia është e tillë që ai me mjet do të ndalej në kryqëzim?**

- Jo, edhe në rast se ai lëviz në rrugën me përparësi kalimi.
- Jo, edhe në rast se në semafor është e ndezur drita e gjelbër.
- Po nëse pengohen mjetet që lëvizin prapa.

3175. **Çka nuk i lejohet këmbësorit në rrugë?**

- Lojërat dhe lëvizja me pajisje të ndryshme.
- Qëndrimi ulur apo shtrirë në trotuar.
- Lëvizja në shtegun e përbashkët për biçikleta dhe këmbësorë.

3176. **Cilat rregullat vlejné për këmbësorë gjatë lëvizjes jashtë zonës urbane?**

- Duhet ta shfrytëzojë anën e majtë të rrugës në kah të lëvizjes.
- Gjatë kohës së pashmërisë së zvogëluar ta mbajë ndonjë mjet ose pajisje reflektuese apo burim drite.
- Duhet të jetë çdo herë nën përcjelljen e personit të moshës madhore.

3177. **Çka nuk i lejohet këmbësorit?**

- Lëvizja në rrugë.
- Qendrimi në rrugë.
- Ecja natën pa ndonjë burim drite jashtë zonës urbane.

3178. **Cilët janë pjesëmarrësit më të rrezikuar në trafikun rrugor?**

- Fëmijët.
- Personat e verbër.
- Personat me aftësi të kufizuar.

3179. **A i lejohet këmbësorit të kalojë rrugën jashtë vendkalimit të këmbësorëve?**

- Po, çdo herë.
- Po, nëse vendkalimi është më larg se 100 m nga vendi ku do të kalojë rrugën jashtë zonës urbane.
- Jo, në asnjë rast.

3180. **Çka nuk i lejohet këmbësorit?**

- Kalimi i rrugës ku fushëpamja e rrugës është e kufizuar.
- Kalimi i rrugës me dëgjojse (kufje) në vesh, duke përfshirë edhe vendkalimin e shënuar për këmbësorë.
- Ecja përgjatë vijës hekurudhore.

3181. **Çka nuk i lejohet këmbësorit në rrugë?**

- Lëvizja ose qëndrimi në rrugë.
- Kalimi i rrugës nëse vendkalimi është më afër se 50 m nga vendi ku do të kalojë rrugën, brenda zonës urbane.
- Hyrja në rrugë prapa mjetit që kufizon fushëpamjen e rrugës.

3182. **Si reagojnë fëmijët në rrugë?**

- Në të shumtën e rasteve nuk janë të vetëdijshëm për rrezikun në trafik.
- Pa parashikim dhe spontanisht.
- Çdo herë në pajtim me rregullat e trafikut.

3183. **Çka duhet të mbajë si shenjë identifikimi personi i verbër kur merr pjesë në trafik pa praninë e personit përcjellës?**

- Shkopin e bardhë.
- Një shenjë dalluese, ose të jetë nën përcjellje e qenit të aftësuar për udhëheqje.
- Këpucë të bardha.

3184. **Si do të veproni kur personi i verbër e kalon rrugën?**

- Do ta rris kujdesin.
- Do të ndalem dhe do t'i mundësoj kalimin e rrugës.
- Do t'ia tërheq vërejtjen me shenja akustike.

3185. **Çka konsiderohet hyrje në trafik?**

- Kur hyn në rrugë nga prona ose nga një rrugë dheu.
- Kur hyn në rrugë nga rruga në të cilën nuk zhvillohet trafik publik.
- Ngasja nëpër kthesa.

3186. **Cilat janë detyrimet e shoferit para se të ndërmarrë ndonjë veprim?**

- Duhet t'i paralajmërojë qartë dhe me kohë pjesëmarrësit e tjerë në trafik për qëllimin e tij.
- Nëse nuk ekzistojnë treguesit e drejtimit, veprimin duhet paralajmëruar duke dhënë shenjë përkatëse me dorë.
- Të shikojë vetëm këndin e vdekur.

3187. **Cilat kushtet duhet plotësuar nëse me mjet transportohen fëmijë në mënyrë të organizuar ?**

- Mjeti duhet t'i plotësojë kushtet e veçanta dhe të jetë i shënuar me shenjë të veçantë,
- Gjatë kohës së hyrjes dhe daljes së fëmijëve nga mjeti, shoferi duhet t'i ndezë të gjithë treguesit e drejtimit të mjetit.
- Mjeti duhet të jetë i shënuar me trekëndësh të sigurisë.

3188. **Si duhet ta ngasë mjetin shoferi në rrugë publike?**

- Në anën e djathtë të kahut të lëvizjes së rrugës.
- Në shiritin e trafikut të caktuar për lëvizjen e atij lloji të mjeteve të cilit i takon mjeti.
- Nëse shiritat janë të shënuar, nëpër mesin e shiritit të trafikut.

3189. **Si duhet ta ngasë mjetin shoferi në rrugë publike?**

- Në anën e majtë të lëvizjes së rrugës.
- Në shiritin e trafikut të caktuar për lëvizjen e atij lloji të mjeteve të cilit i takon mjeti.
- Në çdo rrugë të pashënuar me vija ndarëse, ta drejtojë mjetin sa më afër skajit të djathtë të rrugës.

3190. **Cilat janë kufizimet për shoferët e rinj gjatë dy viteve të para të posedimit të patentë shoferit?**

- Nuk u lejohe të lëvizin me shpejtësi më të madhe se 50 km/h në rrugët nacionale.
- Nuk u lejohe ta kryejnë transportin e organizuar të fëmijëve.
- Ngasja e automjetit pa qenë i shënuar me tabelë përkatëse.

3191. **Cilat janë kufizimet për shoferët e rinj gjatë dy viteve të para të posedimit të patentë shoferit?**

- Nuk u lejohe të lëvizin me shpejtësi më të madhe ose 70 km/h në rrugët nacionale.
- Nuk u lejohe ta kryejnë transportin e organizuar të fëmijëve.
- Nuk u lejohe fare përdorimi i alkoolit para dhe gjatë ngasjes .

3192. **Cilat janë kufizimet për shoferët e rinj gjatë dy viteve të para të posedimit të patentë shoferit?**

- Nuk u lejohe të lëvizin me shpejtësi më të madhe se 110 km/h në autoudhë.
- Nuk u lejohe ta kryejnë transportin e organizuar të fëmijëve.
- Ngasja e automjetit pa qenë i shënuar me tabelë përkatëse.

3193. **Si duhet vepruar shoferi i mjetit kur tejkalohej nga mjete tjetër?**

- Të largojë mjetin kah skaji i djathtë i rrugës.
- Nuk i lejohej të rrisë shpejtësinë.
- Duhet të ndalet në vend.

3194. **Cilat mjete nuk lejohen të tejkalohej?**

- Vetëm mjetet të cilat bartin materie të rrezikshme.
- Mjetet nën përcjellje kur janë në intervenim (detyrë).
- Mjetet të cilat lëvizin në kolonë (Kolonën e mjeteve).

3195. **A lejohet të tejkalohej mjete në kryqëzim i cili ka sinjalizuar për kthim djathtas?**

- Po, vetëm në kryqëzim të rregulluar me person të autorizuar.
- Po, nëse gjatë tejkalimit nuk kalohet në shiritin rrugor për mjetet që lëvizin nga kahu i kundërt .
- Jo, në asnjë rast.

3196. **Si duhet vepruar shoferi i cili synon që me mjet të fillojë tejkalimin?**

- Të shikojë në pasqyrën e brendshme, të jashtme, dhe në këndin e vdekur.
- Duhet të sinjalizojë me treguesin e drejtimit.
- Të vështrojë trafikun nga prapa.

3197. **A duhet të sinjalizojë shoferi pas tejkalimit gjatë kthimit në shiritin në të cilin ka lëvizur para tejkalimit?**

- Po, parashihet me rregulla të trafikut.
- Jo, vetëm në raste të veçanta.
- Po, vetëm jashtë zones urbane.

3198. **Nga cila anë tejkalohej tramvaji i cili lëviz në mes të rrugës me një kah?**

- Nga ana e djathtë.
- Nga ana e majtë.
- Vetëm nga ana e djathtë.

3199. **Nga çka varet gjatësia e rrugës së tejkalimit?**

- Nga shpejtësia e mjetit i cili tejkalohej.
- Nga shpejtësia e mjetit i cili tejkalon.
- Nga tipi i mjetit i cili tejkalohej.

3200. **Ku është i ndaluar tejkalimi?**

- Aty ku ndalohet me shenja në rrugë (horizontale).
- Aty ku ndalohet me rregulla të trafikut.
- Në vendkalimin e biçiklistëve.

3201. **A lejohet tejkalimi, në kryqëzim me rrethrotullim?**

- Po, parashihet me rregullat e trafikut.
- Jo, në asnjë rast.
- Po, vetëm motoçikletat pa rimorkio anësore.

3202. **Në cilat vende është i ndaluar tejkalimi?**

- Në vendkalimin e biçiklistëve.
- Aty ku ndalohet me shenjë të trafikut.
- Në të gjitha kryqëzimet.

3203. **Si duhet vepruar shoferi i cili tejkalohe?**

- Nuk i lejohet ta rrisë shpejtësinë e lëvizjes në kohën derisa tejkalohe.
- Duhet ta rrisë shpejtësinë e lëvizjes.
- Në rast rreziku të drejtpërdrejtë duhet ta zvogëlojë shpejtësinë e lëvizjes.

3204. **A lejohet tejkalimi i mjeteve drejtpërdrejt para dhe në kryqëzim?**

- Jo, në asnjë rast.
- Po, në kryqëzim me rrethrotullim.
- Po, në të gjitha kryqëzimet.

3205. **Nga cila anë tejkalohe tramvaji i cili lëvizë në mes të rrugës me dy kahe?**

- Nga ana e majtë.
- Nga ana e djathtë.
- Varësisht nga dendësia e trafikut .

3206. **Kur nuk i lejohet shoferit të fillojë tejkalimin e mjetit?**

- Nëse shiriti nëpër të cilin mendon ta bëjë tejkalimin nuk është i lirë.
- Nëse është i ndaluar me shenjë të trafikut.
- Nëse pas tejkalimi nuk mund të kthehet përsëri me mjet në shiritin që ka lëvizur para tejkalimit.

3207. **A lejohet tejkalimi i kolonës së mjeteve?**

- Jo, në asnjë rast.
- Po, nëse kolona lëviz ngadal.
- Po, në rrugë jashtë zonës urbane.

3208. **Ku është i ndaluar tejkalimi?**

- Aty ku ndalohet me shenja në rrugë (horizontale).
- Aty ku ndalohet me rregulla të trafikut.
- Në rrugë ku trafiku zhvillohet në një kah.

3209. Në cilat raste ndalohet tejkalimi?

- Drejtpërdrejt para dhe në vendkalimin e biçiklistëve.
- Në shiritin për nxitim.
- Nëse mjeteve është duke lëvizur në kah të njëjtë por është ndaluar që t'i lëshojë këmbësorët.

3210. A ju lejohe të tejkaloj mjetin tjetër drejtpërdrejt para dhe në kryqëzim?

- Po, mjetin që lëviz në rrugë me përparësi kalimi.
- Po, në kryqëzim me rrethrotullim.
- Jo, në asnjë rast.

3211. A ju lejohe të tejkaloj mjetin në pjesën e rrugës të kufizuar me vijë të plotë gjatësore?

- Po, mjetet të cilat në rrugë të rrafshët nuk mund të zhvillojnë shpejtësi mbi 30 km/h.
- Po, mjetet të cilat në rrugë të rrafshët nuk mund të zhvillojnë shpejtësi mbi 20 km/h.
- Jo, në asnjë rast.

3212. Cilin mjet nuk lejohe të tejkalohe?

- Mjetin i cili lëviz në kolonë (Kolonën e mjeteve).
- Mjetin i cili është ndaluar për të lëshuar këmbësorin.
- Mjetin nën përcjellje kur është në intervenim.

3213. A lejohe tejkalimi në afërsi të qafë së malit?

- Jo, nëse rruga ka vetëm një shirit të trafikut për një kah.
- Po, vetëm nëse nuk ka mjete tjera në rrugë.
- Po, nëse rruga ka së paku dy shirita të trafikut për një kah.

3214. A lejohe tejkalimi i traktorit në pjesën e rrugës së kufizuar me vijë të plotë gjatësore?

- Jo, pasi është e ndaluar me rregullat e trafikut.
- Po, nëse nuk pengohen ose rrezikohen pjesëmarrësit tjerë në trafik.
- Po, vetëm jashtë zonës urbane.

3215. Çka duhet të keni parasysh gjatë tejkalimit të mjeteve me dy rrota?

- Distanca anësore e sigurisë duhet të jetë së paku 1 m.
- Distanca anësore e sigurisë duhet të jetë së paku 1.5 m.
- Do të sinjalizoj me tregues të drejtimit.

3216. Në cilat kryqëzime lejohe tejkalimi?

- Në kryqëzim i cili rregullohet nga personi i autorizuar.
- Në kryqëzim me rrethrotullim.
- Në kryqëzim i cili rregullohet me semafor.

3217. **A ju lejohet tejkalmimi në kryqëzim, i cili është rregulluar me shenjë të trafikut?**

Po, nëse lëviz në rrugë me përparësi kalimi.

Jo, në asnjë rast.

Po, vetëm në rrugë me trafik në një kah.

3218. **Çka duhet të ketë parasysh shoferi para se të filloj tejkalmimin?**

Të sigurohet se tejkalmimin mund ta bëjë në mënyrë të sigurt.

T'i lajmërojë me kohë me shenjen përkatëse pjesëmarrësit tjerë të trafikut.

Që rruga të ketë hapsirë të mjaftueshme për ta kryer tejkalmimin.

3219. **Si do të veproni para se të filloni tejkalmimin?**

Të sigurohem se shoferi i mjetit para tij nuk e ka filluar tejkalmimin.

Të sigurohem që shiriti rrugor nëpër të cilin kam ndërmend ta bëj tejkalmimin, është i lirë.

Të sigurohem se me shenjë të trafikut nuk e kam të ndaluar tejkalmimin.

3220. **Cilat mjete lejohen të tejkaloen në kryqëzim të rrugëve me rëndësi të njëjtë?**

Të gjitha mjetet rrugore.

Biçikletat.

Motoçikletat pa rimorkio anësore.

3221. **Cilat drita përdoren natën gjatë tejkalmimit?**

Dritat e shkurtëra.

Pas mbarimit të tejkalmimit mund të përdoren dritat e gjata.

Dritat e gjata që të shihet rruga më mirë në distancë të mjaftueshme.

3222. **Cilat mjete lejohen të tejkaloen para dhe në kryqëzim të rrugëve me rëndësi të njëjtë?**

Biçikletat.

Traktorët.

Automjetet e udhëtarëve (veturat).

3223. **Cilat janë rreziqet e mundshme gjatë tejkalmimit?**

Kalohet në shiritin e trafikut të paraparë për mjetet që lëvizin nga kahu i kundërt.

Nënvlërësimi i shpejtësisë së mjetit, i cili vjen nga kahu i kundërt.

Shoferi i mjetit i cili tejkaloet mund ta rrisë shpejtësinë e lëvizjes.

3224. **Çka duhet të keni parasysh gjatë kohës derisa ju tejkalon mjeti tjetër?**

Mjetin do ta largoj kah skaji i djathtë i rrugës.

Nuk më lejohet rritja e shpejtësisë.

Duhet të ndal mjetin në vend.

3225. **Cilat janë obligimet e shoferit para tejkalimit?**

- Të sigurohet se shoferi i mjetit që lëviz prapa tij nuk e ka filluar tejkalimin.
- Të sigurohet se shoferi para tij në të njëjtin shirit të trafikut nuk ka sinjalizuar që të tejkalojë ndonjë mjet tjetër.
- Rruga të ketë hapsirë të mjaftueshme që të kryhet tejkalimi.

3226. **A i lejohet shoferit të mjetit të rrisë shpejtësinë gjatë kohës derisa tejkalohe nga mjeti tjetër?**

- Po, nëse është duke lëvizur ngadal.
- Jo, nuk lejohet me rregullat e trafikut.
- Po, në rrugë jashtë zonave urbane.

3227. **Cilat janë obligimet e shoferit para dhe gjatë tejkalimit?**

- Të vështrohet trafiku nga prapa.
- Të sigurohet mos po i vjen ndonjë mjet nga kahu i kundërt.
- Ta mbaj distancën anësore të sigurisë.

3228. **Ku ndalohet tejkalimi?**

- Aty ku ndalohet me rregulla të trafikut.
- Në kryqëzim me rrethrotullim.
- Në kryqëzim me rëndësi të njëjtë, përveç mjeteve me dy rrota pa rimorkio anësore.

3229. **Si është i rregulluar anashkalimi?**

- Me rregullat e trafikut.
- Vetëm me person të autorizuar.
- Me shenjë të trafikut .

3230. **Cilat rreziqe mund të paraqiten gjatë anashkalimit?**

- Mund të vijë mjeti nga kahu i kundërt.
- Hapja e befasishme e dyerve të mjetit, i cili është i ndalur ose i parkuar.
- Nëse nuk ndezen të gjithë treguesit e drejtimit gjatë anashkalimit.

3231. **Nga cila anë mund ta anashkalojë shoferi ishullin për këmbësorë i cili gjendet në mes të rrugës me një kah?**

- Nga ana e djathtë.
- Nga ana e majtë.
- Vetëm nga ana e mjetit.

3232. **Cilat janë obligimet e shoferit para dhe gjatë anashkalimit?**

- Të ndezë të gjithë treguesit e drejtimit.
- Të sigurohet mos po vjen ndonjë mjet nga kahu i kundërt.
- Ta mbajë distancën anësore të sigurisë.

3233. **Si është i rregulluar përballëkalimi?**

- Me shenja të trafikut.
 Me rregulla të trafikut.
 Vetëm me semafor.

3234. **Në rrugë me pjerrtësi gjatësore, në të cilin përballëkalimi është i vështirësuar, cili mjet duhet të lëvizë prapa për ta mundësuar përballëkalimin?**

- Mjeti i lehtë i cili takohet me mjetin e kategorisë më të lartë (rëndë).
 Kamioni, kur takohet me automjetin e udhëtarëve (veturën).
 Automjeti i udhëtarëve, kur takohet me kamionin.

3235. **Kur mjetet vijnë në kryqëzim nga kahu i kundërt dhe kthehen majtas, nga cila anë përballëkalohen?**

- Nga ana e majtë e tyre.
 Nga ana e djathtë e tyre.
 Nga cilado anë.

3236. **Në rrugë me pjerrtësi gjatësore, në të cilin përballëkalimi është i vështirësuar, cili mjet duhet të lëvizë prapa për ta mundësuar përballëkalimin?**

- Automjeti i udhëtarëve (vetura), kur takohet me bashkësinë e mjeteve.
 Automjeti i udhëtarëve, i cili tërheq kampshtëpizen kur takohet me autobusin.
 Automjeti i udhëtarëve, kur takohet me kamionin.

3237. **Në rrugë me pjerrtësi gjatësore, në të cilin përballëkalimi është i vështirësuar, cili mjet duhet të lëvizë prapa për ta mundësuar përballëkalimin?**

- Mjeti i lehtë, i cili takohet me mjetin e kategorisë më të lartë (rëndë).
 Kamioni, ku takohet me automjetin e udhëtarëve (veturën) e cila tërheq kampshtëpizen.
 Kamion, ku takohet me automjetin e udhëtarëve.

3238. **Në rrugë me pjerrtësi gjatësore, në të cilin përballëkalimi është i vështirësuar, cili mjet duhet të lëvizë prapa për ta mundësuar përballëkalimin? .**

- Mjeti i lehtë, i cili takohet me mjetin e kategorisë më të lartë (rëndë).
 Kamioni, kur takohet me automjetin e udhëtarëve (veturën) e cila tërheq kampshtëpizen.
 Automjeti i udhëtarëve, kur takohet me kamionin.

3239. **Në rrugë me pjerrtësi gjatësore takohen mjetet e kategorisë së njëjtë, cili mjet duhet të lëvizë prapa për ta mundësuar përballëkalimin?**

- Mjeti i cili lëvizë teposhtëze.
 Mjeti i cili lëvizë përjetëze.
 Mjeti i cili lëviz më shpejt.

3240. **Në rrugë me pjerrtësi gjatësore, në të cilin përballëkalimi është i vështirësuar, cili mjet duhet të lëvizë prapa për ta mundësuar përballëkalimin?**

- Mjeti i rëndë, i cili takohet me mjetin e kategorisë së lehtë.
 Kamioni, kur takohet me automjetin e udhëtarëve (veturën) e cila tërheq kampshtëpizen.
 Automjeti i udhëtarëve, kur takohet me kamionin.

3241. Sa është shpejtësia më e madhe e lejuar brenda zonës urbane nëse me shenjë trafiku nuk është përcaktuar ndryshe?

50 km/h

60 km/h.

80 km/h.

3242. Sa është shpejtësia më e madhe e lejuar në rrugë nacionale?

70 km/h.

110 km/h, në rrugë me dy ose më tepër shirita të trafikut për një kahe me ndarje fizike.

80 km/h, në rrugë me një shirit trafikut për një kahe.

3243. Sa është shpejtësia më e madhe e lejuar në motoudhë?

80 km/h

100 km/h.

110 km/h.

3244. Sa është shpejtësia më e madhe e lejuar në rrugë nacionale?

70 km/h, në rrugë me një shirit trafikut për një kahe.

100 km/h, në rrugë me dy ose më tepër shirita të trafikut për një kahe me ndarje fizike.

110 km/h, në rrugë me dy ose ma tepër shirita trafikut për një kahe me ndarje fizike.

3245. Cilat shpejtësi vlejné në autoudhë?

Shpejtësia më e madhe e lejuar deri 130 km/h.

Shpejtësia më e madhe e lejuar deri 110 km/h.

Shpejtësia më e vogël e lejuar së paku 60 km/h.

3246. Cilat janë denimet nëse shoferi e tejkalon shpejtësinë mbi 30km/h deri 50 km/h brenda zonës urbane?

Shqiptimi i tri pikëve negative.

Masa mbrojtëse ndalim i të drejtuarit të mjetit me veprim motorik në kohëzgjatje deri në 3 muaj.

Dënimi me të holla prej 200 deri 600 euro.

3247. Cilat shpejtësi vlejné në motoudhë?

Shpejtësia më e madhe e lejuar deri 130 km/h.

Shpejtësia më e madhe e lejuar deri 110 km/h.

Shpejtësia më e vogël e lejuar së paku 60 km/h.

3248. Për cilat rrugë vlejné kufizimi i shpejtësia 80 km/h nëse me shenjë të trafikut nuk është përcaktuar ndryshe?

Në rrugët rajonale.

Në rrugë lokale.

Në të gjitha rrugët brenda zonës urbane.

3249. **A lejohet shpejtësia më e madhe se 50 km/h brenda zonës urbane?**

- Jo, në asnjë rast .
- Po, me shenjë të trafikut deri 80 km/h.
- Po, me shenjë të trafikut vetëm deri 60 km/h.

3250. **Për cilat mjete vlenë kufizimi i shpejtësisë maksimale 40 km/h?**

- Për mjetin i cili terheq mjetin tjetër në defekt.
- Për traktor klasik.
- Për mjetin e udhëtarëve (veturën) e cila terheq kamp-shtëpizën.

3251. **Për cilat mjete vlenë kufizimi i shpejtësisë maksimale 80 km/h?**

- Për mjetin i cili transporton persona në mënyrë grupore.
- Për mjetin i cili transporton materie të rrezikshme.
- Për mjetin e udhëtarëve (veturën) e cila tërheq kamp-shtëpizën.

3252. **Cilat janë dënimet nëse shoferi e tejkalon shpejtësinë mbi 30km/h deri 50 km/h jashtë zones urbane?**

- Shqiptimi i dy pikëve negative.
- Masa mbrojtëse ndalim i të drejtuarit të mjetit me veprim motorik deri një vit.
- Dënimi me të holla prej 100 deri 300 euro.

3253. **Si përcaktohet shpejtësia e lëvizjes?**

- Me shenja të trafikut.
- Me rregulla të trafikut.
- Vetëm me shenja të trafikut.

3254. **Kur shoferi duhet ta zvoglojë shpejtësinë e lëvizjes?**

- Kur i afrohet vendndaljeve për autobus (kur autobusi është i ndalur).
- Kur kalon nga pjesa e ndriçuar në pjesën e pandriçuar të rrugës.
- Kur i afrohet kryqëzimit.

3255. **Si duhet përshtatur shpejtësinë e lëvizjes?**

- Sipas dukshmërisë së rrugës.
- Sipas kushteve të trafikut.
- Sipas kushteve të rrugës.

3256. **Cilat janë dënimet nëse shoferi e tejkalon shpejtësinë më tepër se 50km/h jashtë zones urbane?**

- Shqiptimi i tri pikëve negative
- Masa mbrojtëse ndalim i të drejtuarit të mjetit me veprim motorik në kohëzgjatje prej tre muajsh.
- Dënimi me të holla prej 200 deri 600 euro.

3257. **Cilat janë dënimet nëse shoferi e tejkalon shpejtësinë mbi 30km/h deri 50 km/h brenda zones urbane?**

- Shqiptimi i tri pikëve negative.
- Masa mbrojtëse ndalim i të drejtuarit të mjetit me veprim motorik gjashtë deri në dymbëdhjetë muaj.
- Dënimi me të holla prej 200 deri 600 euro.

3258. **Si duhet përshtatur shpejtësinë brenda zonës urbane?**

- Sipas rregullave të trafikut që vlejën brenda zonës urbane.
- Sipas shenjave të trafikut.
- Sipas kushteve dhe rrethanave të përgjithëshme në rrugë.

3259. **Si duhet përshtatur shpejtësinë e lëvizjes?**

- Dukshmërisë (pamjes) së rrugës.
- Ngarkesës së mjetit.
- Aftësi personale të shoferit.

3260. **Cilat janë dënimet nëse shoferi e tejkalon shpejtësinë mbi 50km/h brenda zonës urbane?**

- Shqiptimi i pesë pikëve negative
- Masa mbrojtëse ndalim i të drejtuarit të mjetit me veprim motorik deri në një vjet.
- Dënimi me të holla prej 300 deri 900 euro.

3261. **Kur shoferi posaçërisht duhet ta zvogëlë shpejtësinë?**

- Nëse ka hasur në trekëndëshin e sigurisë i cili është i vendosur në rrugë.
- Kur i afrohet vendkalimit hekurudhor.
- Nëse në rrugë ka fëmijë.

3262. **Kur shoferi posaçërisht duhet ta zvogëlë shpejtësinë?**

- Kur i takon ose i hasë mjetet me përparësi kalimi.
- Gjatë përballëkalimit natën, kur mjete nga kahu i kundërt i ka të ndezura dritat e gjata.
- Gjatë tejkalimit.

3263. **Pse nuk i lejohet shoferit ngasja me shpejtësi shumë të vogël se sa parashihet me shenjë të trafikut?**

- Pa nevojë pengohet rrjedha e trafikut.
- Mundet të vijë deri te përpalsja e mjetit prapa me ate përpara.
- Nxiti shoferët të hyjnë në tejkalime të rrezikshme.

3264. **Ku duhet ta zvogëloni shpejtësinë e lëvizjes?**

- Në pjesën e rrugës ku paralajmërohet për shembje gurësh.
- Në pjesën e rrugës kur paralajmërohet ngushtim rruge nga të dy anët.
- Në shiritin për nxitim.

3265. **Ku ndalohet ndalja e mjetit?**

- Në nënkalime.
- Mbi rrjetin e kanalizimit.
- Brenda zonës urbane.

3266. **Ku ndalohet ndalja e mjetit?**

- Në tunel.
- Në vendin ku ekziston hyrja apo dalja nga garazhi.
- Mbi urë.

3267. **Ku ndalohet parkimi i mjetit ?**

- Në hyrje të rrugëve nëpër lagje.
- Në vendin ku mbulohet shenja e trafikut.
- Në vendndalje të autobusëve.

3268. **Ku ndalohet ndalja e mjetit?**

- Në distancë më të vogël se 5 metra para vendkalimit të këmbësorëve.
- Në nënkalime dhe mbikalime.
- Mbi binaret e tramvajit.

3269. **Ku ndalohet parkimi i mjetit ?**

- Në vendndalje të autobusëve.
- Në vendin ku ekziston hyrja apo dalja nga garazhi.
- Në vendparkim.

3270. **Ku ndalohet ndalja e mjetit?**

- Në kryqëzim.
- Në shiritin për biçikleta.
- Në afërsi të qafëmalit (kurriz).

3271. **Ku është ndaluar parkimi i mjetit?**

- Në vendkalimin e këmbësorëve.
- Në mbikalime.
- Në distancë më të vogël se 15 m, para dhe prapa shenjës “vendndalje e autobusëve”.

3272. **Ku është i ndaluar ndalja e mjetit?**

- Në nën dhe mbikalime.
- Në afërsi të qafëmalit.
- Në largësi prej 15 m, nga vendkalimi hekurudhor.

3273. **Ku ndalohet parkimi i mjetit?**

- Në distancë më të vogël se 15 m nga tuneli.
- Në distancë më të vogël se 15 m, para dhe prapa shenjës “ vendndalje e autobusëve”.
- Mbi kapakët e rrjetit të kanalizimit.

3274. **Ku ndalohet parkimi i mjetit?**

- Në vendin ku ekziston hyrja apo dalja nga parkingu.
- Në distancë më të vogël se 15 m, para dhe prapa shenjës “ vendndalje e autobusëve”.
- Në kalimet ndërmjet ndërtesave, përkatësisht në hyrje apo në dalje të blloqeve të banesave.

3275. **Ku ndalohet ndalja e mjetit?**

- Brenda zonës urbane.
- Në vendkalimin e këmbësorëve
- Në kthesa të padukshme.

3276. **Ku ndalohet ndalja e mjetit?**

- Në motoudhë.
- Në qafë të malit.
- Në rrugë brenda zonës urbane.

3277. **Ku ndalohet ndalja e mjetit?**

- Në distancë më të vogël se 5 metra para vendkalimit të këmbësorëve.
- Mbi rrjetin e kanalizimit.
- Në distancë më të vogël se 15 metra para vendkalimit të këmbësorëve.

3278. **Ku ndalohet parkimi i mjetit?**

- Në vendparkim.
- Në vendndalje të autobusëve.
- Nëse mjeti i parkuar do të pamundësonte daljen apo hyrjen në vendparking.

3279. **Ku ndalohet parkimi i mjetit?**

- Para hyrjes në oborr të shtëpisë.
- Në vendndalje të autobusëve.
- Në vendkalimin për biçikleta.

3280. **Ku ndalohet parkimi i mjetit?**

- Mbi kapakët e rrjetit të ujësjellësit.
- Në rrugët jashtë vendparkimeve të cilat i lidhin hapësirat e parkimit me ndërtesat e banimit dhe me rrugë të tjera.
- Në sipërfaqe të zgjeruar jashtë shiritit të trafikut, të paraparë për mjetet e transportit publik.

3281. **Ku ndalohet parkimi i mjetit ?**

- Mbi kapakët e rrjetit të ujësjellësit.
- Në kryqëzim.
- Në hyrje të rrugëve nëpër lagje.

3282. **Ku ndalohet ndalja e mjetit?**

- Mbi ura.
- Në distancë më të vogël se 5 m para vendkalimit të këmbësorëve.
- Mbi kapakët e rrjetit të ujësjellësit

3283. **Si duhet vepruar kur mjeti parkohet në përpjetëze?**

- Rrotat e para kthehen kah mesi i rrugës.
- Ndërruesi i shpejtësisë vihet në pozicion për ngasje përpara.
- Aktivizohet freni i parkimit

3284. **Si duhet vepruar kur mjeti parkohet në teposhtëze?**

- Rrotat e para kthehen kah skaji i djathtë i rrugës.
- Ndërruesi i shpejtësisë vihet në pozicion për ngasje prapa.
- Aktivizohet freni i parkimit.

3285. **Si duhet vepruar kur mjeti parkohet në teposhtëze?**

- Rrotat e para kthehen kah skaji i djathtë i rrugës.
- Rrotat e para kthehen nga mesi i rrugës.
- Aktivizohet freni i parkimit.

3286. **Ku ndalohet ndalja?**

- Para garazhit.
- Në hyrje të rrugëve nëpër lagje.
- Në shiritin për biçikleta.

3287. **Si duhet vepruar kur mjeti parkohet në përpjetëze?**

- Rrotat e para kthehen kah skaji i djathtë i rrugës.
- Rrotat e para kthehen nga mesi i rrugës.
- Aktivizohet freni i parkimit.

3288. **Çka duhet të keni parasysh nëse e drejtoni traktorin?**

- Nëse traktori tërheq rimorkion mund të transportohen deri 3 persona të cilët punojnë në ngarkim-shkarkim të ngarkesës.
- Duhet ngarë në shiritin anësor në rrugët nacionale me dy ose më tepër shirita për një kah me ndarje fizike.
- Nuk më lejohet lëvizja në shiritin e majtë në rrugë brenda zonës urbane me dy ose më tepër shirita për një kah, përveç para kryqëzimit.

3289. **Çka duhet të keni parasysh nëse e drejtoni traktorin?**

- Në kufizim të shpejtësisë që vlenë për traktorin.
- Duhet ngarë në shiritin anësor në rrugët nacionale me dy ose më tepër shirita për një kah me ndarje fizike.
- Më lejohet të tërheq mjete dhe vegla të bashkëngjitura, të cilat janë të parapara t'i tërheq traktori.

3290. **Çka paralajmron drita e kuqe në vendkalimin hekurudhor?**

- Ardhjen e trenit.
- Lëshuarjen e barrierave (mbrojtëset) ose gjysmëbarrierave.
- Ndaljen e detyrueshme para vendkalimit hekurudhor.

3291. **Si do të veproni nëse gjysmëbarrierat kanë filluar të ngriten?**

- Duhet të ndalem para vendkalimit hekurudhor deri sa të përfundojë ngritja e gjysmëbarrierave.
- Duhet ta kaloj vendkalimin hekurudhor në pjesën e majtë të rrugës.
- Nëse nuk ka mjet nga kahu i kundërt e kaloj vendkalimin hekurudhor nga ana e majtë e rrugës.

3292. **Si është i rregulluar vendkalimi hekurudhor?**

- Me person të autorizuar.
- Me barriera (mbrojtëse) dhe gjysmëmbrojtëse.
- Me pajisje ndriçuese që paralajmëron ardhjen e trenit.

3293. **Në kohën kur i afroheni vendkalimit hekurudhor, fillojnë të lëshohen mbrojtëset. Si do të veproni në këtë rast?**

- Do të ndalem para vendkalimit hekurudhor.
- Nëse nuk shihet treni, do të kaloj sa më shpejtë nëpër vendkalim hekurudhor.
- Nëse nuk ka mjete nga kahu i kundërt me shpejtësi të rritur do të kaloj vendkalimin hekurudhor.

3294. **Si duhet të kaloni vendkalimin hekurudhor pa shenja të trafikut?**

- Duhet rritur shpejtësinë dhe sa më parë të kalohet vendkalimi hekurudhor.
- Duhet më parë të sigurohet se nuk ka tren, e pastaj me kujdes të shtuar të kalohet vendkalimi hekurudhor.
- Duhet me shpejtësi të njëjtë që të kalohet vendkalimi hekurudhor.

3295. **Kur mund ta kaloni vendkalimin hekurudhor pa mbrojtëse me dritë të kuqe, pasi që treni ka kaluar?**

- Atëherë kur drita e kuqe fiket.
- Pasi ka kaluar treni, do të kaloj pa u fikur drita e kuqe.
- Menjëherë si të fillojnë të lëvizin mjetet nga kahu i kundërt.

3296. **Në cilat raste jeni të detyruar të ndaleni para vendkalimit hekurudhor?**

- Nëse para vendkalimit hekurudhor është shenja “Ndalje e obligueshme”.
- Nëse barrierat kanë filluar të lëshohen.
- Nëse janë të ndezura dritat e kuqe.

3297. **Cilat veprime ndalohen në autoudhë?**

- Tejkalimi.
- Lëvizja në kahun e kundërt në të njëjtin shirit rrugor.
- Kthimi gjysmërrethor.

3298. **Si njoftoheni se jeni duke lëvizur nëpër autoudhë?**

- Në bazë të shiritave të trafikut.
- Në bazë të shenjës së trafikut.
- Në bazë të gjerësisë së rrugës.

3299. **Cilat mjete nuk lejohen të lëvizin në autoudhë?**

- Automjetet që nuk mund të zhvillojnë shpejtësi së paku 60 km/h.
- Biçikleta.
- Mopedët.

3300. **Cilat veprime nuk lejohen në autoudhë?**

- Ndalja në rast defekti në shiritin për ndalje emergjente.
- Ngasja në shiritin për ndalje emergjente.
- Lëvizja prapa.

3301. **Si duhet vepruar shoferi gjatë ngasjes nëpër autoudhë?**

- Duhet të shfrytëzojë shiritin e djathtë të skajshëm për ngasje nëse nuk është i zënë në kolonë.
- Ta mbajë distancën e sigurisë ndaj mjetit që lëvizë përpara.
- Gjatë gjithë kohës ta shfrytëzojë shiritin e majtë të skajshëm për lëvizje.

3302. **Si do të veproni gjatë hyrjes në autoudhë?**

- Duhet ta shfrytëzojë shiritin për nxitim.
- Duhet t'u jap përparësi kalimi automjeteve të cilat lëvizin nëpër autoudhë.
- Duhet të ndalem çdo herë para hyrjes nëpër autoudhë.

3303. **Cilat veprime nuk lejohen në autoudhë?**

- Lëvizja me shpejtësi më të madhe se 130 km/h.
- Kthimi gjysmërrethor.
- Lëvizja prapa.

3304 **Si do të veproni gjatë daljes nga autoudha?**

- Do të sinjalizoj me treguesin e djathtë të drejtimit.
- Do të kaloj në shiritin për ngadalsim.
- Sipas nevojës do të zvogëloj shpejtësinë e lëvizjes pasi të kaloj në shiritin për ngadalsim.

3305 . **Çka duhet të keni parasysh gjatë hyrjes në motoudhë?**

- Automjetet të cilat hyjnë në motoudhë kanë përparësi kalimi.
- Automjetet të cilat lëvizin në motoudhë kanë përparësi kalimi.
- Respektohet rregulla e krahut të djathtë gjatë hyrjes në motoudhë.

3306 . **Pas një kohe ngasjeje (udhëtimi) të gjatë, doni të dilni nga autoudha. Çka duhet pasur parasysh në këtë rast?**

- Do të kontrolloj shpejtësinë.
- Do të zvogloj shpejtësinë në shiritin për ngadalsim sipas nevojës.
- Daljen nga autoudha e sinjalizoj me treguesin e drejtimit.

3307. **Gjatë ngasjes në autoudhë keni kaluar gabimisht daljen e dëshiruar. Si do të veproni në këtë situatë?**

- Do t'i ndezi të gjithë treguesit e drejtimit dhe me ngasje prapa do të lëvizi deri te dalja më e afërt.
- Do të vazhdoj ngasjen deri te dalja tjetër.
- Do të bëj kthimin gjysmërrethor.

3308. **Cilat janë rreziqet e mundshme gjatë ngasjes në autoudhë?**

- Gjatë ndërrimit të shiritave për shkakë të mosshikimit në kënd të vdekur.
- Mosmbajtja e distancës së sigurisë.
- Lodhja dhe monotonia.

3309. **Nëse vjen deri te ngecja në autoudhë, si duhet të sillen shoferët e automjeteve në kolona?**

- Duhet skajuar djathtas dhe majtas, duke lënë mesin e lirë për mjetet me përparësi kalimi (intervenim).
- Mund të ngasin nëpër shiritin për ndalje emergjente deri te dalja e parë..
- Mund të bëjnë kthimin gjysmërrethor dhe të ngasin deri te dalja.

3310. **Cilat veprime ndalohen në autoudhë?**

- Shpejtësia më e madhe se 130 km/h.
- Shpejtësia më e vogël se 60 km/h.
- Tërheqja e mjetit në defekt natën.

3311. **Pse aksidentet zingjirorë janë më të shpeshta në autoudhë?**

- Për shkak të mosmbajtjes së distancës së sigurisë te shpejtësitë e mëdha.
- Frenimi i vullshëm.
- Moskujdesi.

3312. **Si do të ngitni nëpër autoudhë?**

- Do të ngas në shiritin e djathtë të skajshëm nëse nuk është i zënë në kolonë.
- Kohë pas kohe do të vështroj trafikun nga prapa.
- Me shpejtësi maksimale që zhvillon automjeti.

3313. **Cilat mjete nuk lejohen të lëvizin në motoudhë?**

- Mjetet që nuk mund të zhvillojnë shpejtësi së paku 60 km/h.
- Biçikletat.
- Motoçikletat.

3314. **Si njoftoheni se jeni duke lëvizur nëpër motoudhë?**

- Në bazë të shiritave të trafikut.
- Në bazë të shenjës së trafikut.
- Në bazë të gjerësisë së rrugës.

3315. **Cilat veprime ndalohen në motoudhë?**

- Lëvizja prapa.
- Tejkalimi.
- Kthimi gjysmërrethor.

3316. **Cilat veprime nuk lejohen në motoudhë?**

- Lëvizja me shpejtësi më vogël se 60 km/h.
- Kthimi gjysmërrethor.
- Lëvizja prapa.

3317. **Si do të veproni gjatë daljes nga motoudha?**

- Duhet sinjalizuar me treguesin e drejtimit.
- Duhet vështruar trafikun nga prapa.
- Do të zvogëloj shpejtësinë sipas nevojës.

3318. **Si do të veproni gjatë hyrjes në motoudhë?**

- Do të hyj pa dhënë treguesin e drejtimit nëse nuk ka mjete prapa meje.
- Duhet t'u jap përparësi kalimi automjeteve të cilat lëvizin nëpër motoudhë.
- Duhet të ndalem çdo herë para hyrjes në motoudhë.

3319. **Cilat veprime nuk lejohen në motoudhë?**

- Lëvizja me shpejtësi më të vogël se 60 km/h.
- Kthimi gjysmërrethor.
- Anashkalimi.

3320. **Si do të veproni gjatë ngasjes nëpër motoudhë?**

- Duhet kontrolluar trafikun nga prapa kohë pas kohe.
- Do ta mbajë distancën e sigurisë ndaj mjetit që lëviz përpara.
- Para çdo veprimi më parë do të sigurohem se nuk i pengoj dhe rrezikoj pjesëmarrësit tjerë në trafik.

3321. **Cilat veprime nuk lejohen në tunel?**

- Ndalja dhe parkimi i mjetit.
- Përdorimi i dritave të shkurtëra.
- Kthimi gjysmërrethor.

3322. **Cilat janë rreziqet e mundshme gjatë ngasjes në tunel?**

- Mospërshtatja e shpejtësisë.
- Dobësimi (zvogëlimi) i dukshmërisë.
- Mosadaptimi i syve nga drita në errësi.

3323. **Cilat veprime nuk lejohen në tunel?**

- Lëvizja prapa.
- Kthimi gjysmërrethor.
- Ndezja e dritave të shkurtëra.

3324. **Çka duhet të keni prasysh nëse keni hasur shenjën “Afërsia e tunelit”?**

- Do ta përshtati shpejtësinë e lëvizjes sipas nevojës do ta zvogëloj.
- Do t’i përdori dritat e shkurtëra për ndriçimin e rrugës.
- Nëse tuneli është i ndriçuar mirë, nuk kam nevojë t’i ndez dritat e shkurtëra.

3325. **Çka duhet të keni parasysh gjatë ngasjes nëpër tunel?**

- Në adaptim të syve nga drita në errësi.
- Në dobësim (zvogëlim) të dukshmërisë.
- Mund të hasni në ndonjë mjet të pandriçuar.

3326. **A lejohet lëvizja prapa në tunel?**

- Po, nëse tuneli është i ndriçuar.
- Jo, në asnjë rast.
- Po, nëse tuneli nuk është i gjatë.

3327. **A duhet ti përdorni dritat e shkurtëra në tunel gjatë ditës?**

- Po.
- Jo, nëse nuk ka trafik nga kahu i kundërt.
- Jo, në tunel me ndriçim.

3328. **Çka ndalohet në tunel?**

- Përdorimi i dritave të gjata.
- Kthimi gjysmërrethor.
- Lëvizja prapa.

3329. **Cilat rregullat nuk i zbatojnë mjetet nën përcjellje kur janë në intervenim?**

- Rregullat që kanë të bëjnë me kufizimin e shpejtësisë.
- Urdhrin e personit të autorizuar i cili rregullon trafikun rrugor.
- Tejkasimit.

3330. **Si duhet vepruar shoferi i mjetit i cili hasë mjetet nën përcjellje?**

- Duhet të ndalet.
- Duhet vepruar sipas urdhrin të personit të autorizuar.
- Duhet t'i ndezë të gjithë treguesit e drejtimit.

3331. **A i zbatojnë rregullat e trafikut mjetet nën përcjellje?**

- Jo, gjatë kohës kur janë në intervenim.
- Jo, në asnjë rast.
- Po çdo herë.

3332. **Cilat janë mjete me përparësi kalimi ?**

- Mjeti i zjarrfikësve, kur është në intervenim.
- Mjeti për mirëmbajtjen e rrugëve.
- Mjeti i policisë, kur është në intervenim.

3333. **Si duhet vepruar shoferi i mjetit i cili takon mjetin me përparësi kalimi?**

- Te ndalet sipas nevojës.
- Të veproj sipas urdhrave të personit të autorizuar.
- Natën t'i përdorë dritat e shkurtëra .

3334. **A iu lejohe mjetëve me përparësi kalimi kur janë në intervenim ta ndërpresin kolonën e këmbësorëve?**

- Jo, në asnjë rast.
- Po, parashihet me rregullat e trafikut.
- Po, vetëm në rrugë jashtë zonës urbane.

3335. **Kur konsiderohen se janë mjete me përparësi kalimi?**

- Nëse me pajisjet e veçanta japin sinjale me drita dhe zëri me intensitet të ndryshueshëm.
- Çdo herë kur marrim pjesë në trafik.
- Nëse me pajisjet e veçanta japin sinjale me drita dhe zëri me intensitet të pandryshueshëm.

3336. **A lejohe ngarkesa në mjet kalon pikën më të skajshme në anën e pasme më tepër se 1m?**

- Jo, në asnjë rast.
- Po, sipas rregullave të parapara.
- Po, vetëm deri 1 metër.

3337. **Sa mjete bashkangjitime mund të tërhiqen në rrugë nacionale?**

- Dy për transport të ngarkesës.
 Një për transport të personave.
 Varësisht nga fuqia e motorit.

3338. **A lejohet tërheqja e mjetit bashkangjites?**

- Jo, në asnjë rast.
 Po, nëse nuk zvogëlohet stabiliteti i tij.
 Po, nëse pajisjet sinjalizuese të mjetit bashkangjites janë në rregull.

3339. **Sa mjete bashkangjitime mund të tërhiqen në autoudhë?**

- Dy për transport të ngarkesës.
 Dy për transport të personave.
 Një për transport të ngarkesës.

3340. **Si duhet të vendoset ngarkesa në mjet?**

- Të mos ia zvogëlojë shoferit pamjen e rrugës.
 Të mos zvogëlojë stabilitetin e mjetit.
 Të mos e vështirësojë drejtimin e mjetit.

3341. **Deri në sa metra lejohet ngarkesa të kalojë pjesën e përparme të mjetit?**

- Deri 1m.
 Deri 1.5m.
 Deri 2 m.

3342. **Ngarkesa në mjetin e udhëtarëve (veturë) kalon pikën më të skajshme më tepër se 1m në anën e pasme. Si duhet të shënohet?**

- Me trekëndësh të sigurisë.
 Me pëlhurë të kuqe.
 Me tabelë 40 x50cm.

3343. **Si duhet të sistemohet ngarkesa në mjet?**

- Të mos krijojë zhurmë të tepërt.
 Të mos i mbulojë targat e regjistrimit.
 Të mos e dëmtojë rrugën.

3344. **A duhet të shënjëzohet ngarkesa gjatë transportit natën?**

- Jo, nëse nuk shkapërderdhet, ose nuk e dëmton rrugën.
 Po, sipas rregullave të parapara.
 Po, vetëm jashtë zonës urbane.

3345. **A lejohet tërheqja e automjetit?**

- Jo, në asnjë rast.
- Po, nëse është në defekt.
- Po nëse ka mbetur pa karburant në rrugë.

3346. **Ku duhet të vendoset trekëndëshi i sigurisë gjatë tërheqjes së mjetit në defekt?**

- Në mjetin tërheqës.
- Në mjetin që tërhiqet.
- Vetëm në mjetin tërheqës.

3347. **A lejohet tërheqja e mjeteve me dy rrota?**

- Jo.
- Po nëse tërheqja bëhet në relacion të shkurtëra.
- Po, vetëm biçikletave.

3348. **Si mund të tërhiqet mjete i cili është në defekt?**

- Me litar.
- Me lidhje të ngurtë (big).
- Duke u mbështetur ose varur në mjetin tërheqës.

3349. **A lejohet tërheqja e mjetit me defekt natën?**

- Po, sipas rregullave të parapara.
- Jo, në asnjë rast.
- Po, vetëm në relacione të shkurtëra.

3350. **A lejohet tërheqja e mjetit defekt në autoudhë?**

- Jo, në asnjë rast.
- Po, nëse defekti ka ndodhur gjatë ngasjes në autoudhë.
- Po deri te dalja e parë nga autoudha.

3351. **A lejohet tërheqja e bashkësisë së mjeteve të ngarkuara në defekt?**

- Jo, në asnjë rast.
- Po, deri te vendi i parë për ngarkim-shkarkim.
- Po, në raste të jashtëzakonshme, deri te vendi ku mund të mënjanohet defekti.

3352. **Cilat mjete në defekt nuk lejohen të tërhiqen në litar?**

- Nëse nuk funksionon sistemi i frenimit.
- Nëse nuk funksionon sistemi për drejtim.
- Nëse nuk funksionon pajisja për sinjalizim me zë (buria).

3353. **Si do të veproni nëse automjeti i juaj ka mbetur në defekt në autoudhë?**

- Do të vendosi trekëndëshin e sigurisë në distancë së paku 100 m pas automjetit.
- Do t'i ndezë të gjithë treguesit e drejtimit.
- Do të ndez treguesin e djathtë të drejtimit.

3354. **Çka duhet të keni parasysh nëse gjatë ngasjes keni hasur në dy trekëndësha të sigurisë të vendosur në rrugë?**

- Në ndalje të mjetit në defekt që bartë materie të rrezikshme.
- Në ndalje të kolonës së mjeteve në defekt.
- Në ndalje të mjetit të udhëtarëve (veturës) në defekt.

3355. **Si duhet vepruar shoferi në rast të mjetit në defekt në rrugë nacionale?**

- Të vendosë trekëndëshin e sigurisë në distancë 30 deri 50m pas mjetit.
- T'i ndezë të gjithë treguesit e drejtimit.
- Ta ndezë treguesin e djathtë të drejtimit.

3356. **Cili mjet në defekt nuk lejohet të tërhiqet me lidhje të fortë (bigë)?**

- Mjeti i cili e ka sistemin e drejtimit jashtë funksionit.
- Mjeti që amortizatorët nuk i ka në gjendje të rregullt.
- Mjeti i cili nuk i ka në rregull pajisjet paralajmëruese të zërit (buria).

3357. **Si duhet vepruar shoferi në rast të mjetit në defekt në autoudhë?**

- T'i ndezë të gjithë treguesit e drejtimit.
- Mjetin ta ndalë në shiritn për ndalje emergjente.
- Të ndezë treguesin e majtë të drejtimit.

3358. **Si duhet vepruar shoferi i mjetit në defekt brenda zones urbane?**

- Të vendosë trekëndëshin e sigurisë në distancë pas mjetit prej së paku 10 metrash.
- T'i ndezë të gjithë treguesit e drejtimit.
- Ta ndalë mjetin pranë skajit të djathtë të rrugës ose jashtë rrugës.

3359. **A lejohet tërheqja e mjetit në defekt ditën në rast të zvogëlimit (dobësimi) të dukshmërisë?**

- Jo, në asnjë rast.
- Po, sipas rregullave të parapara.
- Po, vetëm brenda zonës urbane.

3360. **A lejohet tërheqja e mjetit me defekt nëse sistemi i drejtimit nuk funksionon?**

- Po, nëse pajisjet për sinjalizim janë në rregull.
- Po, duke u mbështetur ose varur në mjetin tërheqës.
- Po, me lidhje të fortë (bigë).

3361. Cilët persona nuk lejohen të ulen në ulësen e përparme të mjetit të udhëtarëve (veturës)?

- Personat nën ndikimin e alkoolit.
- Fëmijët më të rinj se 12 vjeç.
- Personat e moshuar.

3362. Cilat veprime nuk iu lejohen udhëtarëve gjatë ngasjes?

- Të dalin me pjesë të trupit jashtë mjetit.
- Të ulen në dritare.
- Të komunikojnë ndërmjet vete.

3363. Cilët persona duhet të përdorin rripin e sigurisë?

- Shoferët.
- Personat të cilët janë të ulur në ulësen e përparme.
- Vetëm personat nën ndikimin e alkoolit.

3364. Kur duhet të përdoret rripi i sigurisë?

- Gjatë ngasjes brenda zonës urbane.
- Gjatë ngasjes jashtë zonës urbane.
- Vetëm nëse zhvillohet shpejtësia mbi 30 km/h.

3365. Cilët persona janë të liruar nga përdorimi i rripit të sigurisë?

- Të gjithë personat e moshuar.
- Gruaja shtatëzënë kur shtatëzania shihet.
- Nëse posedon certifikatë mjekësore me të cilën lirohet nga përdorimi i rripit.

3366. Cilët persona duhet të përdorin rripin e sigurisë në mjetin e udhëtarëve (veturë)?

- Personat në ulëset e përparme.
- Vetëm personat e moshës së mitur.
- Vetëm personat që janë nën ndikimin e alkoolit.

3367. Kush është përgjegjës nëse personi nuk e ka përdorur rripin e sigurisë?

- Çdo herë shoferi.
- Shoferi nëse personi është i mitur.
- Personi nëse është i moshës madhore.

3368. A duhet të përdorin rripin e sigurisë personat të cilët barten në mjetin e udhëtarëve (veturës)?

- Po, në ulëset e përparme.
- Po, në ulëset e përparme, nëse i ka paraparë prodhuesi.
- Po, vetëm në ulësen e përparme.

3369. Në cilat raste përdoren dritat e shkurtëra?

- Gjatë përballkalimit.
- Gjatë ngasjes në tunel.
- Gjatë kohës deri sa kalon pranë kolonës së organizuar të këmbësorëve.

3370. Si do të veproni nëse mjete i cili vjen përballë i ndez dritat e gjata?

- Shikimin do ta orientoj kah skaji i dajthtë i rrugës.
- Duhet ndezur dritat e gjata.
- Do ta zvogëloj shpejtësinë e lëvizjes.

3371. Në cilat raste natën në mjetin e parkuar nuk ka nevojë të jenë të ndezura dritat për shënimin e mjetit?

- Në vendet e ndriçuara.
- Në vendparkim.
- Në mjetin e parkuar jashtë rrugës.

3372. Sa metra ndriçojnë rrugën tufa e dritave të gjata të automjetit?

- Së paku 100 m.
- Prej 40 deri 80 m.
- Deri 35 m.

3373. Në cilat rastet mjete nuk duhet t'i ketë të ndezura dritat?

- Mjete i ndalur ose i parkuar në pjesën e ndriçuar të rrugës që shihet qartë nga një largësi e mjaftueshme.
- Mjete i ndalur ose i parkuar në vende të caktuara në rrugë ose jashtë rrugës.
- Mjete i ndalur ose i parkuar në rrugë me intensitet të dobët të trafikut.

3374. Në cilat raste përdoren dritat e shkurtëra ?

- Gjatë përballkalimit, kur mjete tjetër vjen përballë dhe kur njëri nga shoferët e mjetit ndal dritat e gjata dhe i ndez dritat e shkurtra.
- Në pjesën e rrugës me ndriçim rrugor.
- Vetëm gjatë ngasjes në motoudhë dhe autoudhë.

3375. Sa metra ndriçojnë rrugën tufa e dritave të shkurtëra të automjetit?

- Së paku 100 m.
- Prej 40 deri 80 m.
- Deri 35 m.

3376. Kur shoferi i automjetit duhet t'i ketë të ndezura dritat e shkurtra ose dritat e ditës?

- Gjatë tërë kohës së drejtimit.
- Vetëm gjatë kushteve të vështira atmosferike.
- Vetëm natën, nëse rruga nuk ka ndriçim rrugor.

3377. Nën cilat kushte zvogëlohet kontakti (puthitja) i rrotave me rrugë?

- Nëse rruga është e lagur.
- Nëse rruga është e terur.
- Nëse rruga është e mbuluar me borë.

3378. Në cilat vende rruga mund të jetë me baltë dhe e rrëshqitshme?

- Në afërsi dhe në vende të punimeve në rrugë.
- Në kryqëzime me rrugën e dheut.
- Në pjesën e rrugës ku lëvizin shumë mjete.

3379. Cilat janë rreziqet e mundshme gjatë ngasjes në rrugë të drejtë e të gjatë?

- Humbet ndjenja për shpejtësinë.
- Lodhja dhe monotonia.
- Shoferin e nxit për shpejtësi të madhe.

3380. Nën cila kushte zvogëlohet kontakti (puthitja) i rrotave me rrugë?

- Nëse rruga është me baltë.
- Nëse rruga është e mbuluar me gjethe.
- Nëse rruga është e terur.

3381. Cilat forca ndikojnë në mjet?

- Forca tërheqëse.
- Forca centrifugale.
- Forca e frenimit.

3382. Cilat karakteristika të rrugës ndikojnë në rritjen e sigurisë në trafikun rrugor?

- Sinjalizimi i rregullt.
- Rruga me sipërfaqe të rrëshqitshme.
- Pjerrtësia tërthore e përcaktuar drejt.

3383. Cilat forca ndikojnë në mjet?

- Forca anësore.
- Forca e fërkimit.
- Vetëm forca centrifugale.

3384. Në cilat vende të rrugës mund të ketë akull?

- Mbi ura.
- Në vende nën hije të rrugës nëse posaçërisht rruga kalon në vise malore.
- Në tunele.

3385. A është e lejuar që shoferi ta zvogëlojë shpejtësinë me frenim të vrullshëm?

- Jo, në asnjë rast.
- Po, nëse nuk ka pjesëmarrës tjerë në trafik.
- Po, në rast të rrezikut të drejtpërdrejt.

3386. Cilët tregues të drejtimit ndizën gjatë ngasjes prapa ?

- Të majtë.
- Të djathtë.
- Të gjithë treguesit e drejtimit.

3387. Cilat drita aktivizohen me rastin e përdorimit të frenit punues?

- Drita e parkimit.
- Dritat e pozicionit.
- Dritat e frenimit.

3388. Çka duhet të keni parasysh gjatë hyrjes në rrugë nga garazhi?

- Do t'i jap përparësi kalimi vetëm krahut të djathtë.
- Duhet t'i lëshoj të gjitha mjetet që lëvizin nëpër rrugë.
- Duhet t'i lëshoj këmbësoret që lëvizin nëpër trotuar.

3389. Në cilat raste përdoren të gjithë treguesit e drejtimit?

- Gjatë tërheqjes së mjetit në defekt.
- Nëse mjete lëviz për gjysmë më pak se sa shpejtësia që është paraparë për atë pjesë të rrugës.
- Gjatë ngasjes prapa.

3390. Në cilat raste përdoren të gjithë treguesit e drejtimit?

- Gjatë kohës së dukshmërisë shumë të vështirësuar, si pasojë e mjegullës së dendur, tymit e të ngjashme.
- Gjatë kohës së hyrjes apo daljes së udhëtarëve.
- Gjatë kthimit djathtas ose majtas.

3391. Ku është e ndaluar ngasja prapa?

- Në kthesa të padukshme.
- Çdo herë në rrugë jashtë zonës urbane.
- Në tunel.

3392. Si duhet vepruar nëse gjatë ngasjes është formuar pyka ujore (akuaplaning)?

- Sipas nevojës lirohet papuçja e gasit.
- Duhet shmangur manovrimet e vrullshme me timon.
- Duhet rritur shpejtësinë që të kalohet sa më shpejt pjesa e rrugës me ujë.

3393. Sa është mosha minimale e fëmijëve për ta drejtuar biçikletën?

- 16 vjet.
 14 vjet.
 12 vjet.

3394. Në cilat zona fëmijës i cili i ka mbushur nëntë vjet i lejohet drejtimi i biçikletës?

- Në zonat indistruale.
 Në zonat e këmbësorëve.
 Në zonën me kufizim të shpejtësisë në 30 km/h.

3395. A mund ta drejtojë biçikletën fëmija më i ri se nëntë vjeç në zonën e trafikut të qetë?

- Po, nëse është nën mbikëqyrje të personit mbi 18 vjeç.
 Jo, në asnjë rast.
 Po, nëse është nën mbikëqyrje të personit mbi 16 vjeç.

3396. Cilat janë obligimet e biçiklistit kur qarkullon në rrugë publike gjatë dukshmërisë së dobësuar?

- Të ketë vërtetim për njohjen e dispozitave të trafikut.
 Të ketë jelek reflektues.
 Të ketë rroba reflektuese për biçiklistë apo ndonjë burim drite.

3397. Çka i ndalohe personit i cili drejton biçikletën, mopedin dhe triçikletën?

- Të drejtojë pa e mbajtur timonin me dy duar, përveç në raste kur jep shenjë me dorë.
 Ta lëvizë mjetin krahas mjetit tjetër.
 Të përdorë dëgjuese të pajisjeve auditive, duke i vendosur në dy ose në një vesh.

3398. Çka i ndalohe personit i cili drejton biçikletën?

- Të paralajmrojë kthimin me dorë.
 Të përdorë dëgjuese të pajisjeve auditive, duke i vendosur në dy ose në një vesh.
 Të manovrojë me një rrotë.

3399. Cilët persona duhet ta mbajnë helmeten mbrojtëse?

- Personat të cilët barten në moped.
 Personat të cilët barten në triçikletë dhe katërçikletë pa kabinë mbrojtëse.
 Personat të cilët barten në motokultivator.

3400. Cilët shoferë duhet ta mbajnë helmetën mbrojtëse?

- Shoferët të cilët drejtojnë mopedin.
 Shoferët të cilët drejtojnë triçikletën dhe katërçikletën pa kabinë mbrojtëse.
 Shoferët të cilët drejtojnë biçikletën nëse janë më rinj se 16 vjeç.

3401. **Cilat hapësira (zona) duhet të jenë të lira nëse vjen deri te ngecja (blokada) në rrugë?**

- Vendkalimi i këmbësorëve.
- Vendkalimi hekurudhor.
- Kryqëzimet e rrugëve.

3402. **Si duhet të veprojë shoferi me sendet të cilat i hasë në rrugë?**

- Është i obliguar t'i largojë nga rruga.
- Nëse ka mundësi t'i largojë nga rruga.
- Me shpejtësi të zvogëluar t'i anashkalojë sendet nëse nuk ka mundësi t'i largojë ato.

3403. **Si duhet vepruar shoferi i cili has në personin i cili punon në rrugë dhe e ka ngritur flamurin e gjelbër?**

- Detyrimisht të ndalet.
- Të vazhdojë lëvizjen me kujdes të shtuar.
- Të ndezë të gjithë treguesit e drejtimit.

3404. **Sa është distanca në mes qerreve që lëvizin në rrugë?**

- Duhet të jetë së paku 150 metra.
- Duhet të jetë së paku 100 metra.
- Duhet të jetë së paku 50 metra.

3405. **Çka i ndalohe shoferit të qerres?**

- Ta drejtojë qerren pa zile ose pa vinç për frenim.
- Ta mbingarkojë qerren.
- Ta drejtojë qerren gjatë kushteve të vështira atmosferike (shi, borë)

3406. **Sa është gjatësia e grupit të kafshëve?**

- Nuk lejohet të jetë më e madhe se 50 metra.
- Nuk lejohet të jetë më e madhe se 100 metra.
- Varësisht nga numri i kafshëve.

3407. **Cilat kushtet duhet të plotësojnë personat kur kafshët grahen natën ose ditën gjatë dukshmërisë së vështirësuar?**

- Duhet ta mbajnë një dritë me ngjyrë të kuqe, e cila duhet të jetë e dukshme në distancë prej së paku 100 metrash.
- Duhet ta mbajnë një dritë me ngjyrë të kuqe, e cila duhet të jetë e dukshme në distancë prej së paku 150 metrash.
- Të lëvizin në anën e mjetit të rrugës.

3408. **Në cilat raste ndalohe kalërimi ose grahja e kafshës?**

- Në rrugë publike gjatë kohës me dukshmëri të vështirësuar pa ndonjë burim drite ose pa materie reflektuese.
- Në rrugët rajonale dhe lokale nga personi i cili është nën moshën 10 vjeç.
- Në rrugë rajonale nëse personi është nën moshën 18 vjeç.

3409. **Si do të veproni gjatë ngasjes natën, nëse në rrugë është e ndalur kafsha e egër?**

- Do t'i ndezi dritat e shkurtëra.
- Nëse më lejojnë rrethanat në rrugë do të anashkaloj me kujdes të shtuar.
- Do të ngas me dritat e gjata dhe me shpejtësi të rritur do ta anashkaloj kafshën e egër.

3410. **Çka pengon ngasjen?**

- Telefoni mobil nëse përdoret me dorë.
- Pirja e duhanit nga ana e shoferit.
- Biseda e shoferit me bashkudhtarët.

3411. **Çfarë zëri aukustik duhet të japë mjeti?**

- Shumë zëra intesitetesh të ndryshme.
- Një zë me intesitet të pandryshuar.
- Varet vetëm nga tipi i mjetit.

3412. **A i lejohet shoferit ta ndërpresë kolonën e këmbësorëve ?**

- Jo, kolonën e fëmijëve.
- Po, të gjitha kolonat.
- Jo, kolonën e funeralit.

3413. **Jeni ndalur për t'i zbritur fëmijët nga mjeti, çka duhet të keni parasysh?**

- Nuk i hapi dyert derisa të sigurohem se nuk rrezikohen fëmijët.
- Zbritjen e fëmijëve do ta bëj nga ajo anë nga nuk lëvizin mjetet.
- Do t'i kem në mbikëqyrje fëmijët derisa të kalojnë në pjesën e sipërfaqës ku nuk lëvizin mjetet.

3414. **Cilat kolona nuk i lejohet shoferit që t'i ndërpresë ?**

- Të fëmijëve.
- Vetëm të ushtarëve.
- Cilëndo kolon të organizuar të këmbësorëve.

3415. **A lejohet përdorimi i telefonit mobil gjatë ngasjes?**

- Po, çdo herë pa kufizime.
- Jo, në asnjë rast.
- Po, nëse përdorimi i telefonit bëhet pa e përdorur me duar.

3416. **Në rrugën anësore nuk ekziston vendkalimi i këmbësorëve. Si do të silleni ?**

- Do t'u jap përparësi kalimi këmbësorëve.
- Duhet ta vazhdoj lëvizjen pa u ndalur pasi që nuk ekziston vendkalimi për këmbësorë.
- Do të rris kujdesin dhe do të zvogëloj shpejtësinë.

3417. **A duhet me shenjë përkatëse të shënohet mjete i cili drejtohet nga personi me aftësi të kufizuar?**

- Po, është obligative të shënohet me shenjë përkatëse.
- Po, mundet me kërkesën e tij personale.
- Po, është obligative vetëm për vetura me ndërrues automatikë.

3418. **A lejohet nisja e vrullshme nga vendi?**

- Jo, sepse krijohet zhurmë e panevojshme.
- Jo, dëmtohen pneumatikët (gomat) dhe ndotet ambienti.
- Po nëse nuk ka pjesëmarrës tjerë në trafik.

3419. **Çka duhet të keni parasysh gjatë ngasjes në “Zonën e trafikut të qetë” ?**

- Mund të has në fëmijët duke luajtur me top në rrugë.
- Më lejohet lëvizja jo më shpejt se shpejtësia e lëvizjes së këmbësorëve.
- Duhet t’i ndezi të gjithë treguesit e drejtimit.

3420. **Si do të veproni nëse gjatë ngasjes keni hasur një shtresë të madhe ujit?**

- Timonin duhet ta mbaj me kujdes.
- Do të rris shpejtësinë që sa më shpejtë të kaloj shtresën e ujit.
- Do të zvogloj shpejtësinë dhe do të ngas me kujdes të shtuar.

3421. **Çfarë kujdesi do të keni nëse tërhiqni rimorkion me masë mbi 750 kg, me automjet të udhtarëve (veturë)?**

- Rimorkio duhet të jetë e regjistruar.
- Rruga e reagimi do të rritet.
- Do të respektoj kufizimin e shpejtësisë për bashkësinë e mjetit.

3422. **Çfarë kujdesi do të keni nëse tërhiqni rimorkion e lehtë me automjetin e udhtarëve (veturë)?**

- Do t’i kyç pajisjet sinjalizuese.
- Nuk do ta ngarkoj mbi masën më të madhe të lejuar.
- Rimorkio duhet të jetë e regjistruar.

3423. **Çfarë kujdesi duhet të keni nëse me mjetin e juaj tërhiqni kamp-shtëpizën?**

- Nuk më lejohet të lëvizim me shpejtësi më të madhe se 80 km/h.
- Duhet t’i kyç pajisjet sinjalizuese dhe frenuese.
- Nuk më lejohet të lëvizim me shpejtësi më të madhe se 70km/h.

3424. **Çfarë kujdesi duhet të keni nëse me mjetin e juaj lëvizni jashtë zonës urbane?**

- Kryqëzimet janë më të shpeshta se sa brenda zones urbane.
- Në përshtatje të shpejtësisë së lëvizjes.
- Në tejkalime të shpeshta.

3425. **Çka e karakterizon ngasjen në qytet?**

- Kryqëzimet e shpeshta.
- Struktura e ndryshme e pjesëmarrësve në trafik.
- Intensiteti i dendur i trafikut.

3426. **Si njoftoheni se hyni në rrugën me një kah?**

- Në bazë të ndriçimit rrugor.
- Në bazë të shenjës së trafikut.
- Në bazë të gjerësisë së rrugës.

3427. **Çka e karakterizon rrugën me një kah?**

- Siguria më e madhe.
- Mosngecje të trafikut.
- Rruga ka vetëm një shirit të trafikut.

3428. **Çka duhet të keni parasysh kur autobusi hyn në rrugë nga vendndalja e autobusëve (brenda zonës urbane).**

- Do të lëviz me kujdes të shtuar.
- Do t'ia mundësoj hyrjen autobusit. në shiritin e trafikut.
- Unë kam përparësi kalimi në raport me autobusin.

3429. **Cilat veprime nuk lejohen në rrugë me një kah?**

- Lëvizja në kahun e kundërt.
- Kthimi gjysmërrethor.
- Tejkalimi.

3430. **Si do të ngitni nëpër valë të gjelbërt?**

- Me kohë planifikoj shiritin për hyrje në valë të gjelbër.
- Shpejtësinë do ta përshtas sipas shenjës së paraparë.
- Me shpejtësinë maksimale që mund të zhvillojë automjeti.

3431. **Cilat rreziqe mund të shfaqen në rrugë një kah dhe me shumë shirita të trafikut?**

- Gjatë ndërrimit të shiritave.
- Mosdhënia e treguesve të drejtimit nga pjesëmarrësit tjerë në trafik.
- Mospërcjellja e shenjave për rreshtim nga pjesëmarrësit tjerë në trafik.

3432. **Brenda zonës urbane rruga ka dy shirita për një kah, si do ta ngitni automjetin e udhëtarëve (veturën)?**

- Cilindo shirit nëse nuk pengohen mjetet tjera.
- Vetëm në shiritin e majtë.
- Vetëm në shiritin e djathtë.

3433. **Cilët janë shkaktarët më të shpeshtë të aksidenteve në trafikun rrugor?**

- Tejkalimi i shpejtësisë së lëvizjes.
- Kujdesi i shtuar.
- Mosmbatja e distancës së sigurisë ndaj mjetit që lëviz përpara.

3434. **Si duhet vepruar shoferë i cili ka qenë pjesëmarrës në aksident me persona të vdekur?**

- Duhet të lajmrojë institucionet shëndetësore dhe policinë.
- T'i ruajë gjurmët ekzistuese në vendin e aksidentit.
- Mjeti nuk lejohet të lëvizë nga vendi i aksidentit.

3435. **Cilët janë shkaktarët më të shpeshtë të aksidenteve në trafikun rrugor ?**

- Mosrespektimi i përparësisë së kalimit.
- Gabimet gjatë tejkalimit.
- Ndërrimi i shiritit në mënyrë jo të rregullt.

3436. **Si duhet vepruar shoferi i cili gjendet ose has në vendin e aksidentit ku ka persona të lënduar?**

- Nëse është e nevojshme t'i bartë të lënduarit deri te institucioni më i afërm shëndetsor.
- T'i lajmërojë institucionet shëndetësore dhe policinë.
- Duhet të vazhdojë lëvizjen duke anashkaluar vendin e aksidentit.

3437. **Cilët janë shkaktarët më të shpeshtë të aksidenteve në trafikun rrugor?**

- Mospërshtatja e shpejtësisë së lëvizjes.
- Respektimi i rregullave nga pjesëmarrësit tjerë në trafik.
- Ngasja nën ndikimin e alkoolit.

34382. **Si veprojnë shoferët e mjeteve që kanë shkaktuar aksident me dëme të vogëla materiale?**

- Mund të mirëkuptohen në mes veti.
- T'i largojnë mjetet nga rruga.
- Janë të obliguar të presin policinë.

3439. **Si duhet vepruar shoferi pjesëmarrës i aksidentit me dëme të mëdha materiale?**

- Nuk i lejohet lëvizja e mjetit nga vendi i aksidentit.
- Duhet të ruhet çdo gjurmë që ka të bëjë me aksidentin.
- T'i marrë të gjitha masat e sigurisë që të mos shkaktohen rreziqe tjera në rrugë.

3440. **Në cilat raste shoferët që kanë shkaktuar aksident nuk kanë të drejtë ta plotësojnë formularin evropian të aksidenteve, por duhet të njoftohet policia?**

- Njëra nga mjetet nuk ka targa të regjistrimit.
- Njëra nga mjetet ka targa të huaja të regjistrimit.
- Njëra nga shoferët nuk ka patentë shoferi.

3441. **Cilat janë rreziqet e mundshme gjatë ngasjes nëpër mjegull?**

- Zvogëlohet fusha e dukshmërisë.
- Rritet fusha e dukshmërisë.
- Vështirë vërehen pjesëmarrësit tjerë në trafik.

3442. **Cilat janë rreziqet e mundshme gjatë ngasjes nëpër mjegull?**

- Vështirë vlerësohet distanca e sigurisë.
- Nëse përdoren dritat e shkurtra për ndriçimin e rrugës.
- Vështirë vlerësohet gjerësia e rrugës.

3443. **Si do të ngitni gjatë mjegullës?**

- Do të ngas me shpejtësi të zvogëluar.
- Do të ngas me shpejtësinë maksimale që zhvillon mjeti.
- Me kujdes të shtuar.

3444. **Çka duhet të keni parasysh gjatë ngasjes në borë?**

- Mosnxitimi i vrullshëm.
- Në përdorim të pajisjeve dimërore.
- Ndërrimi i shpejtësisë bëhet me kujdes.

3445. **Cilat janë rreziqet gjatë ngasjes nëpër borë?**

- Kontakti i gomës me rrugën zvogëlohet.
- Në rast të frenimit rritet rruga e ndaljes.
- Mund të mbulohen shenjat në rrugë.

3446. **Çka duhet të ketë parasysh shoferi gjatë ngasjes nëpër borë?**

- Mund të shkaktohet rrëshqitja e mjetit sidomos në kthesë.
- Manipulimi me timon duhet të jetë i kujdeshëm.
- Rruga e frenimit zvogëlohet.

3447. **Cilat janë rreziqet e mundshme gjatë ngasjes nëpër borë?**

- Mbajtja e drejtimit të mjetit vështirësohet.
- Ngasja e mjetit me shpejtësi të vogël.
- Në rast frenimi rruga e ndaljes zgjatet.

3448. **Në cilat vende të rrugës mund të ketë akull?**

- Mbi ura.
- Në vende nën hije të rrugës, posaçërisht nëse rruga kalon në vise malore.
- Mbi dhe nën kalime.

3449. Çka duhet të keni parasysh nëse fryen era anësore?

- Duhet të rritet shpejtësia që të kalohet zona ku fryen era anësore.
- Do të zvogëloj shpejtësinë e lëvizjes.
- Të rritet distanca e sigurisë anësore sidomos ndaj mjeteve me dy rrota.

3450. Cilat janë rreziqet e mundshme gjatë ngasjes në diell të fortë?

- Verbimi nga dielli mund të ndikoj që të mos vërehen situatat në rrugë.
- Nëse nëpër kthesa nuk ndizen të gjithë treguesit e drejtimit.
- Mos përdorimi i mbrojtësve nga dielli.

3451. Cilat janë rreziqet e mundshme gjatë ngasjes nëpër shi?

- Rruga bëhet e rrëshqitshme.
- Dobësohet (zvogëlohet) dukshmëria.
- Rritet rruga e reagimit.

3452. Cilat janë rreziqet e mundshme gjatë ngasjes nëpër shi? ?

- Mund të krijohet pyka ujore (akuaplaning).
- Mosvërjetja e gropave në rrugë, të cilat mbulohen me ujë.
- Zgjatet rruga e frenimit.

3453. Kur bëhet rruga më e rrezikshme kur bjen shi?

- Menjëherë pas shiut të parë për shkak plurit, yndyrërve, etj.
- Pas një kohe të gjatë pasi pastrohet afalati nga shiu.
- Nëse në rrugë ka baltë.

3454. Cilat janë rreziqet e mundshme gjatë ngasjes natën?

- Zvogëlohet dukshmëria.
- Mund të mos vërehen pjesëmarrësit në trafik (qerret , biçikletat pa ndriçim, këmbësorët etj).
- Lodhja shfaqet më shpejt.

3455. Si duhet sjellur gjatë ngasjes së mjetit natën?

- Përcjellja e kah tregueseve të cilët tregojnë shtrirjen e trasesë së rrugës.
- Gjatë përballëkalimit me kohë të përdoren dritat e shkurtëra.
- Në ndezjen e treguesit të djathtë gjatë ngasjes prapa.

3456. Çka duhet të keni parasysh gjatë ngasjes nëpër rrugë me akull?

- Mund të shkaktohet rrëshqitja e mjetit.
- Zvogëlohet kontakti ndërmjet rrotave dhe rrugës.
- Në zvogëlim të kohës së reagimit.

3457. **Çka ndalohet në mjet?**

- Të vendosin dekorime shtesë në tabela apo në vend të caktuar për targa.
- Të vendosin në pjesën e përparme të mjetit shenja me drita ose materie me ngjyrë të kuqe
- Të vendosen treguesit e drejtimit.

3458. **Kur konsiderohen kushtet dimërore në rrugë?**

- Kur rruga është e mbuluar me borë.
- Kur në rrugë ka akull.
- Kur rruga është e rrëshqitshme për shkak të baltës.

3459. **A lejohet që ngarkesa në mjet të kalojë më tepër se një metër në pjesën e përparme?**

- Jo, në asnjë rast.
- Po, duhet të shënohet me pëlhurë të kuqe.
- Po, me përjashtim gjatë ngasjes natën.

3460. **Si mund të kontrollohet gjendja teknike e automjetit?**

- Në qendrat e kontrollit teknik të automjeteve të licencuara.
- Përmes kontrollit teknik mobil.
- Në çdo servis për riparimin e automjeteve.

3461. **Cilat pajisjet rezervë dhe shtesë duhet t'i posedojë automjeti i udhëtarëve (vetura)?**

- Trekëndëshin e sigurisë.
- Pajisjen për tërheqjeje të mjetit në defekt.
- Jelekun reflektues.

3462. **Në cilat raste shoferi i mjetit me veprim motorik është i detyruar ta fikë motorin?**

- Me kërkesë të personit të autorizuar.
- Kur parashihet me rregulla të trafikut.
- Kur ndalet në tunel më shumë se një (1) minutë.

3463. **Çka i ndalohet shoferit?**

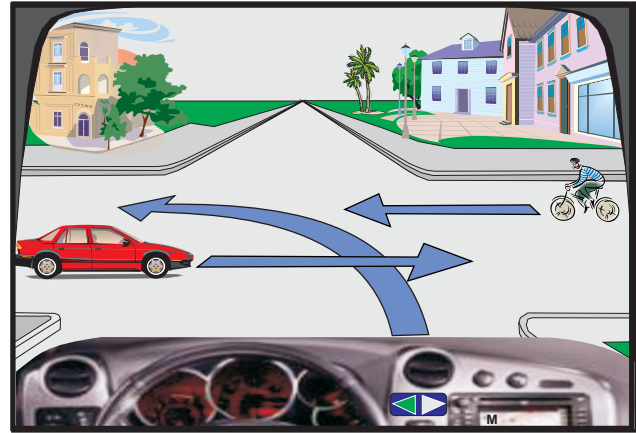
- Të largohet nga mjeti kur motori është i ndezur.
- Ta hapë derën e mjetit gjatë drejtimit të mjetit.
- T'i ndezë të gjithë treguesit e drejtimit gjatë ngasjes prapa.

3464. **Cilat dokumente duhet t'i mbajë me vete shoferi gjatë drejtimit të mjetit ?**

- Certifikatën e regjistrimit të automjetit.
- Raportin evropian të aksidenteve.
- Patentë shoferin.

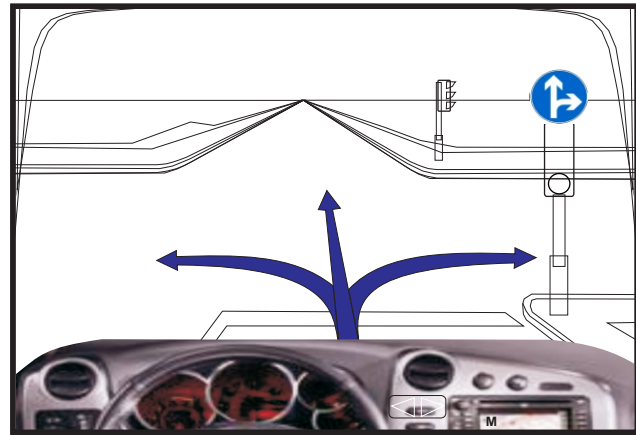
4001. Si duhet të jetë radhitja e kalimit në kryqëzim?

- Biçiklisti, unë, automjeti i kuq.
- Biçiklisti, automjeti i kuq , unë.
- Automjet i kuq, unë, biçiklisti.



4002. Në cilat drejtime ju lejohe lëvizja?

- Drejt.
- Majtas.
- Djathtas.



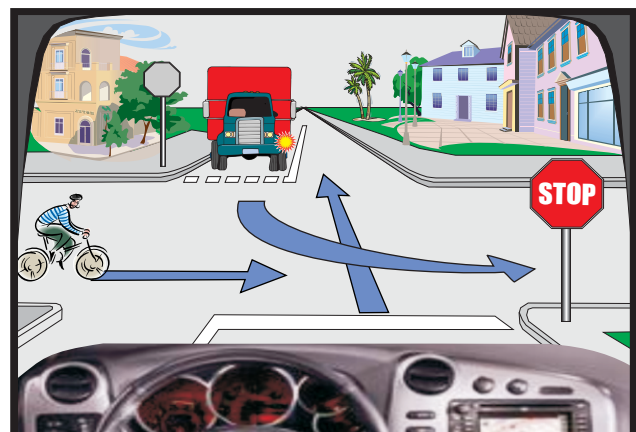
4003. Cili pjesëmarrës duhet të lëvizë i fundit nëpër kryqëzim?

- Automjet i kuq.
- Biçiklisti.
- Unë.



4004. Si duhet të jetë radhitja e kalimit në kryqëzim?

- Unë, mjeti transportues, biçiklisti.
- Biçiklisti, unë, mjeti transportues.
- Mjeti transportues, unë, biçiklisti.



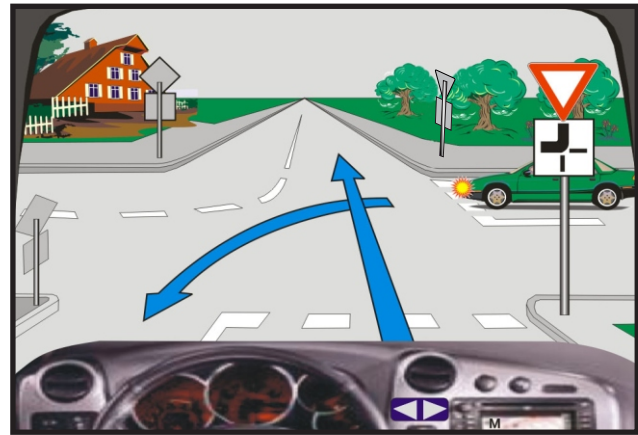
4005. Si do të veproni në këtë situatë?

- Do të vazhdoj lëvizjen i pari nëpër kryqëzim.
- Do t'u jap përparësi kalimi biçiklistave.
- Në këtë kryqëzim më ndalohej kthimi djathtas.



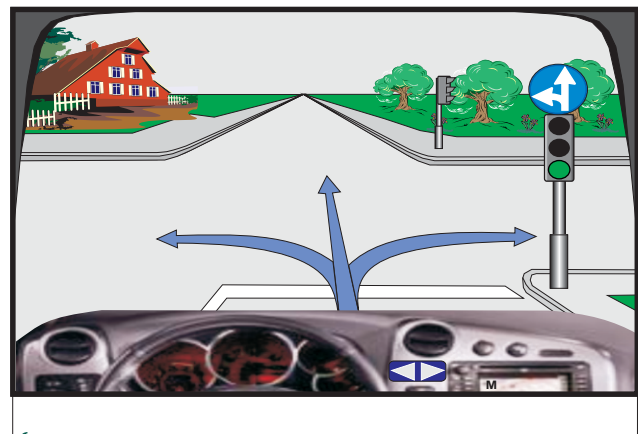
4006. Çka duhet të keni parasysh në këtë situatë?

- Do të vazhdoj lëvizjen i pari.
- Do t'i jap përparësi kalimi krahut të djathtë.
- Automjeti i gjelbër kalon i pari.



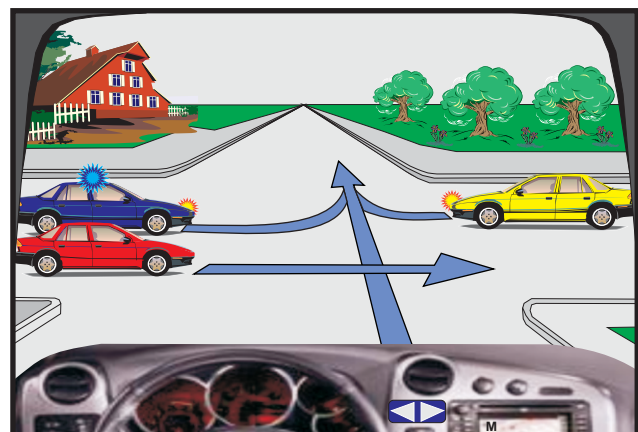
4007. Në cilat drejtime ju lejohej lëvizja në këtë situatë?

- Drejt ose majtas.
- Drejt ose djathtas.
- Vetëm djathtas.



7008. Si do të veproni në këtë situatë?

- Do të ndalem para kryqëzimit për t'i dhënë përparësi kalimi automjetit të policisë.
- Do të ndalem para kryqëzimit për t'i dhënë përparësi kalimi automjetit të verdhë.
- Do të ndalem para kryqëzimit për t'i dhënë përparësi kalimi automjetit të kuq.



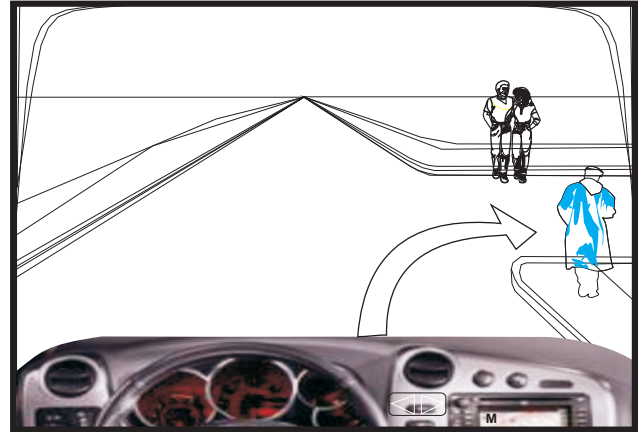
4009. Si duhet vepruar në këtë situatë?

- Do të vazhdoj lëvizjen para automjetit të kuq.
- Do të vazhdoj lëvizjen pas automjetit të kuq.
- Duhet të ndalem para kryqëzimit.



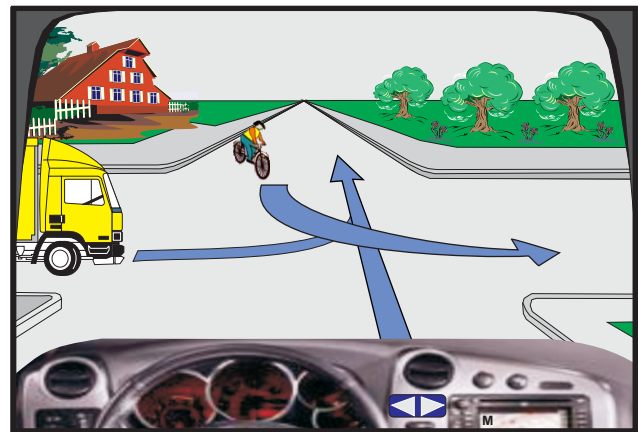
4010. Si duhet vepruar në këtë situatë?

- Unë kam përparësi kalimi në raport me këmbësorët.
- Këmbësorëve u ndaloher kalimi përtej rrugës.
- Do të ndalem dhe t'u jap përparësi kalimi këmbësorëve.



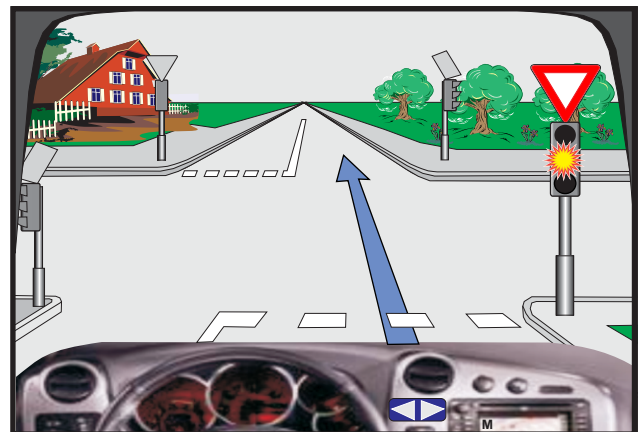
4011. Si duhet vepruar në këtë situatë?

- Unë do të vazhdoj lëvizjen i pari nëpër kryqëzim.
- Kamioni do të lëvizë i dyti nëpër kryqëzim.
- Biçiklisti kalon i fundit nëpër kryqëzim.



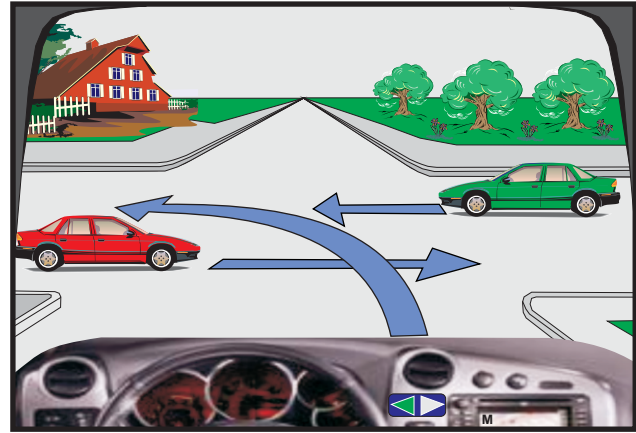
4012. Në semafor është e ndezur drita e verdhë vezulluese (me ndërprerje). Çka duhet të keni parasysh në këtë situatë?

- Do të ndalem dhe të pres ndërrimin e dritës në semafor
- Lëvizjen do të vazhdoj me kujdes të shtuar, sipas nevojës do të ndalem.
- Unë lëviz në rrugën sekondare (dytësore).



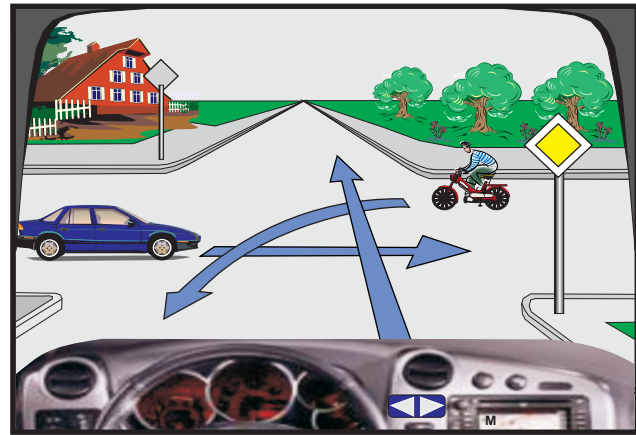
4013. Çka duhet të keni parasysh në këtë situatë?

- Do të respektoj përparësinë e kalimit të krahut të djathtë.
- Do të vazhdoj lëvizjen i pari nëpër kryqëzim.
- Automjeti i kuq lëviz i fundit nëpër kryqëzim.



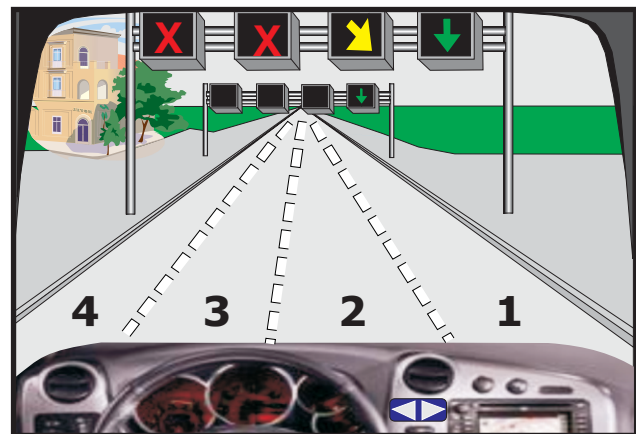
4014. Çka duhet të keni parasysh në këtë situatë?

- Do të ndalem për t'u dhënë përparësi kalimi mjeteve.
- Do ta vazhdoj lëvizjen i pari nëpër kryqëzim.
- Automjeti i kaltër do të vazhdojë lëvizjen para biçiklistit.



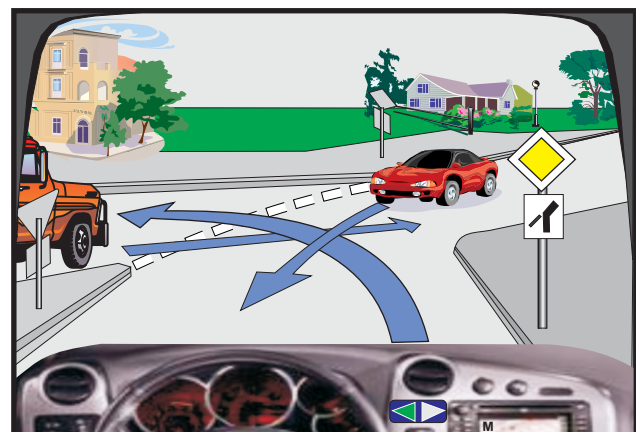
4015. Çka duhet të keni parasysh në këtë situatë?

- Lëvizjen nëpër shiritin 3 dhe 4 e kam të ndaluar.
- Unë jam i obliguar nga shiriti 2 të kaloj në shiritin 1.
- Unë mund ta shfrytëzoj cilindo shirit për lëvizje.



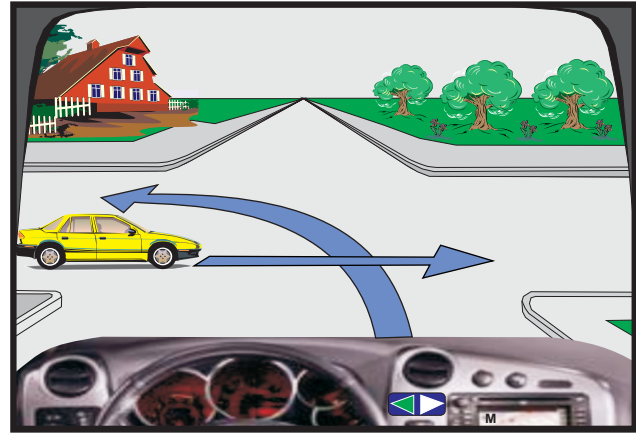
4016. Si duhet të jetë radhitja e kalimit në kryqëzim?

- Unë, kamioni, automjet i kuq.
- Automjetii i kuq, kamioni, unë.
- Automjeti i kuq, unë, kamioni.



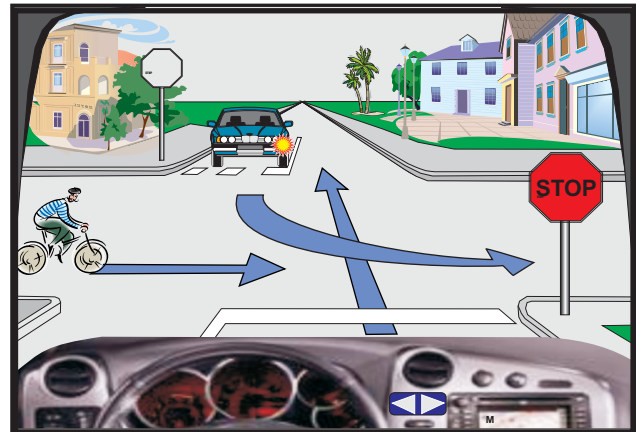
4017. Çka duhet të keni parasysh në këtë situatë?

- Do të vazhdoj lëvizjen para automjetit të verdhë.
- Do të vazhdoj lëvizjen pas automjetit të verdhë.
- Do të respektoj rregullen e krahut të djathtë.



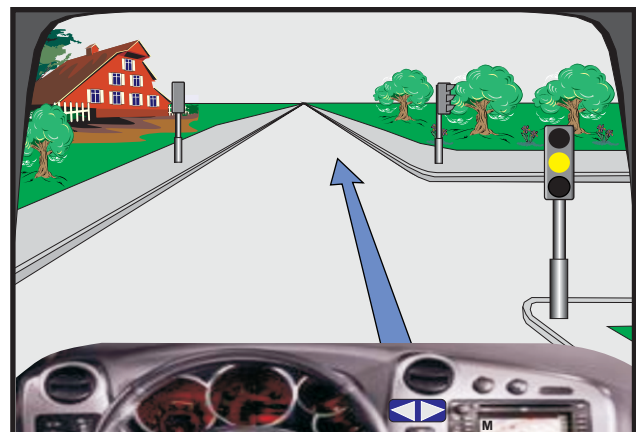
4018. Çka duhet të keni parasysh në këtë situatë?

- Do të ndalem para shenjës STOP dhe do t'i jap përparësi kalimi biçiklistit.
- Biçiklisti vazhdon lëvizjen pas meje.
- Unë kam përparësi kalimi në raport me automjetin e kaltër.



4019. Çfarë domethënie ka drita e verdhë e pandërprerë në semafor?

- Ndalim kalimi, përveç mjeteve të cilat nuk mund të ndalen në mënyrë të sigurt para semaforit.
- Kalimi i lirë.
- Së shpejti në semafor do të ndizet drita e kuqe.



4020. Si është e rregulluar përparësia e kalimit në këtë situatë?

- Me shenja të trafikutt.
- Me marrëveshje në mes të pjesëmarrësve në trafik.
- Me rregulla të përgjithshme të trafikut.



4021. Si duhet vepruar në këtë situatë?

- Automjeti i kaltër lëviz i fundit nëpër kryqëzim.
- Këmbësori lëviz i pari nëpër kryqëzim.
- Unë lëviz i pari nëpër kryqëzim.



4022. Çka duhet të keni parasysh në këtë situatë?

- Do të vazhdoj lëvizjen e pari.
- Do të lëviz para biçiklistit.
- Automjeti i kuq dhe biçiklisti kanë përparësi kalimi.



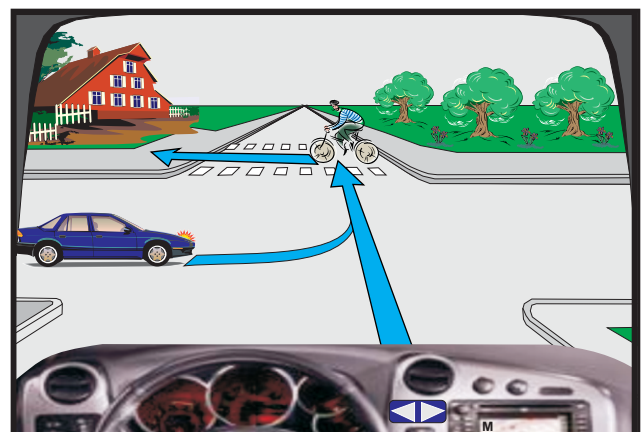
4023. Çfarë domethënie ka drita e verdhë e pandërprerë në semafor?

- Ndalim kalimi përveç mjeteve të cilat nuk mund të ndalen në mënyrë të sigurt para semaforit.
- Kalimi i lirë.
- Së shpejti në semafor do të ndizet drita e gjelbër.



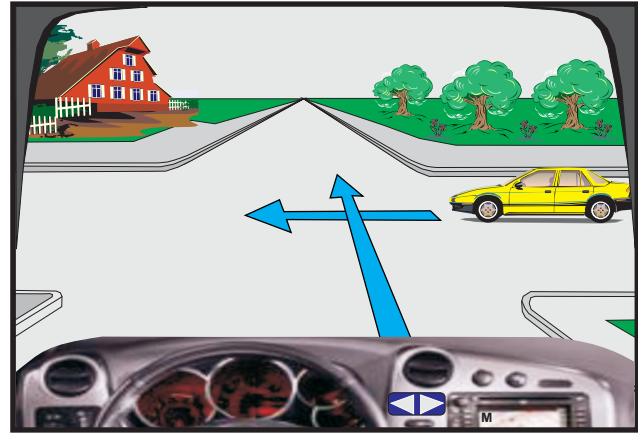
4024. Si do të veproni në këtë situatë?

- Do t'i jap përparësi kalimi biçiklistit.
- Do të vazhdoj lëvizjen para automjetit të kaltër.
- Do të vazhdoj pas automjetit të kaltër.



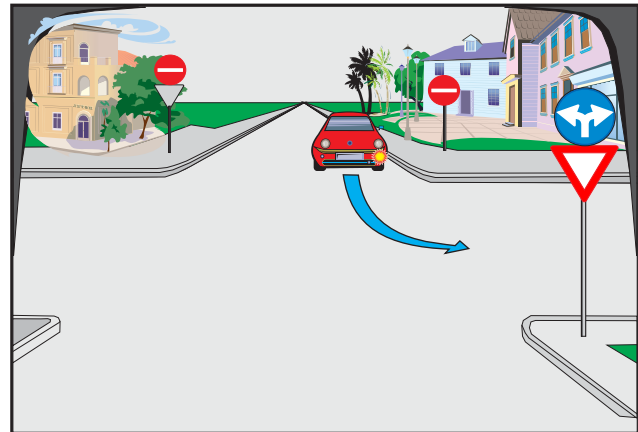
4025. Çka duhet të keni parasysh në këtë situatë?

- Automjeti i verdhë lëviz i pari.
- Unë lëviz i pari.
- Duhet respektuar rregulla e krahut të djathtë.



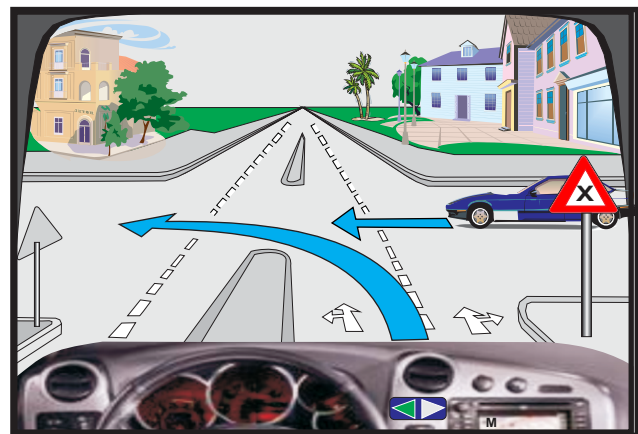
4026. Automjeti i kuq kthehet majtas. Si është rreshtuar?

- Drejt.
- Jo drejt.
- Në kundërshtim me rregullat e trafikut.



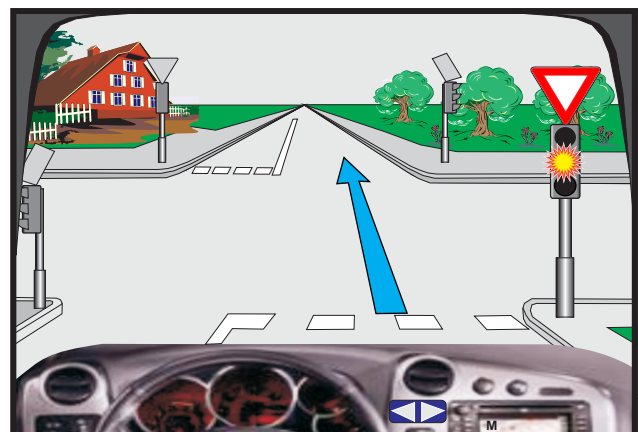
4027. Çka duhet të keni parasysh në këtë situatë?

- Kryqëzimin me rrugën me përparësi kalimi.
- Kryqëzimin e rrugëve me rëndësi të njëjtë.
- Duhet respektuar rregulla e krahut të djathtë.



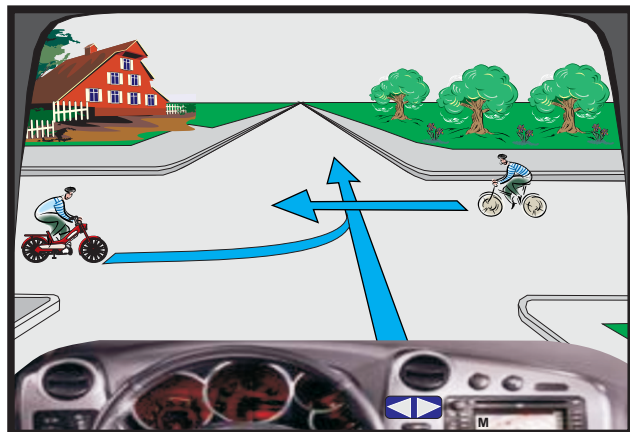
4028. Në semafor ndriçon drita e verdhë vezulluese (me ndërprerje).
Çka duhet të keni parasysh në këtë situatë?

- Do të ndalem dhe do të pres ndezjen e dritës së gjelbër.
- Do të vazhdoj lëvizjen me kujdes të shtuar, sipas nevojës, do të ndalem.
- Drita e verdhë vezulluese më jep përparësi kalimi.



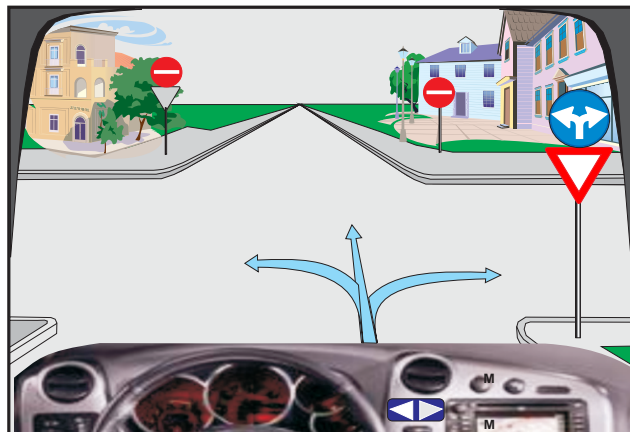
4029. Çka duhet të keni parasysh në këtë situatë?

- Do të vazhdoj lëvizjen i pari.
- Do t'i jap përparësi kalimi biçiklistit.
- Do të vazhdoj lëvizjen para mopedit.



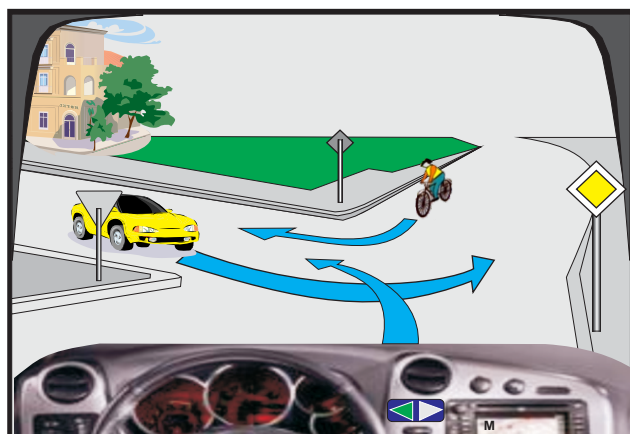
4030. Cilat veprime ju lejohen në këtë situatë?

- Lëvizja drejt, djathtas dhe majtas.
- Lëvizja djathtas dhe majtas.
- Lëvizja drejt.



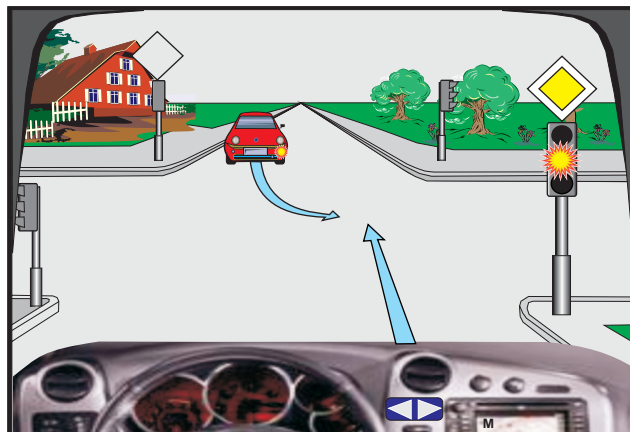
4031. Si duhet të jetë radhitja e kalimit në këtë kryqëzim?

- Unë, automjeti i verdhë, biçiklisti.
- Biçiklisti, unë, automjeti i verdhë.
- Biçiklisti, automjeti i verdhë, unë.



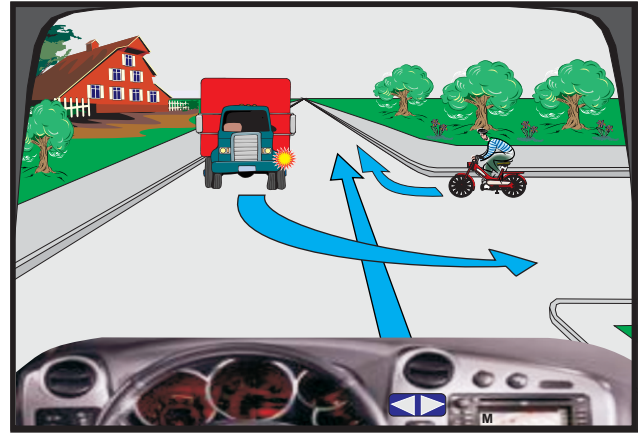
4032. Në semafor ndriçon drita e verdhë vezulluese (me ndërprerje). Çka duhet të keni parasysh në këtë situatë?

- Do të ndalem para shenjës.
- Do të vazhdoj lëvizjen para automjetit të kuq.
- Automjeti i kuq do të vazhdojë lëvizjen i pari.



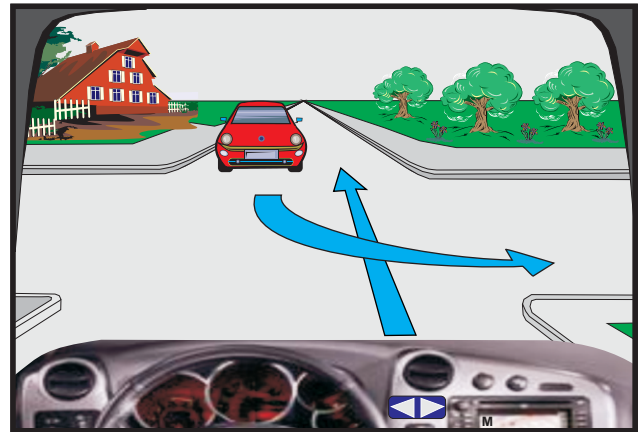
4033. Si duhet vepruar në këtë situatë?

- Do t'i jap përparësi kalimi mopedit.
- Do t'i jap përparësi kalimi kamionit.
- Do të vazhdoj lëvizjen para kamionit.



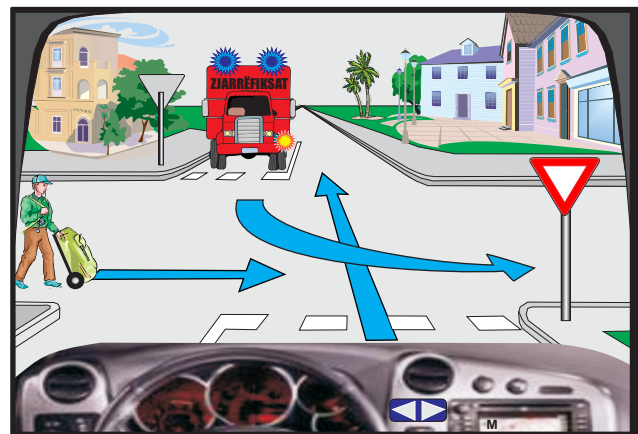
4034. Çka duhet të keni parasysh në këtë situatë?

- Do të lëviz pas automjetit të kuq.
- Do të lëviz para automjetit të kuq.
- Do ta respektoj rregullën e krahut të djathtë.



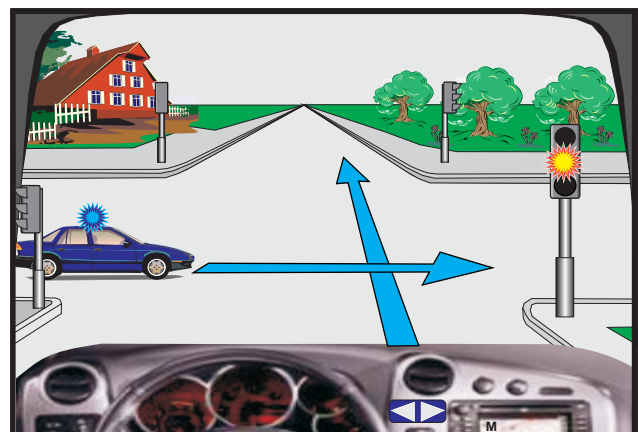
4035. Si duhet të jetë radhitja e kalimit në këtë kryqëzim?

- Unë, këmbësori, kamioni.
- Kamioni, këmbësori, unë.
- Këmbësori, unë, kamioni.



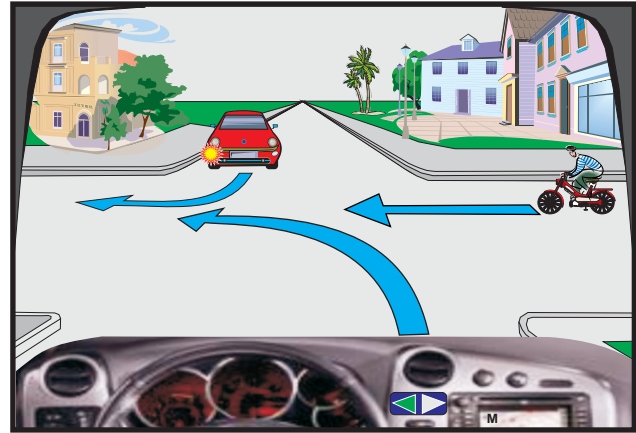
4036. Si do të veproni në këtë situatë, kur në semafor ndriçon drita e verdhë vezulluese?

- Do të vazhdoj lëvizjen i pari nëpër kryqëzim.
- Do të ndalem për ta lëshuar automjetin me përparësi kalimi.
- Do të vazhdoj lëvizjen me kujdes të shtuar, pasi të ketë kaluar automjeti me përparësi kalimi.



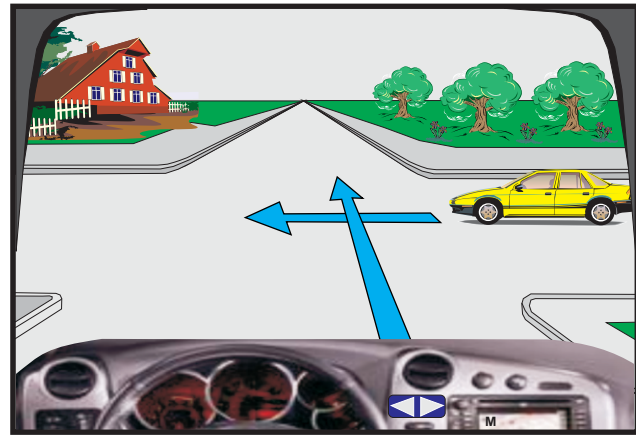
4037. Si duhet të jetë radhitja e kalimit në kryqëzim?

- Unë, mopedi, automjeti i kuq.
- Mopedi, automjeti i kuq, unë.
- Automjeti i kuq, mopedi, unë.



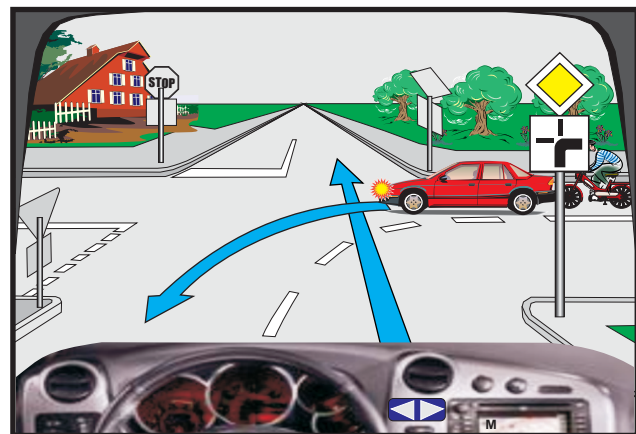
4038. Çka duhet të keni parasysh në këtë situatë?

- Do të vazhdoj lëvizjen pas automjetit të verdhë.
- Do të vazhdoj lëvizjen para automjetit të verdhë.
- Do ta respektoj rregullën e krahut të djathtë.



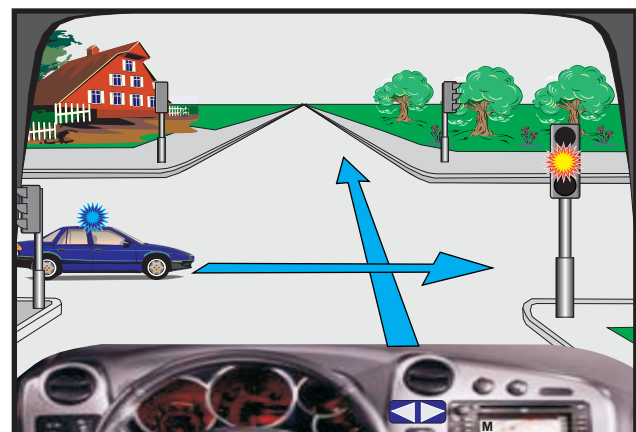
4039. Çka duhet të keni parasysh në këtë situatë?

- Duhet respektuar shenjat e trafikut.
- Unë vazhdoj lëvizjen i pari.
- Automjeti i kuq dhe mopedi kanë përparësi kalimi.



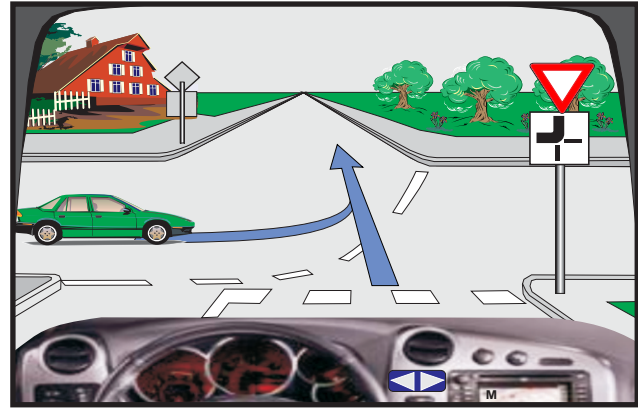
4040. Çka duhet të keni parasysh në këtë situatë?

- Do të vazhdoj lëvizjen i pari.
- Do të respektoj përparësinë e kalimit të mjetit në intervenim (policisë).
- Do të lëviz i fundit.



4041. Çka duhet të keni parasysh në këtë situatë?

- Do të vazhdoj lëvizjen i pari.
- Automjeti i gjelbër lëviz nëpër shtrirje të rrugës me të drejtë përparësie kalimi.
- Do të ndalem për t'i dhënë përparësi kalimi automjetit të gjelbër.



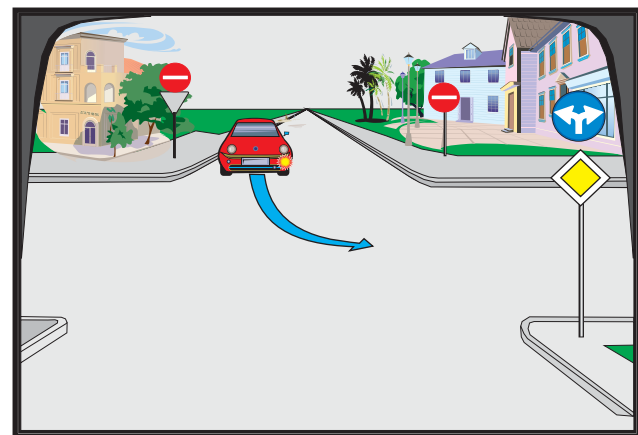
4042. Çka duhet të keni parasysh në këtë situatë?

- Do të vazhdoj lëvizjen para biçiklistit.
- Do të ndalem për t'i dhënë përparësi kalimi biçiklistit.
- Unë e kam të ndaluar kthimin djathtas në këtë kryqëzim.



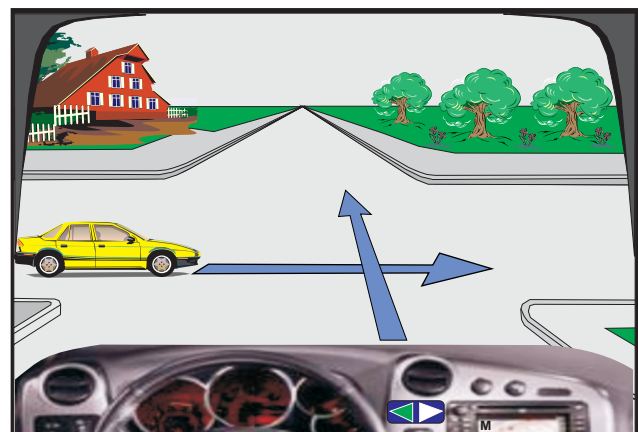
4043. Automjeti i kuq kthehet majtas. Si është rreshtuar?

- Drejt.
- Jo drejt.
- Në kundërshtim me rregullat e trafikut.



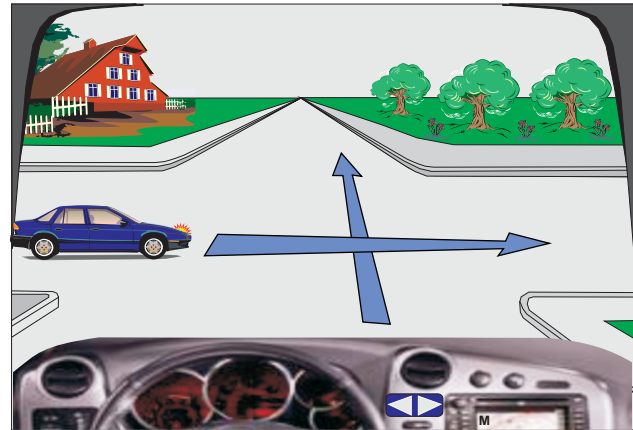
4044. Çka duhet të keni parasysh në këtë situatë?

- Do të ndalem për t'i dhënë përparësi kalimi automjetit të verdhë.
- Do të vazhdoj lëvizjen para automjetit të verdhë.
- Do të respektoj rregullën e krahut të djathtë.



4045. Çka duhet të keni parasysh në këtë situatë?

- Do të vazhdoj lëvizjen para automjetit të kaltër.
- Do të respektoj rregullën e krahut të djathtë.
- Do të vazhdoj lëvizjen pas automjetit të kaltër.



4046. Në semafor ndriçon drita e verdhë vezulluese. Çka duhet të keni parasysh në këtë situatë?

- Jam i obliguar të ndalem para vijës së ndërprerë.
- Do të vazhdoj lëvizjen me kujdes të shtuar dhe sipas nevojës do të ndalem.
- Do ta respektoj shenjen e trafikut.



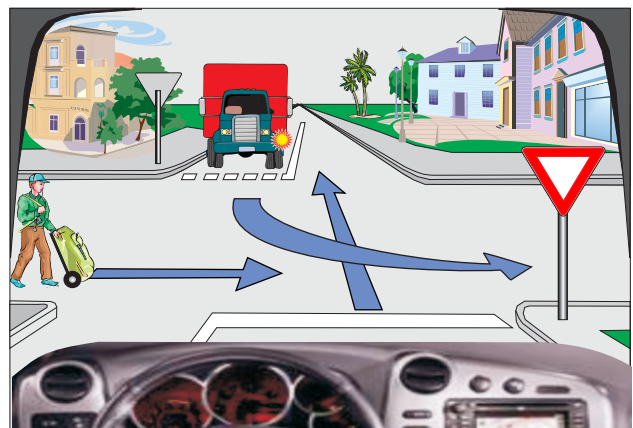
4047. Çfarë domethënie ka drita e gjelbër vezulluese (me ndërprerje) në semafor?

- Paralajmëron shoferin se së shpejti do të përfundojë kalimi i lirë.
- Ndalje e menjëhershme.
- Semafori nuk funksionon.



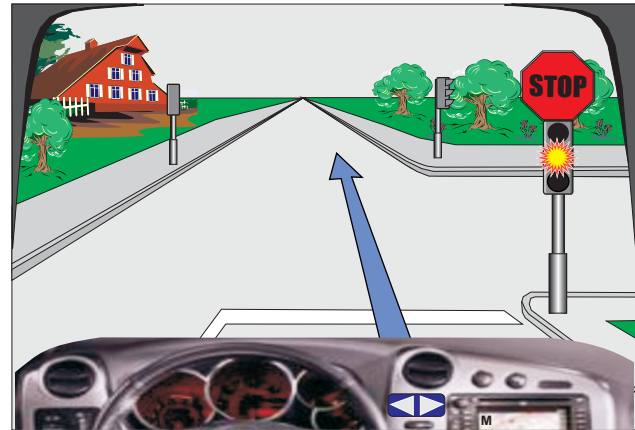
4048. Çka duhet të keni parasysh në këtë situatë?

- Kamioni kalon i pari në kryqëzim.
- Do të ndalem dhe do t'i jap përparësi kalimi këmbësorit.
- Unë kam përparësi kalimi në raport me kamionin.



4049. Çka duhet të keni parasysh në këtë situatë?

- Do të vazhdoj lëvizjen pa u ndalur.
- Duhet të ndalem, pastaj do të vazhdoj lëvizjen me kujdes të shtuar.
- Duhet të respektoj shenjen e trafikut.



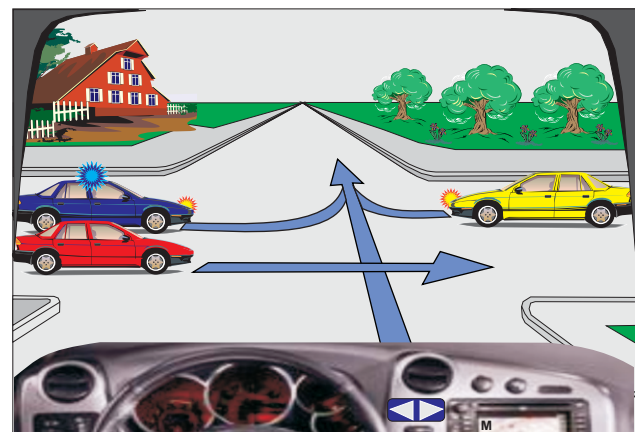
4050. Çka duhet të keni parasysh në këtë situatë?

- Do të vazhdoj lëvizjen para automjetit të kuq.
- Automjeti i kuq lëviz i pari.
- Kthimi majtas është i ndaluar, jam i obliguar të vazhdoj lëvizjen drejt.



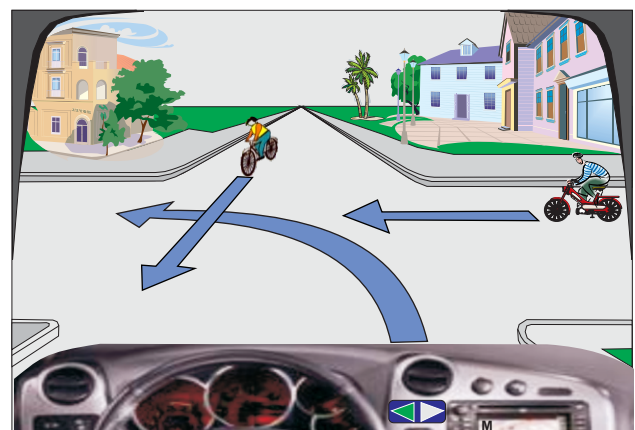
4051. Si duhet të jetë radhitja e kalimit në kryqëzim?

- Automjeti i policisë, unë, automjeti i verdhë, automjeti i kuq.
- Automjeti i policisë, automjeti i verdhë, unë, automjeti i kuq.
- Automjeti i policisë, automjeti i kuq, automjeti i verdhë, unë.



4052. Si është rregulluar përparësia e kalimit në këtë situatë?

- Në bazë të kategorive të mjeteve.
- Me shenja të trafikut.
- Me rregullën e krahut të djathtë.



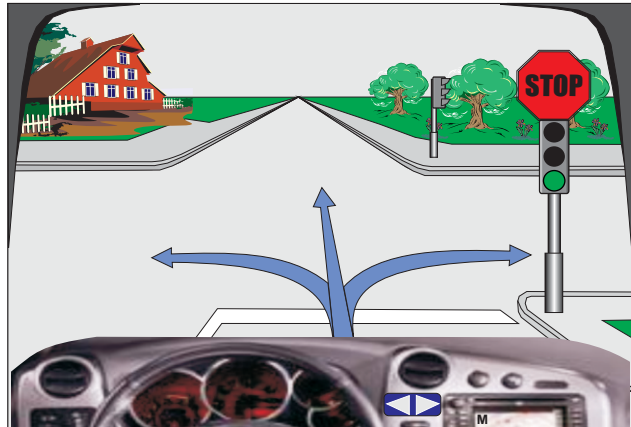
4053. Si duhet vepruar në këtë situatë?

- Mopedi lëviz i pari.
- Unë lëviz i fundit.
- Automjeti i verdhë lëviz i fundit.



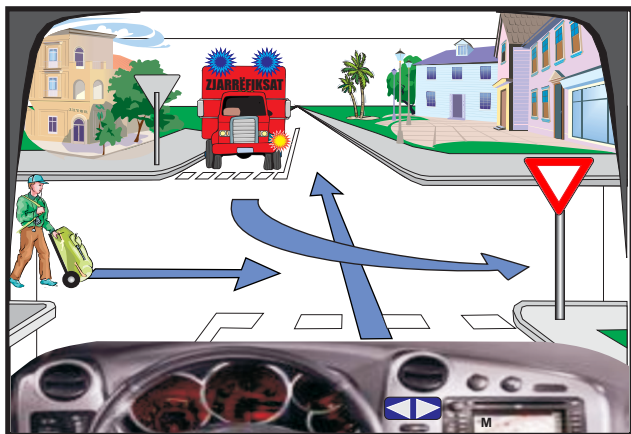
4054. A ju lejohet lëvizja në këtë situatë?

- Po, drejt, majtas ose djathtas.
- Jo.
- Po, vetëm drejt.



4055. Çka duhet të keni parasysh në këtë situatë?

- Do të vazhdoj lëvizjen i pari.
- Jam i obliguar t'i jap përparësi kalimi automjetit të zjarrfikësve.
- Do t'i jap përparësi kalimi këmbësorit.



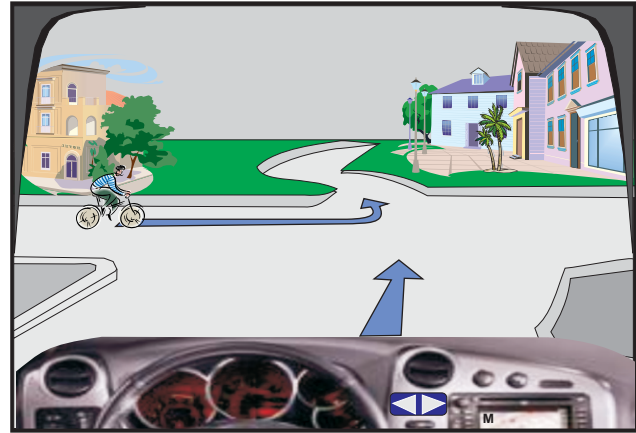
4056. Çka duhet të keni parasysh në këtë situatë?

- Automjeti i kuq lëviz i pari.
- Unë lëviz i pari.
- Do të respektoj shenjat e trafikut.



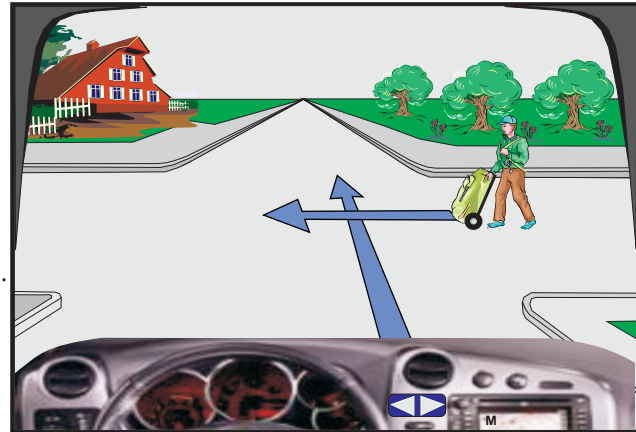
4057. Çka duhet të keni parasysh në këtë situatë?

- Unë kam përparësi kalimi në raport me biçiklistin.
- Unë do të ndalem për t'i dhënë përparësi kalimi biçiklistit.
- Në këtë kryqëzim respektohet rregulla e krahut të djathtë.



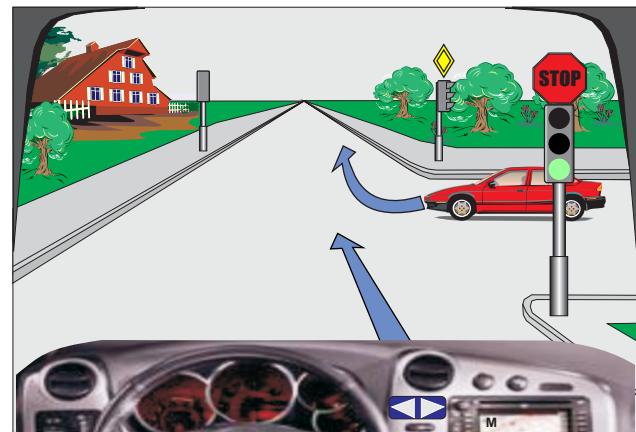
4058. A jeni të obliguar të kujdeseni për këmbësorin?

- Po, vetëm në vendkalimin për këmbësorë.
- Jo, sepse nuk është duke lëvizur në mënyrë të drejtë.
- Po edhe pse këmbësori nuk është duke lëvizur në mënyrë të drejtë.



4059. Në semafor ndriçon drita e gjelbër. Si do të veproni në këtë situatë?

- Do të ndalem për të respektuar shenjën stop.
- Do të ndalem për të respektuar rregullin e krahut të djathtë.
- Do të vazhdoj lëvizjen pa u ndalur.



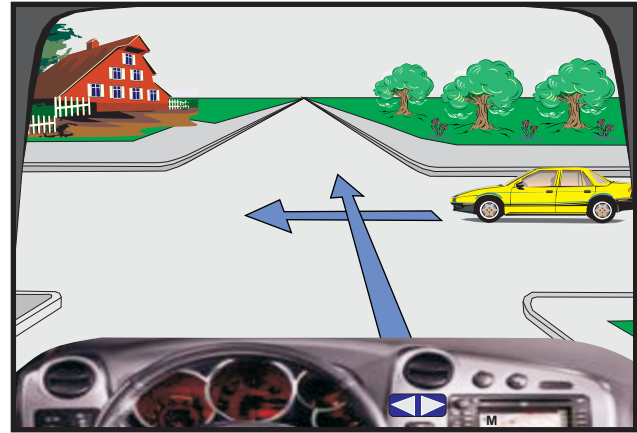
4060. Si do të veproni në këtë situatë?

- Do t'i jap përparësi kalimi automjetit të gjelbër.
- Do të lëviz i pari pasi që jam duke hyrë në rrugë me përparësi kalimi.
- Do të lëviz i fundit.



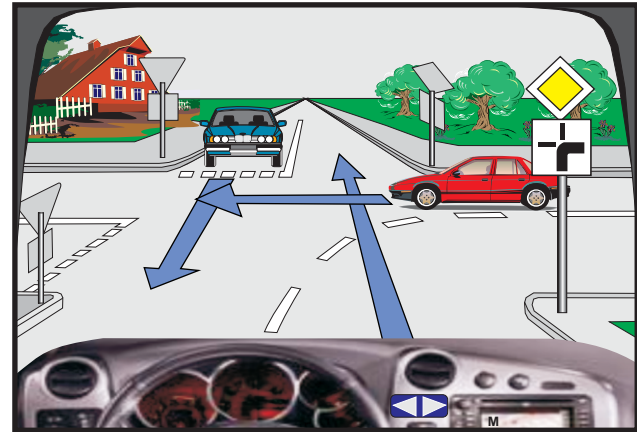
4061. Çka duhet të keni parasysh në këtë situatë?

- Do të vazhdoj lëvizjen para automjetit të verdhë.
- Do të vazhdoj lëvizjen pas automjetit të verdhë.
- Do të respektoj përparësinë e kalimit të krahut të djathtë.



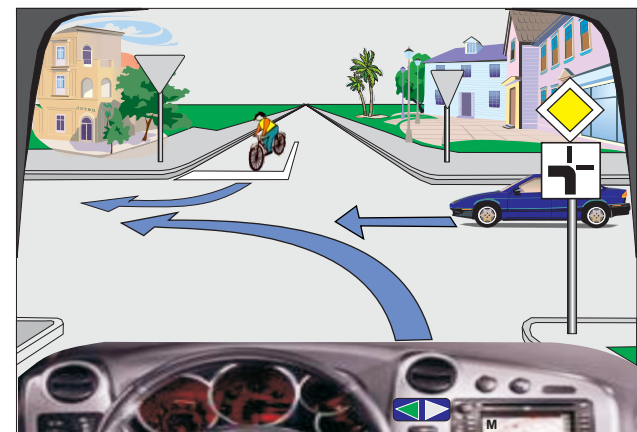
1062. Si duhet vepruar në këtë situatë?

- Unë lëviz i pari.
- Automjeti i kuq lëviz i pari.
- Automjeti i kaltër lëviz i pari.



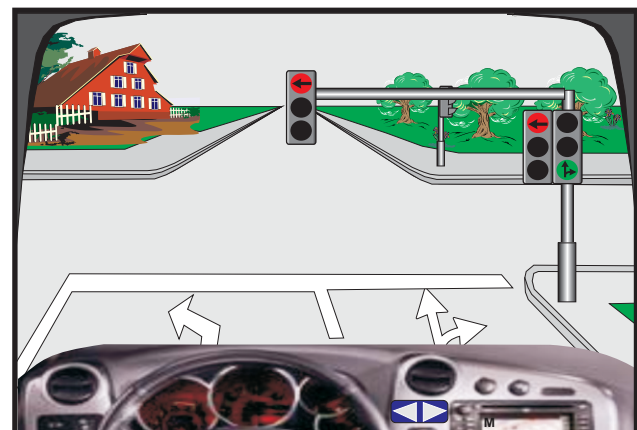
4063. Si duhet vepruar në këtë situatë?

- Biçiklisti do të lëvizë i dyti.
- Automjeti i kaltër lëviz i pari.
- Unë do të lëviz i pari.



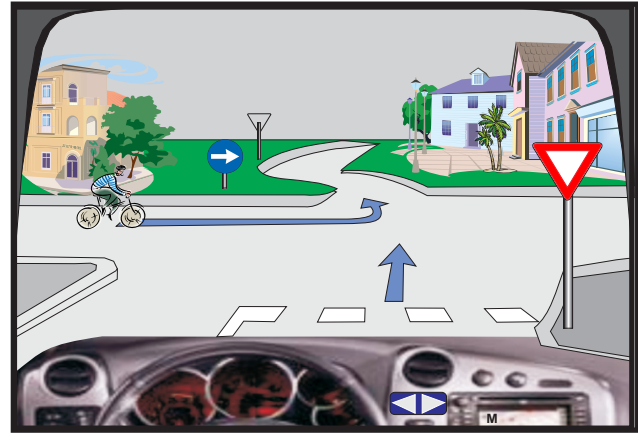
1064. Në cilat drejtime ju lejohe të lëvizni në këtë situatë?

- Drejt.
- Djathtas.
- Majtas.



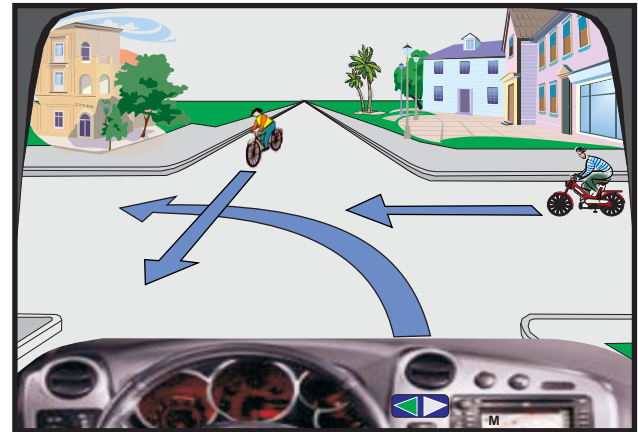
4065. Si duhet vepruar në këtë situatë?

- Unë kam përparësi kalimi në raport me biçiklistin.
- Biçiklisti lëviz i pari.
- Unë lëviz nëpër rrugë me përparësi kalimi.



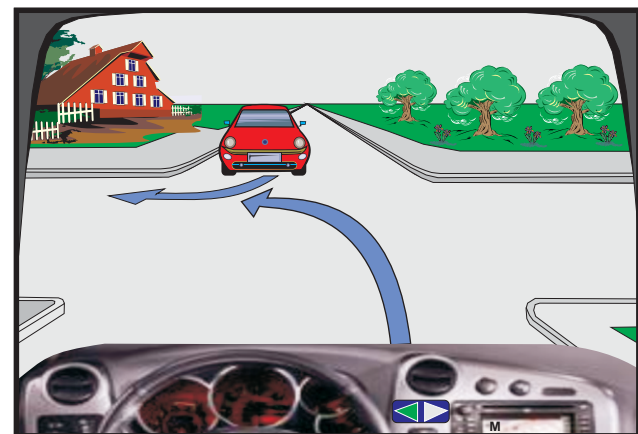
4066. Çka duhet të keni parasysh në këtë situatë?

- Do ta respektoj rregullën e krahut të djathtë.
- Unë lëviz i fundit.
- Unë lëviz i pari.



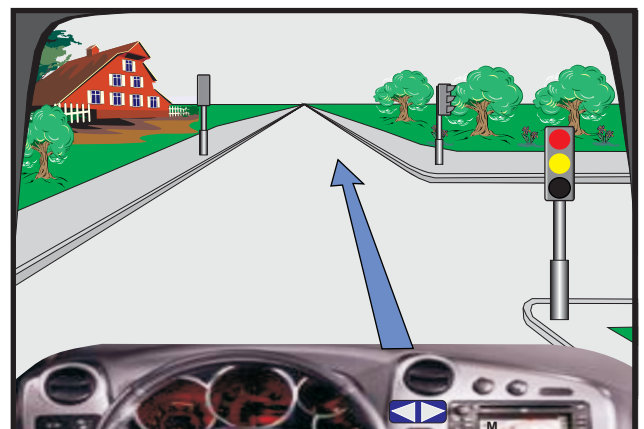
4067. Çka duhet pasur parasysh në këtë situatë?

- Do të lëviz pas automjetit të kuq.
- Do të lëviz para automjetit të kuq.
- Do ta respektoj rregullën e krahut të djathtë.



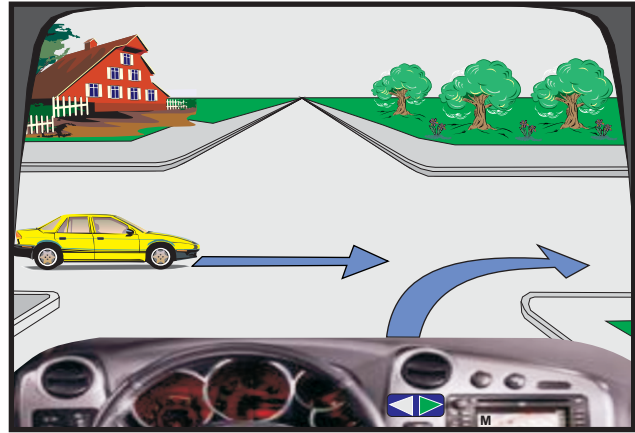
4068. Çfarë domethënie kanë dritat e ndezura në semafor?

- Kalimi është i lirë, por me kujdes të shtuar.
- Përgatitje për nisje.
- Së shpejti do të ndizet drita e gjelbër.



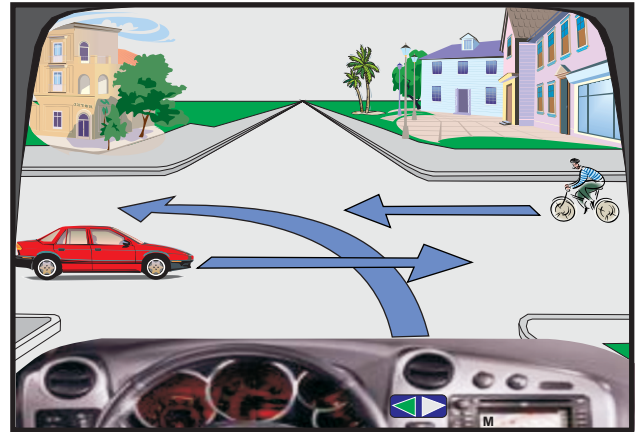
4069. Çka duhet të keni parasysh në këtë situatë?

- Do të vazhdoj lëvizjen para automjeti të verdhë.
- Do t'i jap përparësi kalimi automjetit të verdhë, pasi që e mbanë drejtimin e lëvizjes.
- Do ta respektoj rregullën e krahut të djathtë.



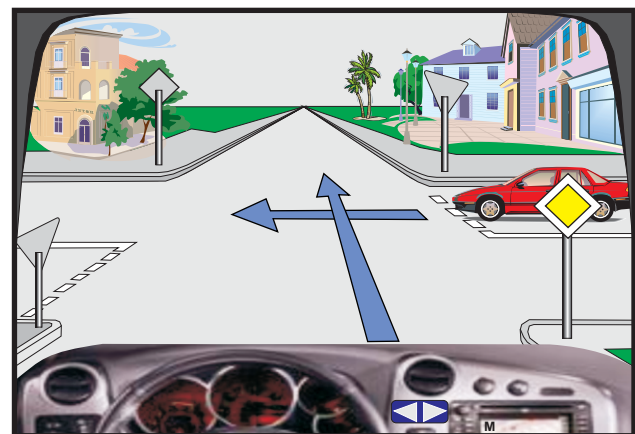
4070. Si duhet të jetë rradhitja e kalimit në këtë situatë?

- Automjeti i kuq, unë, biçiklisti.
- Biçiklisti, automjeti i kuq, unë.
- Biçiklisti, unë, automjeti i kuq.



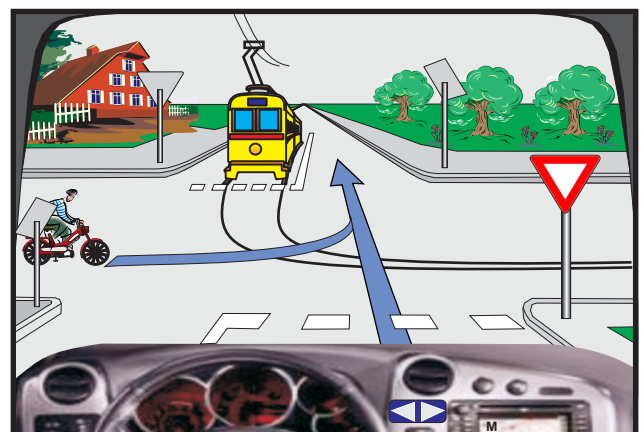
4071. Çka duhet të keni parasysh në këtë situatë?

- Do të vazhdoj lëvizjen pas automjetit të kuq.
- Do të vazhdoj lëvizjen para automjetit të kuq.
- Do ta respektoj shenjën e trafikut.



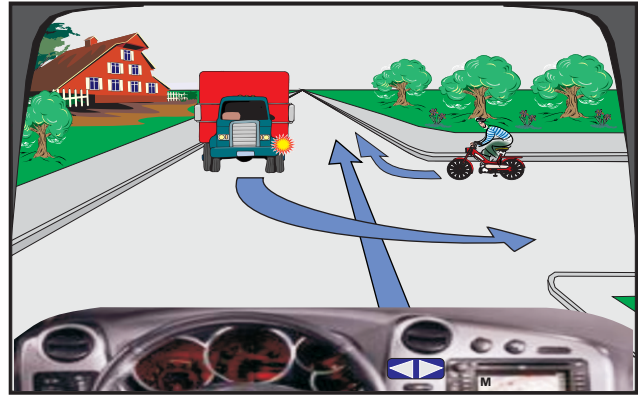
4072. Si duhet të jetë rradhitja e kalimit nëpër kryqëzim?

- Unë, tramvaji, mopedi.
- Mopedi, tramvaji, unë.
- Tramvaji, mopedi, unë.



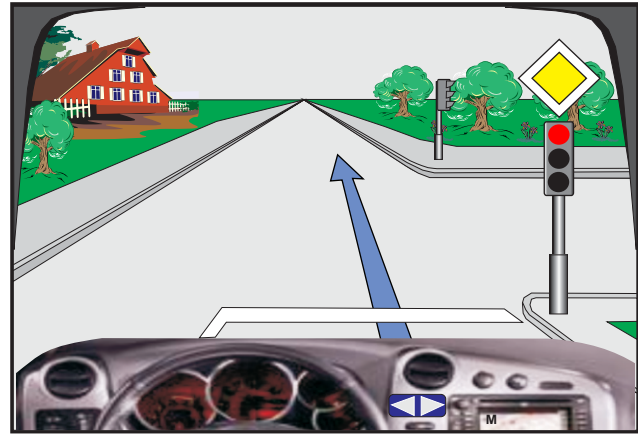
4073. Si duhet të jetë radhitja e kalimit në kryqëzim?

- Unë, mopedi, kamioni.
- Mopedi, unë, kamioni.
- Mopedi, kamioni, unë.



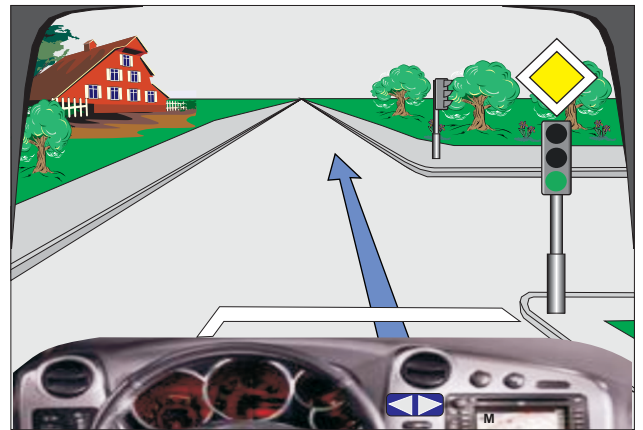
4074. Çka duhet të keni parasysh në këtë situatë?

- Do të vazhdoj lëvizjen pa u ndalur.
- Duhet të respektoj domethënien e shenjës së trafikut.
- Do të respektoj domethënien e semaforit.



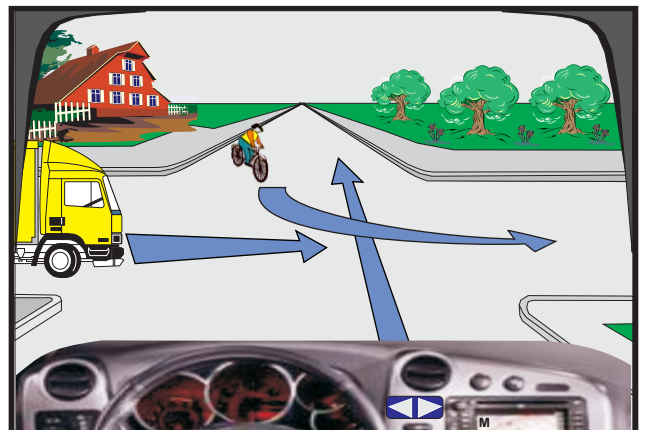
4075. Çka duhet të keni parasysh në këtë situatë?

- Do të vazhdoj lëvizjen pa u ndalur.
- Do të ndalem para shenjës.
- Do të respektoj domethënien e semaforit.



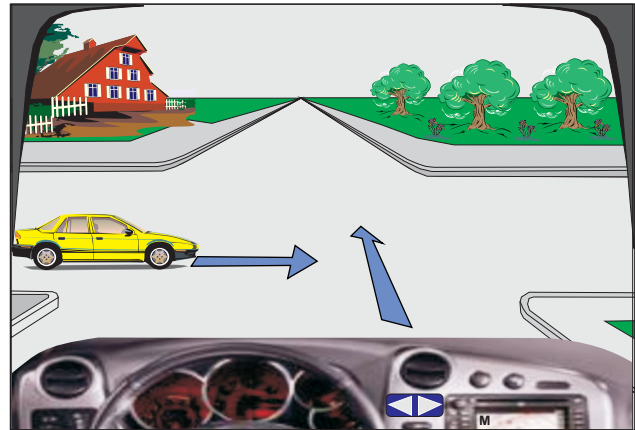
4076. Si duhet vepruar në këtë situatë?

- Unë lëviz i pari.
- Kamioni lëviz i dyti.
- Biçiklisti lëviz i pari.



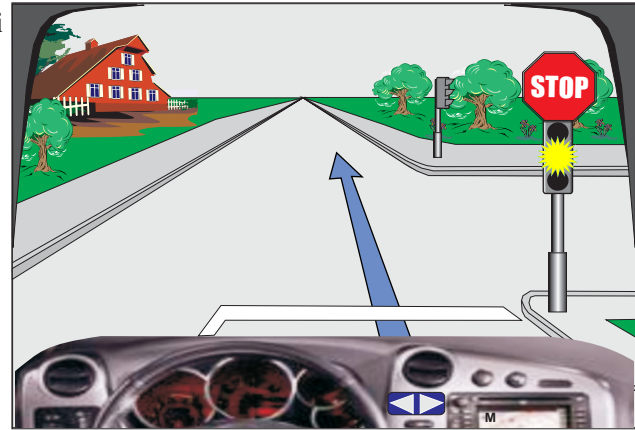
4077. Çka duhet të keni parasysh në këtë situatë?

- Unë do të lëviz pas automjetit të verdhë.
- Unë do të lëviz para automjetit të verdhë.
- Në këtë situatë respektohet rregulla e krahut të djathtë.



4078. Në semafor ndriçon drita e verdhë vezulluese, çka duhet të keni parasysh në këtë situatë?

- Do të vazhdoj lëvizjen pa u ndalur.
- Duhet të ndalem.
- Do të respektoj shenjën e trafikut.



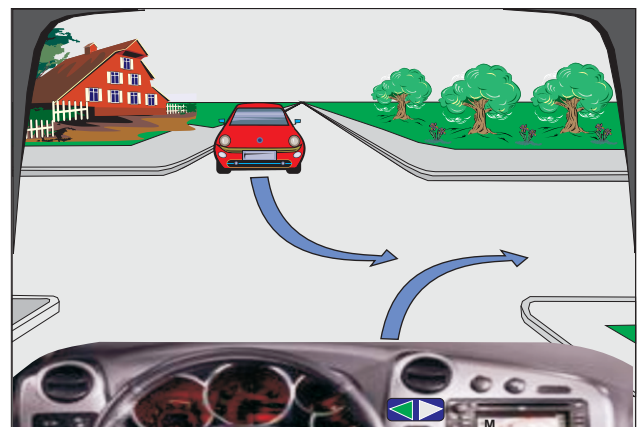
4079. Si duhet të jetë radhitja e kalimit në këtë kryqëzim?

- Unë, automjeti i kaltër, këmbësori.
- Unë, këmbësori, automjeti i kaltër.
- Këmbësori, unë, automjeti i kaltër.



4080. Çka duhet të keni parasysh në këtë situatë?

- Do të lëviz pas automjeti të kuq.
- Do të lëviz para automjetit të kuq.
- Do ta respektoj rregullën e krahut të djathtë.



5001. Cilët faktorë ndikojnë negativisht në gjendjen psiko fizike të shoferit?

- Sëmundjet akute dhe kronike.
- Pushimi i rregullt.
- Të ushqyerit jo në rregull.

5002. Si ndikon alkooli te aftësia e shoferit gjatë ngasjes?

- Zgjat kohën e reagimit.
- Zvogëlon fushën e dukshmërisë.
- Rrit aftësinë e ngasjes.

5003. Cilët faktorë ndikojnë negativisht në gjendjen psiko-fizike të shoferit?

- Alkooli.
- Lodhja.
- Pushimi i gjatë.

5004. Cilët faktorë shkaktojnë lodhjen e shoferit?

- Pushimet e shpeshta.
- Temperatura e lartë.
- Zhurma e madhe në mjet.

5005. Cilët faktorë ndikojnë negativisht në gjendjen psiko-fizike të shoferit?

- Pushimet e rregullta.
- Zhurma dhe vibracionet.
- Klima e papërshtatshme .

5006. Cilët faktorë ndikojnë negativisht në aftësinë e shoferit për ngasje?

- Lodhja.
- Pushimet e shpeshta.
- Pagjumësia.

5007. Si ndikon alkooli te shoferi?

- Shoferi i mbivlerëson aftësinë e tij personale.
- Shoferi i vlerëson situatat në trafik jo drejt.
- Shoferi reagon shumë shpejt.

5008. Cilët faktorë ndikojnë negativisht në gjendjen psiko -fizike të shoferit?

- Klima e papërshtatshme në mjet.
- Zhurma dhe vibracionet.
- Lodhja e shoferit.

5009. **Si ndikon alkooli gjatë ngasjes?**

- Rrit vetëbesimin.
- Situatat në trafik i vlerëson në mënyrë të drejtë.
- Nxit dëshirën për shpejtësi të madhe.

5010. **Si ndikon alkooli gjatë ngasjes?**

- Pozitivisht.
- Negativisht.
- Pa ndikim.

5011. **Cilat janë gabimet më të shpeshta të shoferëve nën ndikimin e alkoolit?**

- Mosrespektimi i shpejtësisë.
- Tejkallimet jo të rregullta.
- Mosrespektimi i përparësisë së kalimit.

5012. **Si ndikon pirja e duhanit nga ana e shoferit gjatë ngasjes?**

- Pavolitshëm, duke krijuar monoksid karboni.
- Pa ndikim.
- Negativisht.

5013. **Si paraqitet lodhja gjatë ngasjes?**

- Gradualisht.
- Befasisht.
- Befasisht, vetëm te shoferët e vjetër.

5014. **A kanë ndikim negativ të gjitha medikamentet (barërat) te shoferi gjatë ngasjes?**

- Po të gjitha, pa përjashtim.
- Jo, në asnjë rast.
- Po, vetëm ato që nuk lejohen të përdoren para dhe gjatë ngasjes.

5015. **Si ndikon temperatura e lartë në kabinën e shoferit?**

- Pa ndikim.
- Negativisht.
- Zvogëlon aftësitë e shoferit për ngasje.

5016. **Si ndikojnë narkotikët (droga) në aftësitë e shoferit?**

- I vlerëson drejt situatat në trafik.
- Nxitë dëshirën për tejkallim .
- Zvogëlon aftësitë e vlerësimit të situatave në trafik në mënyrë të drejtë.

5017. **Si ndikojnë vibracionet dhe zhurma e mjetit në aftësitë e shoferit?**

- Shkaktojnë lodhjen e shoferit.
- Rrisin aftësinë për ngasje.
- Zvogëlon aftësitë e shoferit për ngasje.

5018. **Cilët janë faktorët që shkaktojnë lodhjen e shoferit?**

- Ushqimi jo i rregullt.
- Vibracionet (dridhjet) e mjetit.
- Pushimet e shpeshta.

5919. **Cilat pije nuk lejohet të konsumohen drejtëpërdrejtë para dhe gjatë ngasjes?**

- Çaji i nxehtë.
- Pijet alkoolike.
- Pijet e gazuar joalkoolike.

5020. **Si ndikon pirja e duhanit te shoferi gjatë ngasjes?**

- Mund të humbet koncentrimi.
- Më mirë i vlerëson situatat në trafik.
- Duke ndezur cigaren, mund të mos vërejë ndonjë situatë të rrezikshme në rrugë.

5021. **Si ndikon temperatura e ulët në kabinën e shoferit?**

- Rrit aftësinë për ngasje.
- Pa ndikim.
- Negativisht.

5022. **Cilët faktorë ndikojnë negativisht në aftësinë e shoferit gjatë ngasjes?**

- Lodhja.
- Dëgjimi i radios me zë të ulët.
- Zhurma, vibracionet (dridhjet).

5023. **Si do të veproni nëse gjatë ngasjes natën jeni i lodhur?**

- Duhet të dëgjoj radion me zë të lartë.
- Do të parkoj mjetin dhe të pushoj.
- Do të vazhdoj ngasjen duke biseduar me bashkëudhëtarë.

5024. **Çfarë rreziku paraqet pirja e duhanit gjatë ngasjes?**

- Krijohet monoksid karboni, dobësohet koncentrimi.
- Gjatë ndezjes së cigarës mund të shkaktohen gabime.
- Zvogëlon përqëndrimin në ngasje.

5025. **Si evitohet lodhja gjatë ngasjes në relacione të gjata?**

- Me pushim.
- Duke përdorur ushqim të bollshëm drejtpërdrejt para ngasjes.
- Vetëm duke biseduar me bashkudhëtarë.

5026. **Cilët janë faktorët që zvoglojnë aftësinë e shoferit për ngasje?**

- Pirja e duhanit.
- Përdorimi i narkotikëve.
- Pushimi i gjatë.

5027. **Cilat pajisje mundësojnë punën e motorit?**

- Pajisjet për ftohje.
- Pajisjet për lubrifikim.
- Pajisjet për furnizim me karburantë.

5028. **Për çka shërben friksioni (kuplungu)?**

- Për nisjen e mjetit nga vendi.
- Për ndaljen e mjetit në vend.
- Gjatë ngasjes në kthesa ruan stabilitetin e mjetit.

5029. **Cilët faktorë zvoglojnë aftësinë e shoferit gjatë ngasjes?**

- Lodhja.
- Pagjumësia.
- Përdorimi i drogës.

5030. **Cilët faktorët ndikojnë negativisht në aftësinë e shoferit gjatë ngasjes?**

- Ushqim jo i rregullt.
- Gjendja jo e mirë psikike.
- Pirja e duhanit në mjet.

5031. **Nën cilat kushte do të veprojë alkooli më shpejtë te shoferi?**

- Nëse shoferi është i lodhur.
- Nëse shoferi konsumom alkool në lukth të zbrazët.
- Nëse shoferi nuk ka patentë shofer.

5032. **Si mund të ndikojë alkooli te shoferi?**

- Zvogëlon aftësinë për ngasje.
- Zgjat kohën e reagimit.
- Zvogëlon fushën e dukshmërisë.

5033. **Si ta ruajmë ambientin gjatë ngasjes (Eko-ngasja) dhe të kursehet karburanti?**

- Ngasja me shpejtësi maksimale.
- Me kohë të ndërrohen shpejtësitë.
- Gjatë pritjeve të gjata të fiket motori.

5034. **Cilat janë masat për ruajtjen e ambientit?**

- Të kontrollohet sasia e CO, e gazrave dalëse.
- Ndërrimi i vajit të bëhet në vende të parapara.
- Mjetin e pastroni në vendet e parapara.

5035. **Çka e karakterizon ngasjen ekonomike?**

- Qëndrueshmëria e gjatë e mjetit.
- Shpenzimet maksimale të karburantit.
- Shpenzimet minmale të karburantit.

5036. **Çka e karakterizon Eko-ngasjen?**

- Ngasja në mënyrë të njëtrajtshme.
- Mosngasja me ngarkesë të panevojshme në bagazh.
- Ngasja me numër maksimal të rrotullimeve të motorit.

5037. **Si ruhet ambienti gjatë ngasjes (Eko-ngasja) dhe kursehet karburanti?**

- Gradualisht jepni gas.
- Mos nxitoni vrullshëm.
- Mospërdorimi i mjetit në relacione të shkurtëra .

5038. **Si të ruhet ambienti?**

- Moslejimi i rrjedhjes së vajit nën automjet.
- Shfrytëzimi i karburantit që parasheh prodhuesi.
- Hedhja e gomave të harxhuara në vende përkatëse.

5039. **Çka e karakterizon Eko-ngasjen?**

- Shmangiuni ngasjes kur trafiku është i dendur.
- Ngasja me numër të rrotullimeve optimale të motorit.
- Ngasja vetëm natën.

5040. **Çka e karakterizon Eko-ngasjen?**

- Ngasja me numër të mesëm të rrotullimit të motorit.
- Ndërrimi me kohë i shpejtësisë.
- Gjatë pritjeve të gjata të fiket motori.

5041. **Si duhet ruajtur ambijentin gjatë ngasjes (Eko-ngasja)?**

- Duke nxituar vrullshëm.
- Me ngasje maksimale të shpejtësisë.
- Me ngasje racionale.

5042. **Çka e karakterizon ngasjen ekonomike?**

- Shpenzimet minimale të karburantit.
- Ngasje me numër maksimal të rrotullimeve të motorit.
- Zgjatja e afatit të qëndrueshmërisë së automjetit.

5043. **Si mund të ruhet ambienti gjatë ngasjes -Eko- ngasja?**

- Ngasje me numër optimal të rrotullimeve të motorit.
- Gjatë pritjeve të gjata të fiket motori.
- Ngasje me numër maksimal të rrotullimeve të motorit.

5044. **Çfarë ndikimi kanë amortizatorët e dëmtuar?**

- Shkurtohet koha e reagimit.
- Dobësohet stabiliteti i mjetit.
- Rritet stabiliteti i mjetit.

5045. **Si të ruhet ambienti gjatë ngasjes dhe të kursehet karburanti (Eko-ngasja)?**

- Ngasje me shpejtësi maksimale.
- Me kohë të ndërrohen shpejtësitë.
- Ngasje pa nxitim dhe frenim të vrullshëm.

5046. **Çka e karakterizon Eko-ngasjen?**

- Ngasje racionale.
- Ngasje me nxitim dhe frenim të vrullshëm.
- Ngasje me zgjidhje optimale të shpejtësisë.

5047. **Si duhet ta ruajmë ambientin gjatë ngasjes dhe të kursejm karburant (Eko-ngasja)?**

- Nisja dhe nxitimi i mjetit bëhet në mënyr graduale.
- Me rastin e blerjes së mjetit t'i keni parasysh harxhimet e karburantit.
- Të ngasim automjetin me numër maksimal të rrotullimeve të motorit.

5048. **Si duhet ta ruajmë ambientin gjatë ngasjes dhe të kursejmë karburantin?**

- Te drita e kuqe në semafor ngadalësojmë me kohë mjetin.
- Me kohë të ndërrohen shkallët e transmisionit.
- Pneumatikët (gomat) të kenë shtypjen e paraparë.

5049. Çka shërben tabela kontrolluse (komanduese) në automjet?

- Mundëson përcjelljen e punës së motorit.
- Tregon kilometrat e kaluar.
- Tregon shpejtësinë e lëvizjës.

5050. Cilat janë shkaqet e mundshme që timoni dridhet gjatë ngasjes?

- Shtypja e ajrit në pneumatikët (goma) në boshtin e përparme nuk është e njëjtë.
- Lëvizja e timonit mbi kufijtë e lejuar.
- Rrotat e pabalancuara .

5051. Për çfarë shërben tabela kontrolluese te automjeti?

- Për kontrollimin e numrit të udhëtarëve në automjet.
- Për kontrollimin e pajisjeve ndriçuese.
- Për kontrollimin e pajisjeve sinjalizuese.

5052. Cilat janë pasojat e shtypjes së ulët të ajrit në pneumatik (goma)?

- Zvogëlohen shpenzimet e karburantit
- Zvogëlohet stabiliteti i mjetit.
- Dëmtohen pneumatikët.

5053. Sa mund të jetë hapi i lirë i lëvizjës së timonit?

- I lejuar në kufijtë e caktuar.
- Deri në 30 shkallë.
- Deri në 45 shkallë.

5054. Çka nënkuptojmë me sistemin frenues të mjeteve?

- Frenin punues.
- Frenin e parkimit.
- Frenin ndihmës.

5055. Cilat janë shkaqet e mundshme të dështimit të frenit punues hidraulik?

- Mungesa e sasisë së vajit.
- Prezenca e ajrit në sistemin frenues.
- Pneumatiket e harxhuar.

5056. Cilat janë pasojat e shtypjes së ulët të ajrit në pneumatikë (goma)?

- Zvogëlohet stabiliteti i mjetit.
- Dëmtohen pneumatikët.
- Rriten shpenzimet e karburantit.

5057. **Cila mënyrë e ngasjes ndikon në kursimin e karburantit dhe në mbrojtjen e ambientit (Eko-ngasja)?**

- Frenimet e shpeshta.
- Nisja dhe nxitimi bëhet në mënyrë graduale.
- Ngasja racionale.

5058. **Çka do të ndikojë në shpenzim të madh të karburantit?**

- Ngasja me ngarkesë të panevojshme.
- Ngasja me rrotullime të mëdha të motorit.
- Ngasja me filtër të ri të ajrit.

5059. **Si ruhet ambienti gjatë ngasjes (Eko-ngasja) dhe kursehet karburanti?**

- Nëse mjetit të ndalur i japim gas.
- Nëse amortizatorët nuk janë në rregull.
- Nëse nisemi me gas të vogël.

5060. **Çka duhet kontrolluar te automjeti që të kursehet karburanti ?**

- Shtypja e ajrit në pneumatikë (goma).
- Filteri i ajrit.
- Pajisjet sinjalizuese.

5061. **Cilës mënyrë të ngasjes duhet shmangur që të kursehet karburanti?**

- Ngasjes në relacione shumë të shkurtëra.
- Ngasjes me ngarkesë të panevojshme.
- Ngasjes me shpejtësi shumë të madhe.

5062. **Në cilat raste fiket motori, që të ruhet ambienti gjatë ngasjes (Eko-ngasja) dhe të kursehet karburanti?**

- Kur para vendkalimit hekurdhor duhet pritur gjatë.
- Kur duhet pritur gjatë në kolonë e cila është e ndalur.
- Kur duhet të pritët më gjatë se një minutë në tunel.

5063. **Si ruhet ambienti gjatë ngasjes (Eko-ngasja) dhe kursehet karburanti?**

- Në përpjetëze e vejëm ndërruesin në shkallë adekuate të transmisionit.
- Në teposhtëze duhur fikur motori.
- Në teposhtëze ndërruesin e vendosim në atë shpejtësi pa pasur nevojë të frenojmë vazhdimisht.

5064. **Cila mënyrë e ngasjes e ruan ambientin gjatë ngasjes (Eko-ngasja) dhe kursehet karburanti?**

- Të niseni qetë dhe të nxitoni ngadal.
- Me parashikim të ngasni dhe me kohë ta largoni këmbën nga papuçja e gasit.
- Të ngitni me numër të mesme të motorit.

5065. **Për çka shërben sistemi elektrik i automjetit?**

- Siguron rrymën për aktivizimin e motorit të automjetit.
- Për funksionimin e pajisjeve sinjalizuese të automjetit.
- Për funksionimin e pajisjeve ndriçuese të automjetit.

5066. **Për çka shërben ndërruesi i shpejtësisë ?**

- Për lëvizjen e mjeteve përpara.
- Për lëvizjen e mjeteve prapa.
- Për funksionimin e pajisjeve sinjalizuese.

5067. **Për çka shërben friksioni (kuplungu)?**

- Mundëson nisjen e mjetit nga vendi.
- Ndërrimin e shpejtësisë gjatë ngasjes.
- Barazimin e rrotullimeve të rrotave gjatë ngasjes nëpër kthesa.

5068. **Sa është thellësia e vijave të pneumatikët e verës të automjeti i udhëtarëve?**

- Së paku 1,6 mm.
- Së paku 1,0 mm.
- Së paku 4,0 mm.

5069. **Për çka shërben sistemi ABS të automjeti?**

- Në rast frenimit nuk vjen deri te bllokimi i rrotave.
- Për ruajtjen e stabilitetit gjatë ngasjes.
- Gjatë ngasjes në kthesa ruan stabilitetin e mjetit.

5070. **Cilat janë pajisjet ndriçuese për ndriçimin e rrugës?**

- Dritat e gjata.
- Dritat e shkurtëra.
- Dritat gabarite.

5071. **Për ç'arsye timoni mund të tërheq anash gjatë ngasjes?**

- Për shkak të shtypjes jo të njëjtë të ajrit në pneumatik.
- Për shkak të rrotave jo të balancuara.
- Nëse mjeti nuk është pajisur me sistemin ABS.

5072. **Cilat janë pajisjet e transmisionit?**

- Friksioni.
- Ndërruesi i shpejtësisë.
- Boshti i kardanit.

5073. Cilat janë shkaqet që dobësohet bateria?

- Ndonjë defekt në sistemin elektrik.
- Nëse harrohen dritat të ndezura kur parkohet mjete.
- Nëse ngasim me shpejtësi të vogël.

5074. Në cilat rrota vepron freni punues?

- Vetëm në rrotat e para.
- Në të gjitha rrotat.
- Vetëm në rrotat e prapame

5075. Për çka shërben sistemi frenues i mjetit?

- Për zvogëlimin e shpejtësisë së mjetit.
- Për ndaljen e tërsishme të mjetit.
- Për moslëvizjen e mjetit kur është i ndalur apo i parkuar.

5076. Si do të njoftoheni se temperatura e motorit e ka kaluar kufirin e lejuar?

- Treguesi i temperaturës në tabelen kontrolluese kalon në fushën e kuqe.
- Motori do të fiket menjëherë.
- Pajisjet sinjalizuese do të fiken menjëherë.

5077. Cilat janë shkaqet e mundshme të bllokimit të motorit?

- Mosfunksionimi i sistemit për ftohje.
- Mosfunksionimi i sistemit të lyrjes së motorit.
- Mosfunksionimi i pajisjeve sinjalizuese.

5078. Si ndikon shtypja e ulët e ajrit në pneumatikë (goma)?

- Rrit shpenzimet e karburantit.
- Rrit kohën e reagimit.
- Zvogëlon stabilitetin e mjetit.

5079. Cilat janë shkaqet e mundshme nëse në tabelën kontrolluese ndizet drita e kuqe e temperaturës?

- Sasia e pamjaftueshme e ujit.
- Nuk funksionon sistemi i ftohjes.
- Nuk funksionon sistemi i frenimit.

5080. Çka duhet kontrolluar në pneumatikët (çomat) e mjetit?

- Thellësinë e vijave.
- Shtypjen e ajrit në pneumatik.
- Gjendjen fizike të tyre.

5081. Cilat janë sistemet themelore në automjet që janë më rëndësi për sigurinë në trafikun rrugor?

- Sistemi për drejtim.
- Sistemi për ndalje (frenim).
- Sistemi për ndriçim.

5082. Cili është roli i ESP -Programi Elektronik i Stabilitetit?

- Për ruajtjen e stabilitetit në kthesa të ashpra.
- Rregullon sistemin për ndriçim.
- Për ndaljen e mjetit nëse dështon freni punues.

5083. Cilat janë pajisjet e obligueshme që duhet të ketë automjeti i udhëtarëve (vetura) ?

- Trekëndëshi i sigurisë.
- Jeleku reflektues.
- Friksioni (kuplungu).

5084. Cilat janë pajisjet e obligueshme që duhet të ketë automjeti i udhëtarëve (vetura) ?

- Trekëndëshi i sigurisë.
- Poqat rezervë.
- Litari për tërheqje.

5085. Cilat janë pajisjet e transmisionit?

- Ndërruesi i shpejtësisë.
- Boshti i karadanit.
- Friksioni (kuplungu).

5086. Në cilat raste përjashtohet e drejta e kompensimit në rast aksidenti?

- Personi i cili e ka drejtuar mjetin pa patentë shofer valid.
- Personi i cili e ka drejtuar mjetin nën ndikimin e alkoolit.
- Personi i cili ka drejtuar mjetin nën ndikimin e drogës apo të narkotikëve tjerë.

5087. Për çka shërben “Kartoni i Gjelbër” ?

- Për sigurimin e mjetit për udhëtim jashtë vendit.
- Për kryrjen e kontrollit teknik të mjetit.
- Për sigurimin e mjetit vetëm brenda vendit.

5088. Parimisht cila dëme që i ka shkaktuar mjeti i mbulon sigurimi nga autopërgjegjësia?

- Dëmet që mjeti u shkakton të tjerëve.
- Të gjitha dëme pa marr parasysh shkaktarin e shkakimit të aksidentit.
- Vetëm dëmet që janë shkaktuar në mjetin më të ri se dy vite.

5089. **Cilat pajisje mundësojnë shikueshmërinë e mirë nga mjeti?**

- Xhami i përparmë (erëmbrojtësi).
- Fshesat për pastrimin e xhamit erëmbrojtës.
- Pasqyrat.

5090. **Për çka shërben freni ndihmës te mjeti?**

- Për rritje të efikasitetit të frenit punues.
- Për moslëvizje të mjetit të ndalur apo të parkuar.
- Për ndalje të mjetit në rast dështimit të frenit punues.

5091. **Si duhet të jenë pneumatikët (gomat) në të njëjtin bosht?**

- Të njëjta sipas llojit.
- Të njëjta sipas prodhuesit.
- Të njëjta sipas bartjes dhe dimensioneve.

5092. **Në cilat raste dërgohet mjeti në kontrollim të jashtëzakonshëm teknik?**

- Nëse mjeti ka marrë pjesë në aksident me fatalitet.
- Nëse ekziston dyshimi i bazuar se nuk është në gjendje teknike të rregullt.
- Nëse mjeti ka marrë pjesë në aksident me dëme të vogla materiale.

5093. **Cilat janë pajisjet që mundësojnë punën e motorit?**

- Pajisjet për furnizim me karburant.
- Pajisjet për ftohje.
- Trekëndëshi i sigurisë.

5094. **Cilat janë shkaqet e mundshme që timoni dridhet gjatë ngasjes?**

- Shtypja e ajrit në pneumatikët (gomat) në boshtin e përparmë nuk është e nejtë.
- Lëvizja e timonit mbi kufijtë e lejuar.
- Rrotat e pabalancuara.

5095. **Cilat janë pajisjet dimërore te automjetit të udhëtarëve (veturës)?**

- Gomat M+S.
- Zinxhirët për borë.
- Lopata.

5096. **Cilat janë shkaqet e mundshme që në tablen kontrolluese ndizet shenja e “vajit të motorit” ?**

- Sasia e pamjaftueshme e vajit të motorit.
- Pompa e vajit nuk funksionon.
- Katalizatori nuk funksionon.